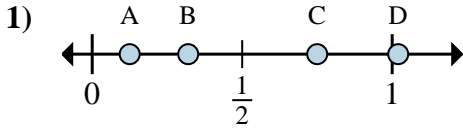


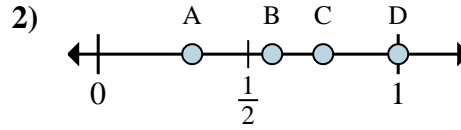


Déterminez quelle lettre représente la situation de la fraction sur la droite numérique.

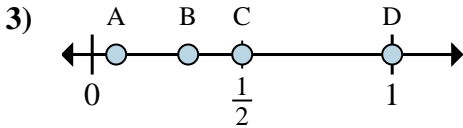
**Réponses**



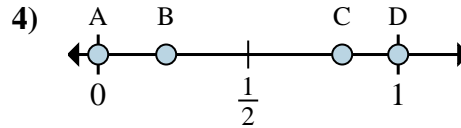
- a. Quelle lettre représente le mieux  $\frac{1}{8}$   
 b. Quelle lettre représente le mieux  $\frac{6}{8}$



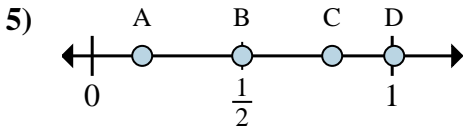
- a. Quelle lettre représente le mieux  $\frac{3}{4}$   
 b. Quelle lettre représente le mieux  $\frac{4}{4}$



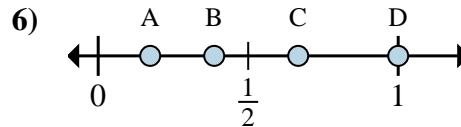
- a. Quelle lettre représente le mieux  $\frac{8}{8}$   
 b. Quelle lettre représente le mieux  $\frac{4}{8}$



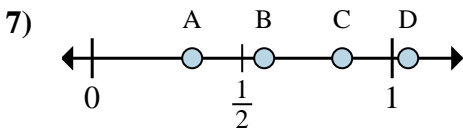
- a. Quelle lettre représente le mieux  $\frac{0}{2}$   
 b. Quelle lettre représente le mieux  $\frac{2}{2}$



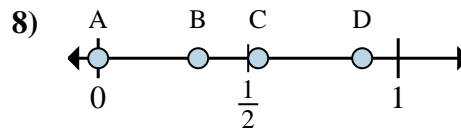
- a. Quelle lettre représente le mieux  $\frac{1}{6}$   
 b. Quelle lettre représente le mieux  $\frac{3}{6}$



- a. Quelle lettre représente le mieux  $\frac{2}{3}$   
 b. Quelle lettre représente le mieux  $\frac{3}{3}$



- a. Quelle lettre représente le mieux  $\frac{5}{6}$   
 b. Quelle lettre représente le mieux  $\frac{2}{6}$



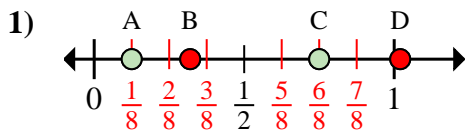
- a. Quelle lettre représente le mieux  $\frac{0}{3}$   
 b. Quelle lettre représente le mieux  $\frac{1}{3}$

1. \_\_\_\_\_  
 2. \_\_\_\_\_  
 3. \_\_\_\_\_  
 4. \_\_\_\_\_  
 5. \_\_\_\_\_  
 6. \_\_\_\_\_  
 7. \_\_\_\_\_  
 8. \_\_\_\_\_

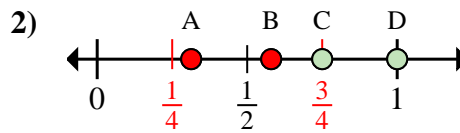


Déterminez quelle lettre représente la situation de la fraction sur la droite numérique.

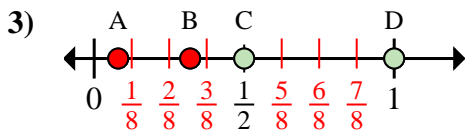
**Réponses**



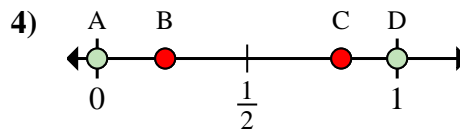
- a. Quelle lettre représente le mieux  $\frac{1}{8}$   
 b. Quelle lettre représente le mieux  $\frac{6}{8}$



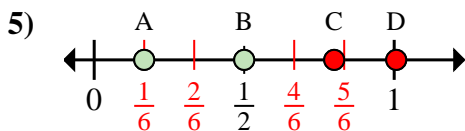
- a. Quelle lettre représente le mieux  $\frac{3}{4}$   
 b. Quelle lettre représente le mieux  $\frac{4}{4}$



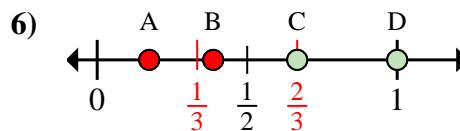
- a. Quelle lettre représente le mieux  $\frac{8}{8}$   
 b. Quelle lettre représente le mieux  $\frac{4}{8}$



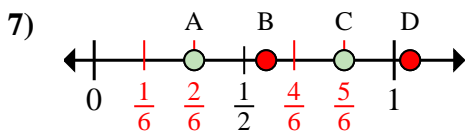
- a. Quelle lettre représente le mieux  $\frac{0}{2}$   
 b. Quelle lettre représente le mieux  $\frac{2}{2}$



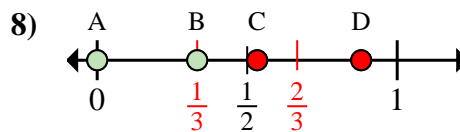
- a. Quelle lettre représente le mieux  $\frac{1}{6}$   
 b. Quelle lettre représente le mieux  $\frac{3}{6}$



- a. Quelle lettre représente le mieux  $\frac{2}{3}$   
 b. Quelle lettre représente le mieux  $\frac{3}{3}$



- a. Quelle lettre représente le mieux  $\frac{5}{6}$   
 b. Quelle lettre représente le mieux  $\frac{2}{6}$



- a. Quelle lettre représente le mieux  $\frac{0}{3}$   
 b. Quelle lettre représente le mieux  $\frac{1}{3}$

1. A C  
 2. C D  
 3. D C  
 4. A D  
 5. A B  
 6. C D  
 7. C A  
 8. A B