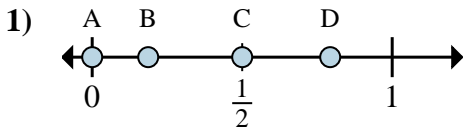


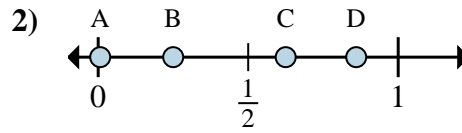


Déterminez quelle lettre représente la situation de la fraction sur la droite numérique.

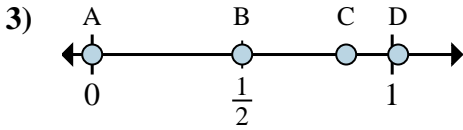
Réponses



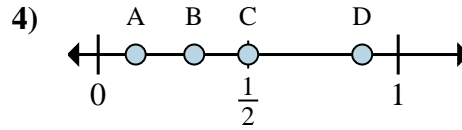
- a. Quelle lettre représente le mieux $\frac{0}{2}$
 b. Quelle lettre représente le mieux $\frac{1}{2}$



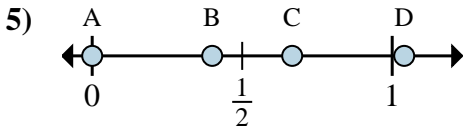
- a. Quelle lettre représente le mieux $\frac{2}{8}$
 b. Quelle lettre représente le mieux $\frac{5}{8}$



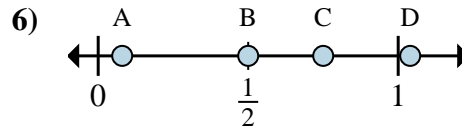
- a. Quelle lettre représente le mieux $\frac{0}{6}$
 b. Quelle lettre représente le mieux $\frac{3}{6}$



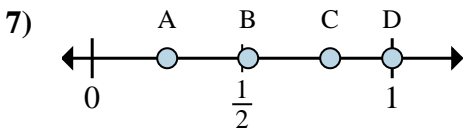
- a. Quelle lettre représente le mieux $\frac{1}{8}$
 b. Quelle lettre représente le mieux $\frac{4}{8}$



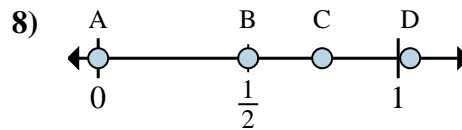
- a. Quelle lettre représente le mieux $\frac{0}{3}$
 b. Quelle lettre représente le mieux $\frac{2}{3}$



- a. Quelle lettre représente le mieux $\frac{2}{4}$
 b. Quelle lettre représente le mieux $\frac{3}{4}$



- a. Quelle lettre représente le mieux $\frac{1}{4}$
 b. Quelle lettre représente le mieux $\frac{4}{4}$



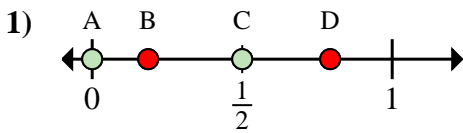
- a. Quelle lettre représente le mieux $\frac{0}{2}$
 b. Quelle lettre représente le mieux $\frac{1}{2}$

1. _____
 2. _____
 3. _____
 4. _____
 5. _____
 6. _____
 7. _____
 8. _____

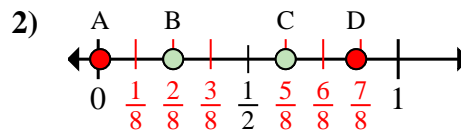


Déterminez quelle lettre représente la situation de la fraction sur la droite numérique.

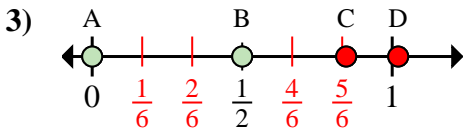
Réponses



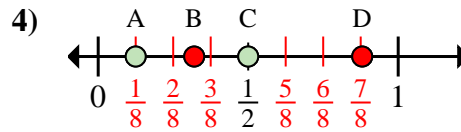
- a. Quelle lettre représente le mieux $\frac{0}{2}$
 b. Quelle lettre représente le mieux $\frac{1}{2}$



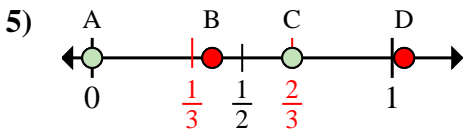
- a. Quelle lettre représente le mieux $\frac{2}{8}$
 b. Quelle lettre représente le mieux $\frac{5}{8}$



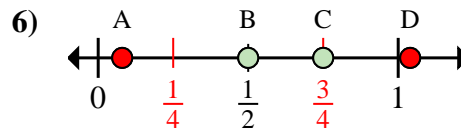
- a. Quelle lettre représente le mieux $\frac{0}{6}$
 b. Quelle lettre représente le mieux $\frac{3}{6}$



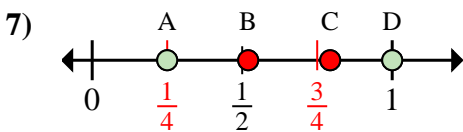
- a. Quelle lettre représente le mieux $\frac{1}{8}$
 b. Quelle lettre représente le mieux $\frac{4}{8}$



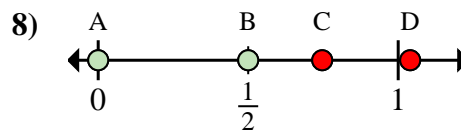
- a. Quelle lettre représente le mieux $\frac{0}{3}$
 b. Quelle lettre représente le mieux $\frac{2}{3}$



- a. Quelle lettre représente le mieux $\frac{2}{4}$
 b. Quelle lettre représente le mieux $\frac{3}{4}$



- a. Quelle lettre représente le mieux $\frac{1}{4}$
 b. Quelle lettre représente le mieux $\frac{4}{4}$



- a. Quelle lettre représente le mieux $\frac{0}{2}$
 b. Quelle lettre représente le mieux $\frac{1}{2}$

1. A C
 2. B C
 3. A B
 4. A C
 5. A C
 6. B C
 7. A D
 8. A B