





Partitionnez chaque cercle et indiquez leur valeur.


Ex) *Partitionnez la figure en 6 quartiers égaux et indiquez leur valeur en fraction.*




2) *Partitionnez la figure en 3 quartiers égaux et indiquez leur valeur en fraction.*




4) *Partitionnez la figure en 4 quartiers égaux et indiquez leur valeur en fraction.*




6) *Partitionnez la figure en 2 quartiers égaux et indiquez leur valeur en fraction.*




8) *Partitionnez la figure en 8 quartiers égaux et indiquez leur valeur en fraction.*



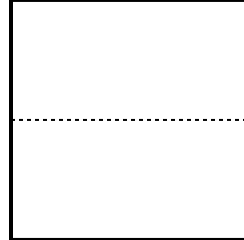
1) *Partitionnez la figure en 2 quartiers égaux et indiquez leur valeur en fraction.*




3) *Partitionnez la figure en 8 quartiers égaux et indiquez leur valeur en fraction.*




5) *Partitionnez la figure en 4 quartiers égaux et indiquez leur valeur en fraction.*



7) *Partitionnez la figure en 3 quartiers égaux et indiquez leur valeur en fraction.*



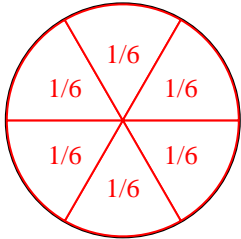
9) *Partitionnez la figure en 6 quartiers égaux et indiquez leur valeur en fraction.*



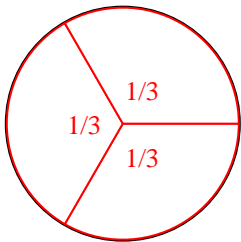


Partitionnez chaque cercle et indiquez leur valeur.

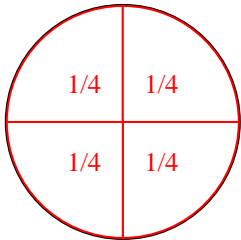
- Ex)** *Partitionnez la figure en 6 quartiers égaux et indiquez leur valeur en fraction.*




- 2)** *Partitionnez la figure en 3 quartiers égaux et indiquez leur valeur en fraction.*



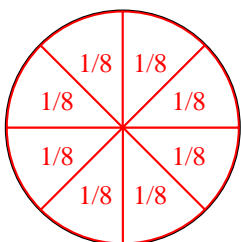
- 4)** *Partitionnez la figure en 4 quartiers égaux et indiquez leur valeur en fraction.*




- 6)** *Partitionnez la figure en 2 quartiers égaux et indiquez leur valeur en fraction.*



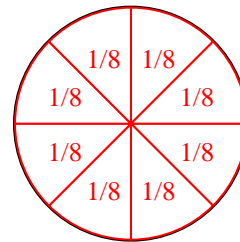
- 8)** *Partitionnez la figure en 8 quartiers égaux et indiquez leur valeur en fraction.*



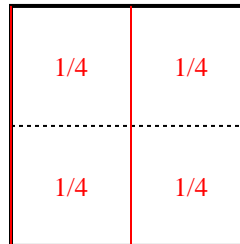
- 1)** *Partitionnez la figure en 2 quartiers égaux et indiquez leur valeur en fraction.*



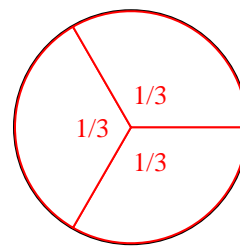
- 3)** *Partitionnez la figure en 8 quartiers égaux et indiquez leur valeur en fraction.*



- 5)** *Partitionnez la figure en 4 quartiers égaux et indiquez leur valeur en fraction.*



- 7)** *Partitionnez la figure en 3 quartiers égaux et indiquez leur valeur en fraction.*



- 9)** *Partitionnez la figure en 6 quartiers égaux et indiquez leur valeur en fraction.*

