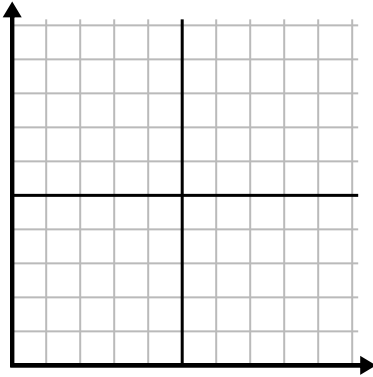




Remplissez la grille à l'aide du graphique.

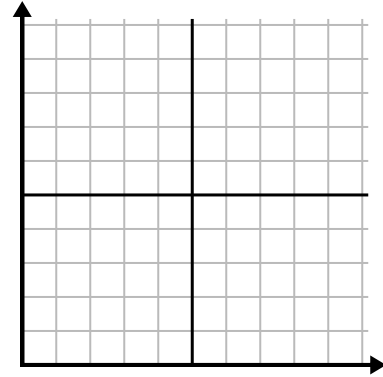
1)

La semaine	1	2	3	4	5	6	7
Heures de télévision regardées	50	25	45	10	15	30	35



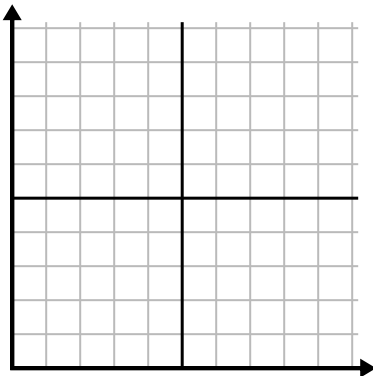
2)

Jour	1	2	3	4	5	6
Textes envoyés	20	5	50	30	10	15



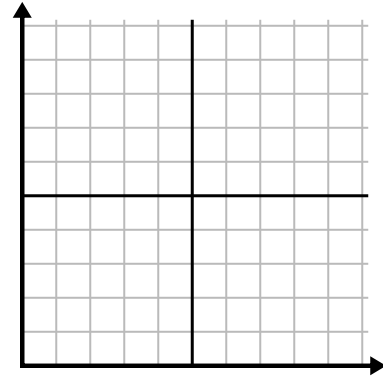
3)

Jour	1	2	3	4	5	6
Vidéos Youtube regardées	300	240	60	210	180	270



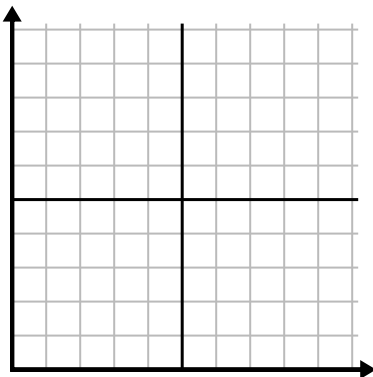
4)

Jour	1	2	3	4	5
Argent dépensé	5	6	7	10	3



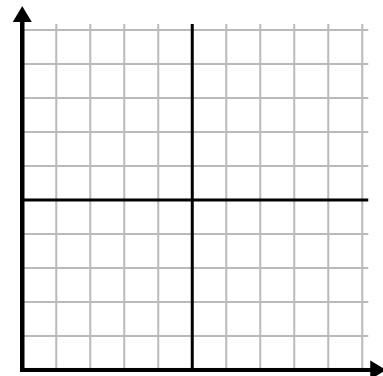
5)

Heure	1	2	3	4	5	6	7
Montant vendu	8	1	6	10	3	7	4



6)

Mois	1	2	3	4	5
Prix ??de la facture d'électricité	125	200	150	25	75

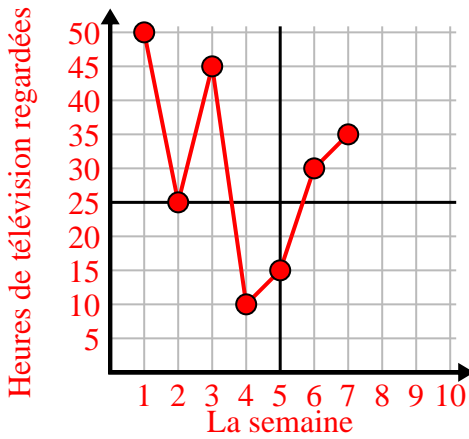




Remplissez la grille à l'aide du graphique.

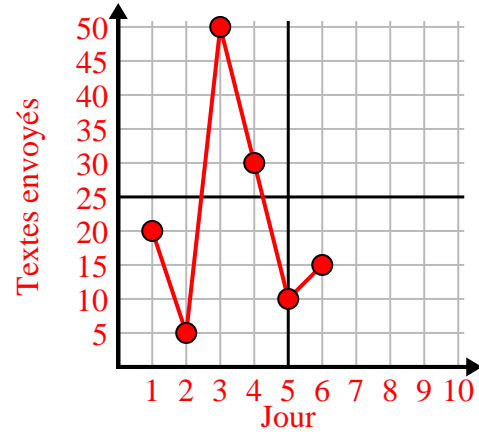
1)

La semaine	1	2	3	4	5	6	7
Heures de télévision regardées	50	25	45	10	15	30	35



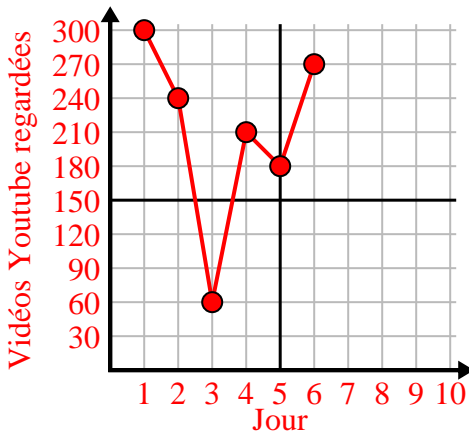
2)

Jour	1	2	3	4	5	6
Textes envoyés	20	5	50	30	10	15



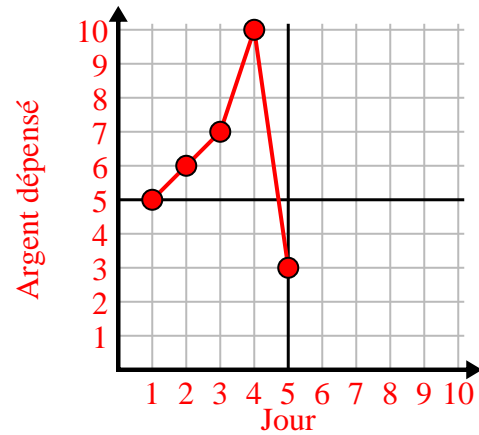
3)

Jour	1	2	3	4	5	6
Vidéos Youtube regardées	300	240	60	210	180	270



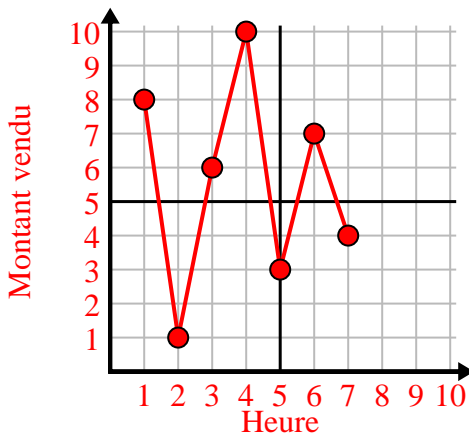
4)

Jour	1	2	3	4	5
Argent dépensé	5	6	7	10	3



5)

Heure	1	2	3	4	5	6	7
Montant vendu	8	1	6	10	3	7	4



6)

Mois	1	2	3	4	5
Prix ?? de la facture d'électricité	125	200	150	25	75

