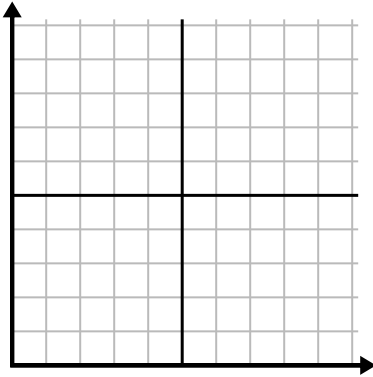




Remplissez la grille à l'aide du graphique.

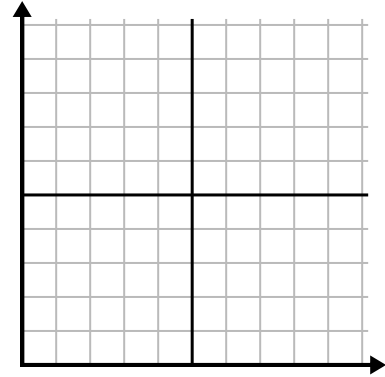
1)

Mois	1	2	3	4	5	6
Prix ??de la facture d'électricité	175	50	250	200	100	150



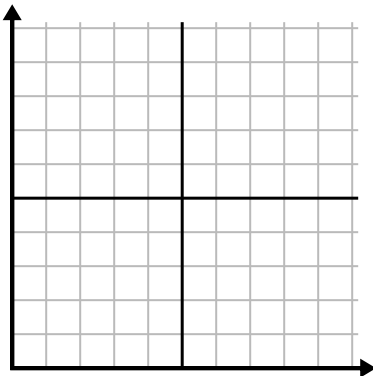
2)

Jour	1	2	3	4	5
Repas vendus	900	300	600	1 000	400



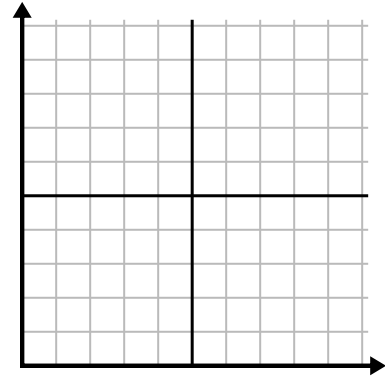
3)

La semaine	1	2	3	4	5	6	7
Heures de télévision regardées	15	30	50	35	10	25	45



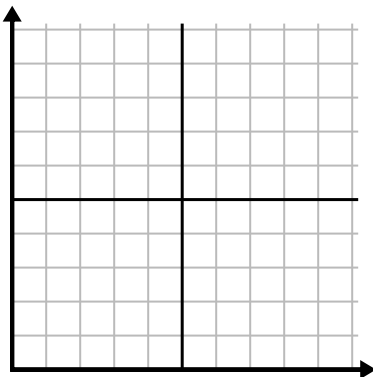
4)

Heure	1	2	3	4	5
Montant vendu	2	3	8	1	4



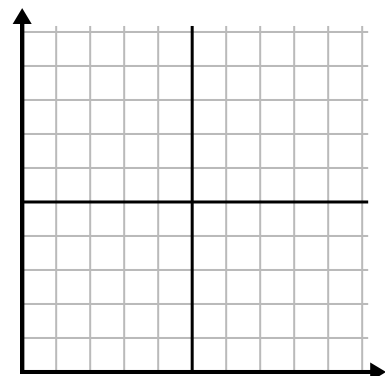
5)

Jour	1	2	3	4	5
Calories brûlées	200	180	40	80	120



6)

Année	1	2	3	4	5	6
Cartouches d'encre utilisées	18	20	14	16	12	8

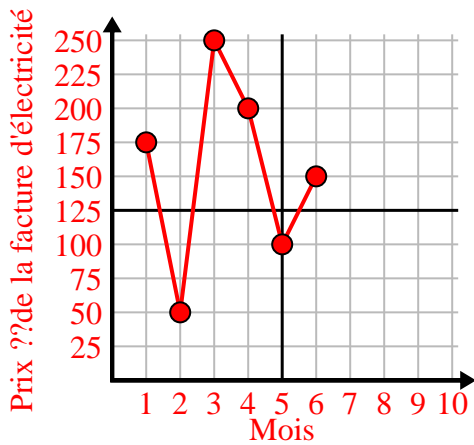




Remplissez la grille à l'aide du graphique.

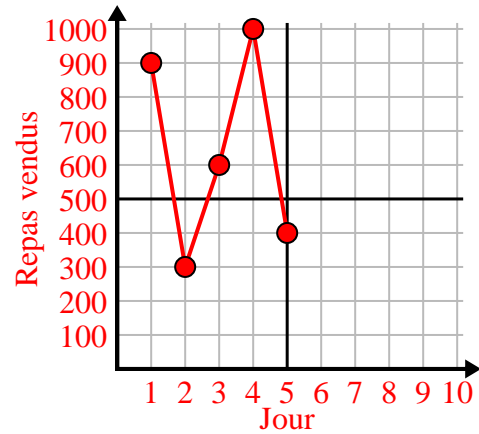
1)

Mois	1	2	3	4	5	6
Prix ??de la facture d'électricité	175	50	250	200	100	150



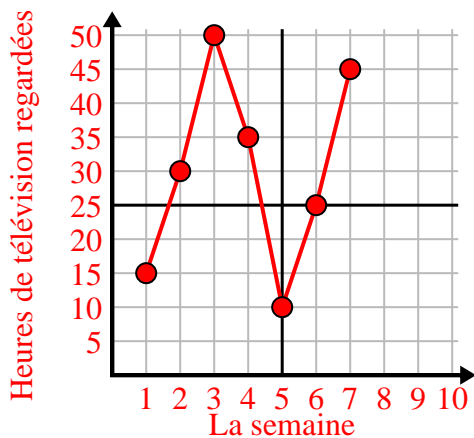
2)

Jour	1	2	3	4	5
Repas vendus	900	300	600	1 000	400



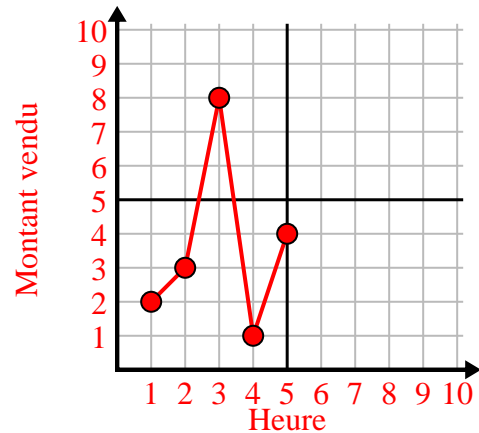
3)

La semaine	1	2	3	4	5	6	7
Heures de télévision regardées	15	30	50	35	10	25	45



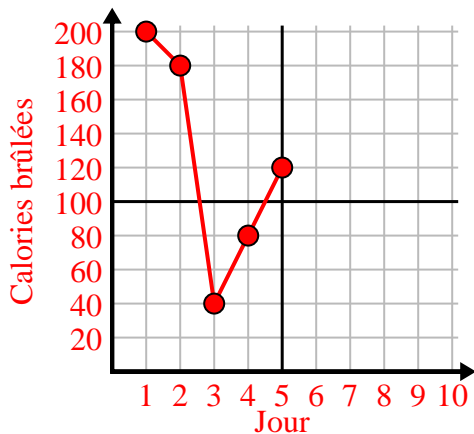
4)

Heure	1	2	3	4	5
Montant vendu	2	3	8	1	4



5)

Jour	1	2	3	4	5
Calories brûlées	200	180	40	80	120



6)

Année	1	2	3	4	5	6
Cartouches d'encre utilisées	18	20	14	16	12	8

