

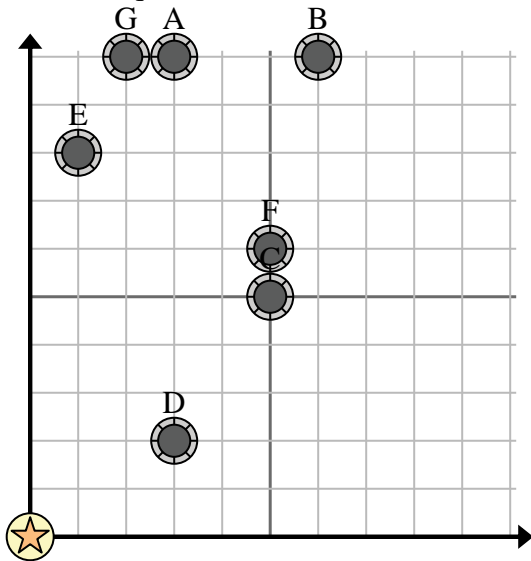


Utilisez la grille pour résoudre chaque problème.

= bien

= Château d'eau

= 1 Square Mile



- 1) Une nouvelle loi dit que vous ne pouvez pas construire un puits à moins de 2 milles d'un puits préexistant. Si vous vouliez construire un puits à { _EST_ } milles à l'est et 9 milles au nord du château d'eau, en auriez-vous le droit ?
- 2) Quel puits est le plus proche du château d'eau ?
- 3) Quel puits est le plus éloigné du château d'eau ?
- 4) Quel puits est plus loin west ? Eh bien B ou bien A ?
- 5) Si vous deviez aller à { _EST_ } milles à l'est et 10 milles au nord du château d'eau, à quel puits vous retrouveriez-vous ?

Réponses

1. _____
2. _____
3. _____
4. _____
5. _____
6. _____
7. _____
8. _____
9. _____
10. _____

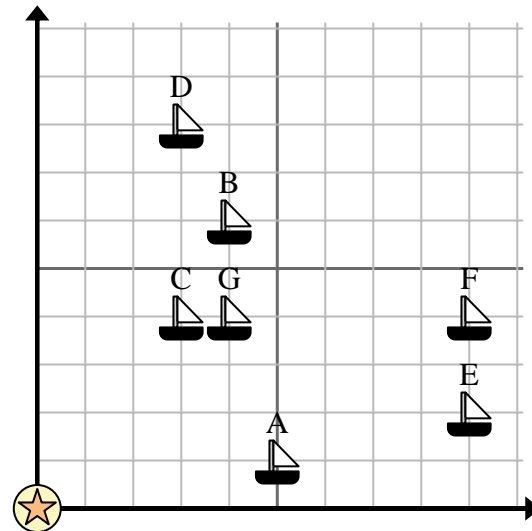
- 6) Un nouveau navire voulait pêcher, mais le capitaine voulait s'assurer qu'ils se trouvaient à au moins 2 milles d'un autre navire. S'il naviguait 7 milles à l'est et 10 milles au nord, cet endroit lui conviendrait-il ?

= Bateau

= Bouée

= 1 Square Mile

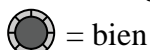
- 7) Quel navire est le plus proche de la bouée ?
- 8) Quel navire est le plus éloigné de la bouée ?
- 9) Quel navire est plus loin east ? Expédier B ou expédier C ?



- 10) Quel navire se trouve à 4 milles à l'est et 4 milles au nord de la bouée ?



Utilisez la grille pour résoudre chaque problème.



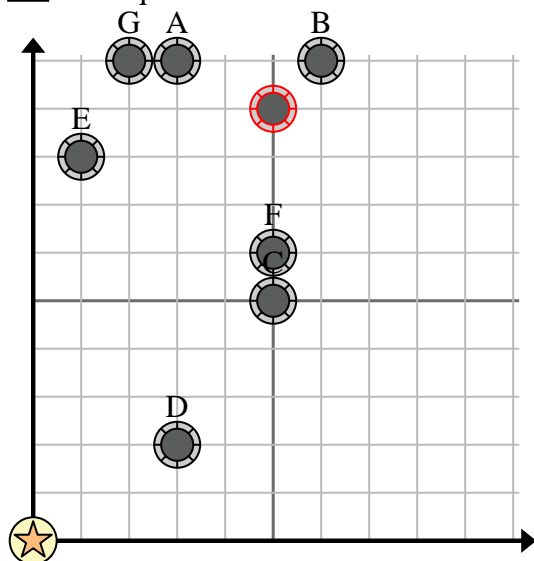
= bien



= Château d'eau



= 1 Square Mile

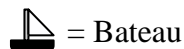


- 1) Une nouvelle loi dit que vous ne pouvez pas construire un puits à moins de 2 milles d'un puits préexistant. Si vous vouliez construire un puits à {_EST_} milles à l'est et 9 milles au nord du château d'eau, en auriez-vous le droit ?
- 2) Quel puits est le plus proche du château d'eau ?
- 3) Quel puits est le plus éloigné du château d'eau ?
- 4) Quel puits est plus loin west ? Eh bien B ou bien A ?
- 5) Si vous deviez aller à {_EST_} milles à l'est et 10 milles au nord du château d'eau, à quel puits vous retrouveriez-vous ?

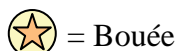
Réponses

1. **non**
2. **D**
3. **B**
4. **A**
5. **G**
6. **oui**
7. **C**
8. **F**
9. **B**
10. **G**

- 6) Un nouveau navire voulait pêcher, mais le capitaine voulait s'assurer qu'ils se trouvaient à au moins 2 milles d'un autre navire. S'il naviguait 7 milles à l'est et 10 milles au nord, cet endroit lui conviendrait-il ?



= Bateau

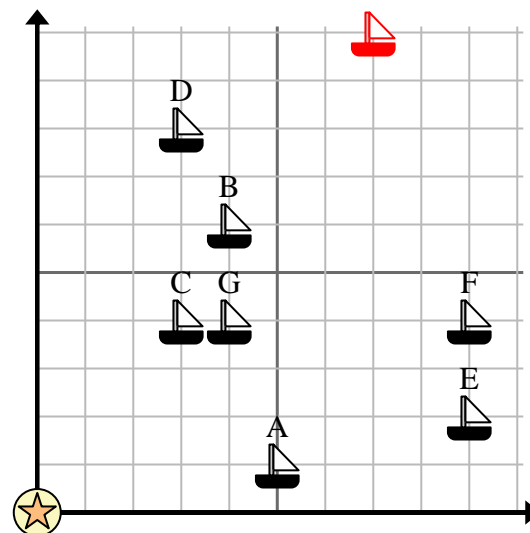


= Bouée



= 1 Square Mile

- 7) Quel navire est le plus proche de la bouée ?
- 8) Quel navire est le plus éloigné de la bouée ?
- 9) Quel navire est plus loin east ? Expédier B ou expédier C ?



- 10) Quel navire se trouve à 4 milles à l'est et 4 milles au nord de la bouée ?