



Mesurez chaque barre (en centimètres) et de ces données générez un diagramme de points.

Réponses



1. _____



2. _____



3. _____



4. _____



5. _____



6. _____



7. _____



8. _____



9. _____



10. _____



11. _____



12. _____



13. _____



14. _____



15. _____

Line Plot



Mesurez chaque barre (en centimètres) et de ces données générez un diagramme de points.

Réponses

1)  6

1. 6

2)  6

2. 6

3)  9

3. 9

4)  6


4. 6

5)  6

5. 6

6)  6

6. 6

7)  6


7. 6

8)  9


8. 9

9)  9

9. 9

10)  9

10. 9

11)  6

11. 6

12)  6

12. 6

13)  2

13. 2

14)  9

14. 9

15)  3

15. 3

