



Résoudre chaque problème.

Utilisez le graphique à droite pour trouver les éléments suivants (si possible) :

1) A Line _____

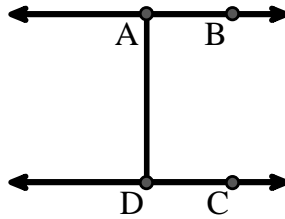
2) Parallel Lines _____

3) Perpendicular Lines _____

4) A Segment _____

5) Intersecting Lines _____

6) A Ray _____



Réponses

1. _____
2. _____
3. _____
4. _____
5. _____
6. _____
7. _____
8. _____



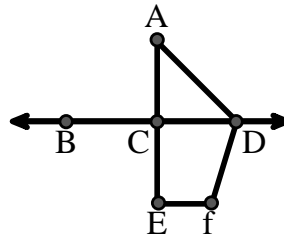
Utilisez le graphique à droite pour trouver les éléments suivants (si possible) :

7) Acute Angle _____

8) Straight Angle _____

9) Obtuse Angle _____

10) Right Angle _____



9. _____
10. _____
11. graph
12. graph
13. graph
14. graph
15. graph

Utilisez la matrice de points pour dessiner les éléments suivants :


11) Segment \overline{AC}

12) Straight Angle $\angle ABC$

13) Segment \overleftrightarrow{BD} perpendicular to \overline{BC}

14) Segment \overleftrightarrow{CE} parallel to segment \overline{BD}

15) Line \overleftrightarrow{FG} parallel to angle $\angle ABC$

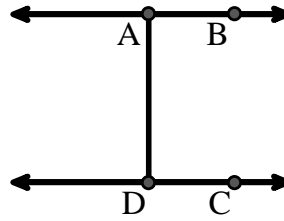




Résoudre chaque problème.

Utilisez le graphique à droite pour trouver les éléments suivants (si possible) :

- 1) A Line $\overleftrightarrow{AB}, \overleftrightarrow{CD}$
- 2) Parallel Lines $(\overleftrightarrow{A} \& \overleftrightarrow{B}), (\overleftrightarrow{C} \& \overleftrightarrow{D}), (\overleftrightarrow{A} \& \overleftrightarrow{D})$
- 3) Perpendicular Lines _____
- 4) A Segment $\overline{AB}, \overline{CD}, \overline{AD}$
- 5) Intersecting Lines _____
- 6) A Ray $\overrightarrow{AB}, \overrightarrow{BA}, \overrightarrow{DC}, \overrightarrow{CD}$

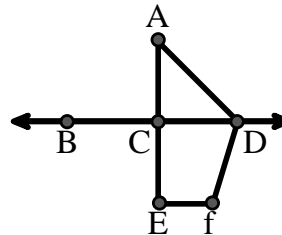


Réponses

1. \overleftrightarrow{AB}
2. $(\overleftrightarrow{A} \& \overleftrightarrow{B})$
3. aucune
4. \overline{AB}
5. aucune
6. \overrightarrow{AB}

Utilisez le graphique à droite pour trouver les éléments suivants (si possible) :

- 7) Acute Angle $\angle CAD$
- 8) Straight Angle $\angle BCD, \angle ACE$
- 9) Obtuse Angle $\angle ADF, \angle DFE$
- 10) Right Angle $\angle ACD, \angle CEF, \angle DCE$



7. $\angle CAD$
8. $\angle BCD$
9. $\angle ADF$
10. $\angle ACD$
11. graph
12. graph
13. graph
14. graph
15. graph

Utilisez la matrice de points pour dessiner les éléments suivants :

- 11) Segment \overline{AC}
- 12) Straight Angle $\angle ABC$
- 13) Segment \overleftrightarrow{BD} perpendicular to \overline{BC}
- 14) Segment \overleftrightarrow{CE} parallel to segment \overline{BD}
- 15) Line \overleftrightarrow{FG} parallel to angle $\angle ABC$

