



Mesurez la longueur et la largeur de chaque barre en centimètres.


Ex)



1)




2)



3)



4)



Réponses

Ex. 0 1/2 1 1,3 2,5

1.

2.

3.

4.




Mesurez la longueur et la largeur de chaque barre en centimètres.


Ex)



1)




2)



3)



4)



Réponses

Ex. $0\frac{1}{2}$ **1** 1,3 2,5

1. $4\frac{1}{2}$ $1\frac{1}{2}$ 11,4 **3,8**

2. **2** $1\frac{1}{2}$ 5,1 3,8

3. **3** $0\frac{1}{2}$ 7,6 1,3

4. $3\frac{1}{2}$ **1** 8,9 2,5