



Mesurez la longueur et la largeur de chaque barre en centimètres.

Ex)



Réponses

Ex. 4 1/2 1 11,4 2,5


1. _____

2. _____

3. _____

4. _____

1)




2)



3)



4)






Mesurez la longueur et la largeur de chaque barre en centimètres.

Ex)



1)




2)



3)



4)



Réponses

Ex. 4 1/2 **1** 11,4 **2,5**

1. 5 1/2 1 1/2 **14** **3,8**

2. **1** 0 1/2 **2,5** **1,3**

3. 1 1/2 0 1/2 **3,8** **1,3**

4. **4** 1 1/2 10,2 **3,8**