



Mesurez la longueur et la largeur de chaque barre en centimètres.

Réponses

Ex)



Ex. 4 1 1/2 10,2 3,8


1. _____

2. _____

3. _____

4. _____

1)




2)



3)



4)






Mesurez la longueur et la largeur de chaque barre en centimètres.

Ex)



1)




2)



3)



4)



Réponses

Ex. 4 1 1/2 10,2 3,8

1. 2 1 1/2 5,1 3,8

2. 3 0 1/2 7,6 1,3

3. 3 1/2 1 1/2 8,9 3,8

4. 0 1/2 0 1/2 1,3 1,3