



Déterminez quelle lettre représente le mieux la longueur / hauteur.

Réponses

Milímetro (mm)

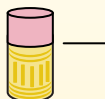
Un milímetro equivale al grosor de una tarjeta de crédito.



Centímetro (cm)

10 mm = 1 cm.

La parte metálica de un lápiz mide aproximadamente 1 cm. Una regla mide unos 30 centímetros.



Metro (m)

100 cm = 1 m

Desde el suelo hasta la perilla de una puerta hay aproximadamente 1 metro.



Kilómetro (km)

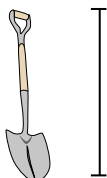
1,000 m = 1 km

La mayoría de las carreteras principales tienen al menos un kilómetro de largo.



1. _____
2. _____
3. _____
4. _____
5. _____
6. _____
7. _____
8. _____
9. _____

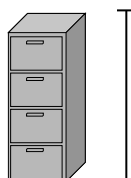
1)



Pelle

- A. 1 meter
- B. 60 centimeters
- C. 3 meters
- D. 30 centimeters


2)



FichierCabinet

- A. 30 centimeters
- B. 60 centimeters
- C. 1.5 millimeters
- D. 30 millimeters


3)



Montagne

- A. 700 millimeters
- B. 3 kilometers
- C. 9 meters
- D. 60 centimeters

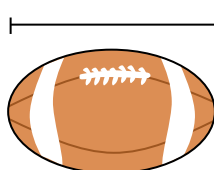
4)



Papier pour cahier

- A. 1 meter
- B. 25 centimeters
- C. 15 centimeters
- D. 60 centimeters

5)



Football

- A. 25 centimeters
- B. 3 centimeters
- C. 60 centimeters
- D. 1 meter


6)



Stylo

- A. 12 centimeters
- B. 30 centimeters
- C. 30 millimeters
- D. 5 meters

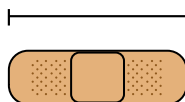
7)



Marteau

- A. 40 centimeters
- B. 1 meter
- C. 10 centimeters
- D. 3 centimeters

8)



Bandage

- A. 9 centimeters
- B. 1 meter
- C. 60 centimeters
- D. 3 kilometers

9)




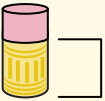
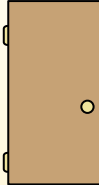

Pop corn

- A. 3 centimeters
- B. 2 kilometers
- C. 3 millimeters
- D. 90 centimeters




Déterminez quelle lettre représente le mieux la longueur / hauteur.

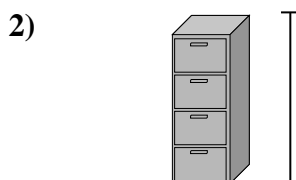
Réponses

Milímetro (mm)	Centímetro (cm)	Metro (m)	Kilómetro (km)
Un milímetro equivale al grosor de una tarjeta de crédito.	10 mm = 1 cm. La parte metálica de un lápiz mide aproximadamente 1 cm. Una regla mide unos 30 centímetros.	100 cm = 1 m Desde el suelo hasta la perilla de una puerta hay aproximadamente 1 metro.	1,000 m = 1 km La mayoría de las carreteras principales tienen al menos un kilómetro de largo.
			


1. **A**
2. **C**
3. **B**
4. **B**
5. **A**
6. **A**
7. **A**
8. **A**
9. **A**




- Pelle
- A. 1 meter
 - B. 60 centimeters
 - C. 3 meters
 - D. 30 centimeters



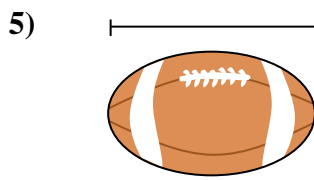
- FichierCabinet
- A. 30 centimeters
 - B. 60 centimeters
 - C. 1.5 millimeters
 - D. 30 millimeters



- Montagne
- A. 700 millimeters
 - B. 3 kilometers
 - C. 9 meters
 - D. 60 centimeters




- Papier pour cahier
- A. 1 meter
 - B. 25 centimeters
 - C. 15 centimeters
 - D. 60 centimeters



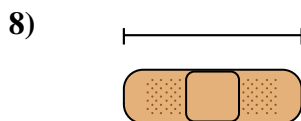
- Football
- A. 25 centimeters
 - B. 3 centimeters
 - C. 60 centimeters
 - D. 1 meter




- Stylo
- A. 12 centimeters
 - B. 30 centimeters
 - C. 30 millimeters
 - D. 5 meters



- Marteau
- A. 40 centimeters
 - B. 1 meter
 - C. 10 centimeters
 - D. 3 centimeters



- Bandage
- A. 9 centimeters
 - B. 1 meter
 - C. 60 centimeters
 - D. 3 kilometers



- Pop corn
- A. 3 centimeters
 - B. 2 kilometers
 - C. 3 millimeters
 - D. 90 centimeters