



Utilisez l'unité de mesure fournie pour effectuer mesurer les longueur de chaque rectangle.

Réponses



1. _____




2. _____



3. _____



4. _____



5. _____



6. _____



7. _____



8. _____



9. _____



10. _____



Utilisez l'unité de mesure fournie pour effectuer mesurer les longueur de chaque rectangle.


Réponses



1. 10




2. 1



3. 9



4. 2



5. 4



6. 3



7. 12



8. 7



9. 11



10. 6