




Utilisez l'unité de mesure fournie pour effectuer mesurer les longueur de chaque rectangle.

Réponses



1. _____



2. _____



3. _____



4. _____



5. _____



6. _____



7. _____



8. _____



9. _____



10. _____




Utilisez l'unité de mesure fournie pour effectuer mesurer les longueur de chaque rectangle.

Réponses



1. 2



2. 1



3. 15



4. 4



5. 12



6. 9



7. 8



8. 6




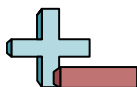
9. 11



10. 14

Cut out and use the units shown to measure the bars on the previous page.





Utilisez l'unité de mesure fournie pour effectuer mesurer les longueur de chaque rectangle.

Réponses



1. _____



2. _____



3. _____



4. _____



5. _____



6. _____



7. _____



8. _____



9. _____



10. _____



Utilisez l'unité de mesure fournie pour effectuer mesurer les longueur de chaque rectangle.

Réponses



1. 10



2. 1




3. 9



4. 2



5. 4



6. 3



7. 12



8. 7




9. 11



10. 6

Cut out and use the units shown to measure the bars on the previous page.





Utilisez l'unité de mesure fournie pour effectuer mesurer les longueur de chaque rectangle.

Réponses



1. _____



2. _____



3. _____



4. _____



5. _____



6. _____



7. _____



8. _____



9. _____



10. _____



Utilisez l'unité de mesure fournie pour effectuer mesurer les longueur de chaque rectangle.

Réponses



1. 9



2. 13



3. 2



4. 4



5. 1



6. 8



7. 3



8. 5




9. 14



10. 12

Cut out and use the units shown to measure the bars on the previous page.





Utilisez l'unité de mesure fournie pour effectuer mesurer les longueur de chaque rectangle.

Réponses



1. _____



2. _____



3. _____



4. _____



5. _____



6. _____



7. _____



8. _____



9. _____



10. _____



Utilisez l'unité de mesure fournie pour effectuer mesurer les longueur de chaque rectangle.

Réponses



1. 8



2. 2



3. 3



4. 10



5. 7



6. 9



7. 4



8. 5




9. 1



10. 6

Cut out and use the units shown to measure the bars on the previous page.





Utilisez l'unité de mesure fournie pour effectuer mesurer les longueur de chaque rectangle.

Réponses



1. _____



2. _____



3. _____



4. _____



5. _____



6. _____



7. _____



8. _____



9. _____



10. _____



Utilisez l'unité de mesure fournie pour effectuer mesurer les longueur de chaque rectangle.

Réponses



1. 10



2. 1



3. 4



4. 3



5. 6



6. 8



7. 9



8. 11




9. 5



10. 13


Cut out and use the units shown to measure the bars on the previous page.





Utilisez l'unité de mesure fournie pour effectuer mesurer les longueur de chaque rectangle.

Réponses



1. _____



2. _____



3. _____



4. _____



5. _____



6. _____



7. _____



8. _____



9. _____



10. _____



Utilisez l'unité de mesure fournie pour effectuer mesurer les longueur de chaque rectangle.

Réponses



1. 1



2. 7



3. 11



4. 8



5. 2



6. 14



7. 12



8. 6




9. 10



10. 5

Cut out and use the units shown to measure the bars on the previous page.






Utilisez l'unité de mesure fournie pour effectuer mesurer les longueur de chaque rectangle.

Réponses



1. _____



2. _____



3. _____



4. _____



5. _____



6. _____



7. _____



8. _____



9. _____



10. _____



Utilisez l'unité de mesure fournie pour effectuer mesurer les longueur de chaque rectangle.

Réponses



1. 5



2. 10




3. 13




4. 1



5. 11



6. 15



7. 8



8. 14




9. 6



10. 9

Cut out and use the units shown to measure the bars on the previous page.





Utilisez l'unité de mesure fournie pour effectuer mesurer les longueur de chaque rectangle.

Réponses



1. _____



2. _____



3. _____



4. _____



5. _____



6. _____



7. _____



8. _____



9. _____



10. _____



Utilisez l'unité de mesure fournie pour effectuer mesurer les longueur de chaque rectangle.

Réponses



1. 5



2. 6



3. 4



4. 3



5. 10



6. 2



7. 1



8. 8




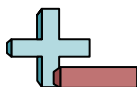
9. 7



10. 9

Cut out and use the units shown to measure the bars on the previous page.





Utilisez l'unité de mesure fournie pour effectuer mesurer les longueur de chaque rectangle.

Réponses



1. _____



2. _____



3. _____



4. _____



5. _____



6. _____



7. _____



8. _____



9. _____



10. _____



Utilisez l'unité de mesure fournie pour effectuer mesurer les longueur de chaque rectangle.

Réponses



1. 7



2. 3



3. 9



4. 1



5. 8



6. 10



7. 4



8. 2

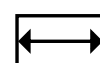
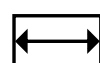
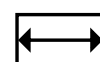
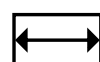
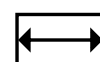
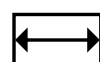
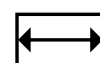
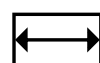
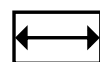
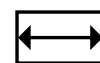
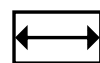
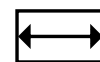
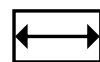
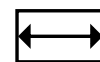
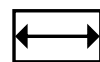
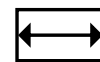
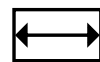
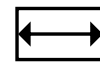
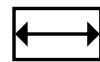
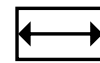
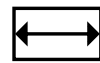
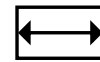
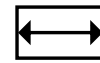
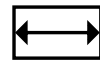
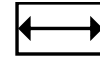
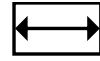


9. 11



10. 5

Cut out and use the units shown to measure the bars on the previous page.





Utilisez l'unité de mesure fournie pour effectuer mesurer les longueur de chaque rectangle.

Réponses



1. _____



2. _____



3. _____



4. _____



5. _____



6. _____



7. _____



8. _____



9. _____



10. _____



Utilisez l'unité de mesure fournie pour effectuer mesurer les longueur de chaque rectangle.

Réponses



1. 10



2. 1



3. 8



4. 7



5. 4



6. 3



7. 2



8. 9



9. 11



10. 6

Cut out and use the units shown to measure the bars on the previous page.

