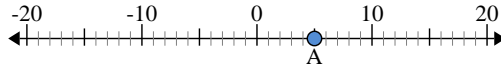




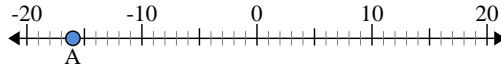
Utilisez les droites numériques pour identifier la valeur absolue.

1) a. Quelle est la valeur de A?



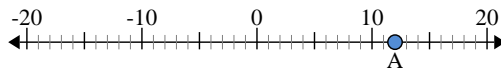
b. Quelle est la distance de A à 0 (valeur absolue)?

2) a. Quelle est la valeur de A?



b. Quelle est la distance de A à 0 (valeur absolue)?

3) a. Quelle est la valeur de A?



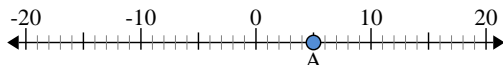
Réponses

1. _____
2. _____
3. _____
4. _____
5. _____
6. _____
7. _____
8. _____
9. _____
10. _____



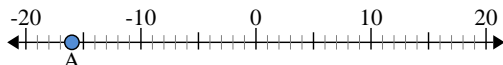
Utilisez les droites numériques pour identifier la valeur absolue.

1) a. Quelle est la valeur de A?



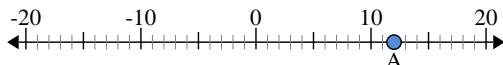
b. Quelle est la distance de A à 0 (valeur absolue)?

2) a. Quelle est la valeur de A?



b. Quelle est la distance de A à 0 (valeur absolue)?

3) a. Quelle est la valeur de A?



Réponses

- 1. 5 5
- 2. -16 16
- 3. 12 12
- 4. 6 6
- 5. -7 7
- 6. 8 8
- 7. -11 11
- 8. -20 20
- 9. -2 2
- 10. 0 0