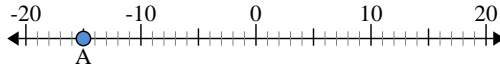




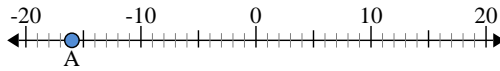
Utilisez les droites numériques pour identifier la valeur absolue.

1) a. Quelle est la valeur de A?



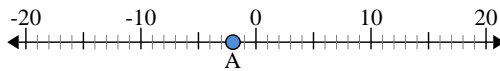
b. Quelle est la distance de A à 0 (valeur absolue)?

2) a. Quelle est la valeur de A?



b. Quelle est la distance de A à 0 (valeur absolue)?

3) a. Quelle est la valeur de A?



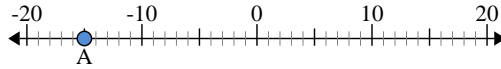
Réponses

1. _____
2. _____
3. _____
4. _____
5. _____
6. _____
7. _____
8. _____
9. _____
10. _____



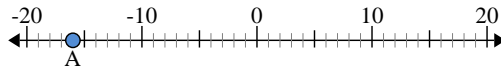
Utilisez les droites numériques pour identifier la valeur absolue.

1) a. Quelle est la valeur de A?



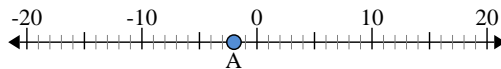
b. Quelle est la distance de A à 0 (valeur absolue)?

2) a. Quelle est la valeur de A?



b. Quelle est la distance de A à 0 (valeur absolue)?

3) a. Quelle est la valeur de A?



Réponses

- 1. -15 15
- 2. -16 16
- 3. -2 2
- 4. 6 6
- 5. -7 7
- 6. 14 14
- 7. -17 17
- 8. 3 3
- 9. -10 10
- 10. 13 13