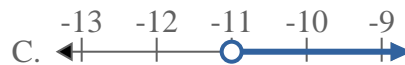
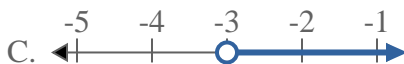
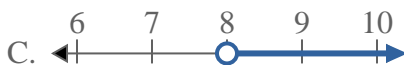
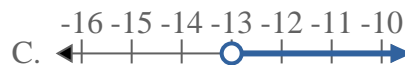
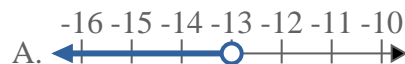




Résoudre chaque problème.

Réponses1) Quelle réponse représente le mieux $X > -5$ 2) Quelle réponse représente le mieux $X \geq 12$ 3) Quelle réponse représente le mieux $X \leq 20$ 4) Quelle réponse représente le mieux $X \geq -11$ 5) Quelle réponse représente le mieux $X > -3$ 6) Quelle réponse représente le mieux $X > 5$ 7) Quelle réponse représente le mieux $X \leq 8$ 8) Quelle réponse représente le mieux $X \leq -13$ 

1. _____

2. _____

3. _____

4. _____

5. _____

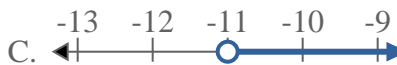
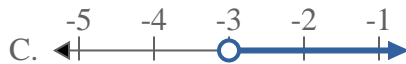
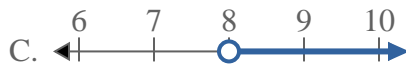
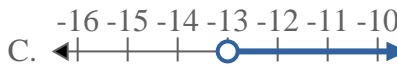
6. _____

7. _____

8. _____



Résoudre chaque problème.

Réponses1) Quelle réponse représente le mieux $X > -5$ 2) Quelle réponse représente le mieux $X \geq 12$ 3) Quelle réponse représente le mieux $X \leq 20$ 4) Quelle réponse représente le mieux $X \geq -11$ 5) Quelle réponse représente le mieux $X > -3$ 6) Quelle réponse représente le mieux $X > 5$ 7) Quelle réponse représente le mieux $X \leq 8$ 8) Quelle réponse représente le mieux $X \leq -13$ 1. **C**2. **D**3. **B**4. **D**5. **C**6. **C**7. **B**8. **B**