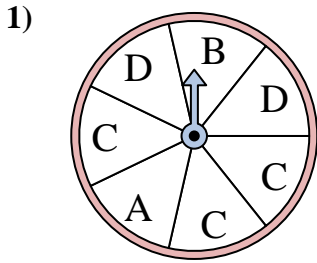
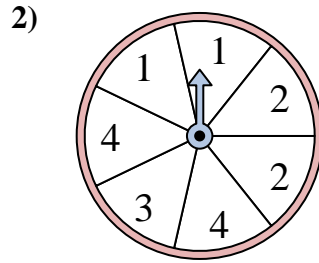




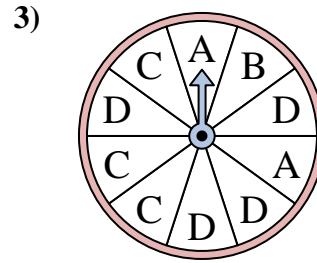
Résoudre chaque problème. Arrondissez votre réponse au dixième près.

**Réponses**

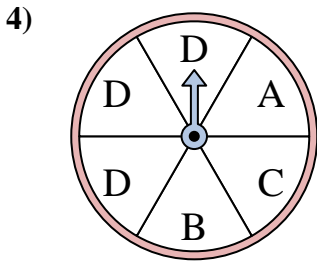
Le spinner a un % de chance {BLANC} d'atterrir sur un D.



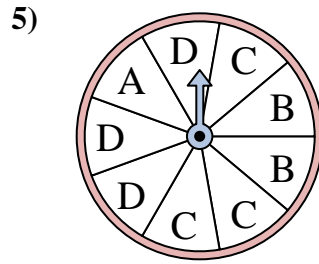
Le spinner a un % de chance {BLANC} d'atterrir sur un 3.



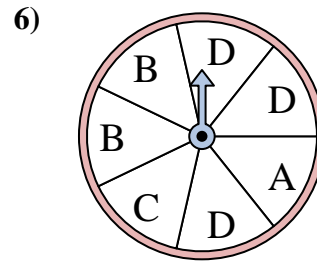
Le spinner a un % de chance {BLANC} d'atterrir sur un B.



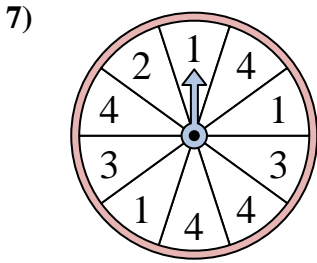
Le spinner a un % de chance {BLANC} d'atterrir sur un B.



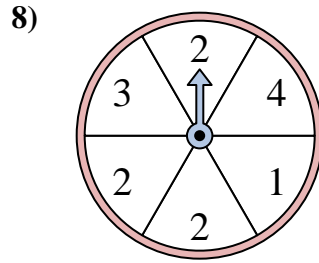
Le spinner a un % de chance {BLANC} d'atterrir sur un C.



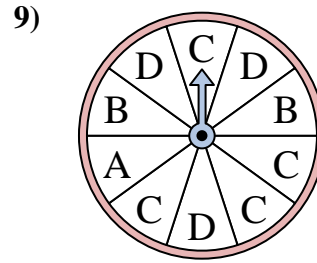
Le spinner a un % de chance {BLANC} d'atterrir sur un B.



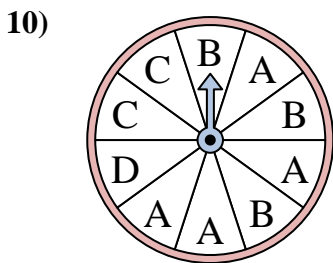
Le spinner a un % de chance {BLANC} d'atterrir sur un 4.



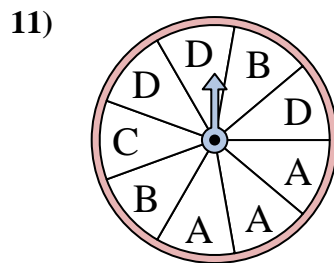
Le spinner a un % de chance {BLANC} d'atterrir sur un 1.



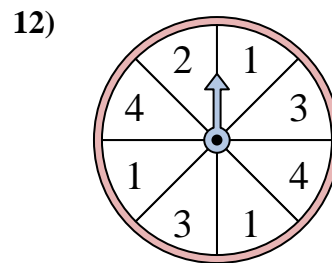
Le spinner a un % de chance {BLANC} d'atterrir sur un C.



Le spinner a un % de chance {BLANC} d'atterrir sur un D.



Le spinner a un % de chance {BLANC} d'atterrir sur un B.

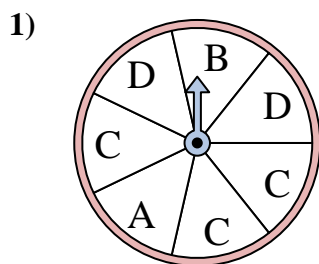


Le spinner a un % de chance {BLANC} d'atterrir sur un 4.

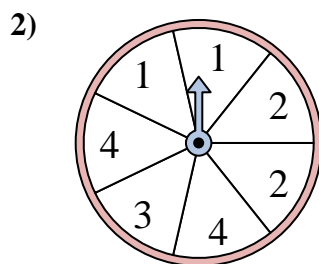
1. \_\_\_\_\_
2. \_\_\_\_\_
3. \_\_\_\_\_
4. \_\_\_\_\_
5. \_\_\_\_\_
6. \_\_\_\_\_
7. \_\_\_\_\_
8. \_\_\_\_\_
9. \_\_\_\_\_
10. \_\_\_\_\_
11. \_\_\_\_\_
12. \_\_\_\_\_



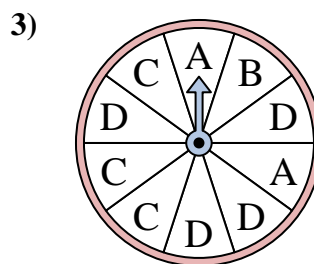
Résoudre chaque problème. Arrondissez votre réponse au dixième près.



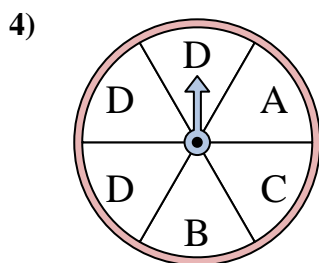
Le spinner a un % de chance {BLANC} d'atterrir sur un D.



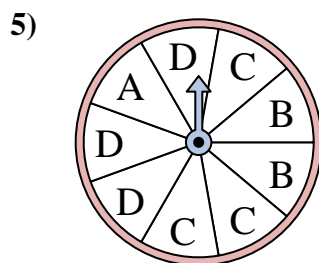
Le spinner a un % de chance {BLANC} d'atterrir sur un 3.



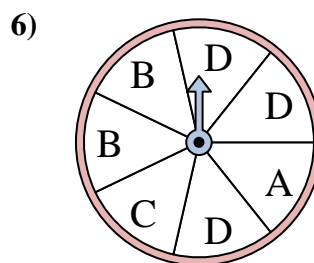
Le spinner a un % de chance {BLANC} d'atterrir sur un B.



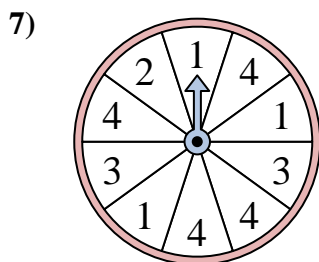
Le spinner a un % de chance {BLANC} d'atterrir sur un B.



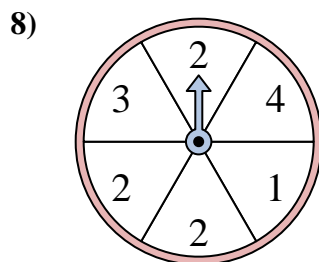
Le spinner a un % de chance {BLANC} d'atterrir sur un C.



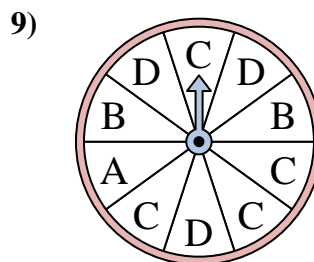
Le spinner a un % de chance {BLANC} d'atterrir sur un B.



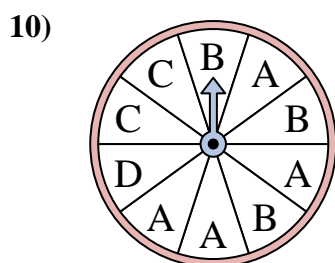
Le spinner a un % de chance {BLANC} d'atterrir sur un 4.



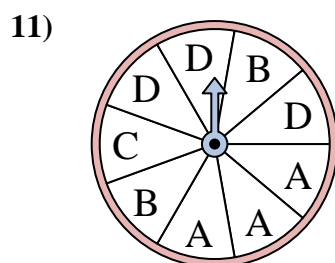
Le spinner a un % de chance {BLANC} d'atterrir sur un 1.



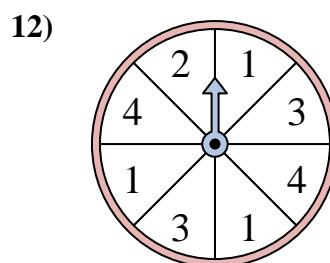
Le spinner a un % de chance {BLANC} d'atterrir sur un C.



Le spinner a un % de chance {BLANC} d'atterrir sur un D.



Le spinner a un % de chance {BLANC} d'atterrir sur un B.



Le spinner a un % de chance {BLANC} d'atterrir sur un 4.

**Réponses**1. 28,62. 14,33. 104. 16,75. 33,36. 28,67. 408. 16,79. 4010. 1011. 22,212. 25