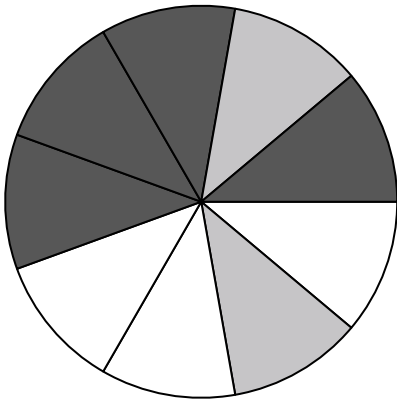





Utilisez chaque diagramme pour résoudre les problèmes.




- 1) Si vous faites tourner la toupie 1 fois, quelle est la probabilité qu'elle atterrisse sur une pièce noire ?
- 2) Si vous avez fait tourner la toupie 1 fois, quelle est la probabilité d'atterrir sur une pièce black ou sur une pièce white ?
- 3) Si vous faites tourner la toupie 1 fois, quelle est la probabilité qu'elle atterrisse sur une pièce grise ?
- 4) Si vous faites tourner la toupie 1 fois, quelle est la probabilité qu'elle atterrisse sur une pièce blanche ?
- 5) Combien de pièces y a-t-il au total dans la centrifugeuse ?

-
- 6) Si vous deviez lancer les dés une fois, quelle est la probabilité qu'il n'aboutisse {PAS} sur un 1 ?



- 7) Si vous deviez lancer les dés une fois, quelle est la probabilité qu'ils tombent sur un 4 ?
- 8) Si vous deviez lancer le dé une fois, quelle est la probabilité qu'il tombe sur un nombre impair ?



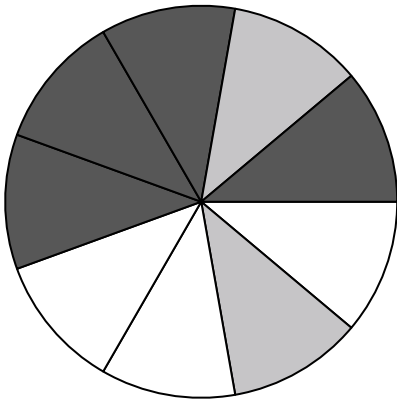
- 9) Quelle forme a 40,00 % de chances (8 sur 20) d'être sélectionnée ?
- 10) Si vous deviez sélectionner 1 forme au hasard dans le tableau, quelle forme avez-vous la plus grande probabilité de sélectionner ?
- 11) Si vous deviez sélectionner 1 forme au hasard dans le tableau, quelle est la probabilité que ce soit un diamond ?
- 12) Combien de formes y a-t-il au total dans le tableau ?

Réponses

1. _____
2. _____
3. _____
4. _____
5. _____
6. _____
7. _____
8. _____
9. _____
10. _____
11. _____
12. _____




Utilisez chaque diagramme pour résoudre les problèmes.




- 1) Si vous faites tourner la toupie 1 fois, quelle est la probabilité qu'elle atterrisse sur une pièce noire ?
- 2) Si vous avez fait tourner la toupie 1 fois, quelle est la probabilité d'atterrir sur une pièce black ou sur une pièce white ?
- 3) Si vous faites tourner la toupie 1 fois, quelle est la probabilité qu'elle atterrisse sur une pièce grise ?
- 4) Si vous faites tourner la toupie 1 fois, quelle est la probabilité qu'elle atterrisse sur une pièce blanche ?
- 5) Combien de pièces y a-t-il au total dans la centrifugeuse ?

- 6) Si vous deviez lancer les dés une fois, quelle est la probabilité qu'il n'aboutisse {PAS} sur un 1 ?



- 7) Si vous deviez lancer les dés une fois, quelle est la probabilité qu'ils tombent sur un 4 ?
- 8) Si vous deviez lancer le dé une fois, quelle est la probabilité qu'il tombe sur un nombre impair ?



- 9) Quelle forme a 40,00 % de chances (8 sur 20) d'être sélectionnée ?
- 10) Si vous deviez sélectionner 1 forme au hasard dans le tableau, quelle forme avez-vous la plus grande probabilité de sélectionner ?
- 11) Si vous deviez sélectionner 1 forme au hasard dans le tableau, quelle est la probabilité que ce soit un diamond ?
- 12) Combien de formes y a-t-il au total dans le tableau ?

Réponses

1. 4 sur 9
2. 7 sur 9
3. 2 sur 9
4. 3 sur 9
5. 9
6. 5 sur 6
7. 1 sur 6
8. 3 sur 6
9. star
10. circle
11. 11 sur 20
12. 20