



Résoudre chaque problème.

Réponses

Ex) Quel est le ration de moons par rapport à hearts?



1) Quel est le ration de étoiles par rapport à hearts?

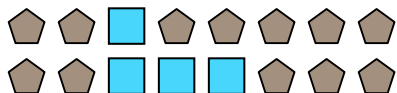


Ex. **15:7**


1. _____

2. _____

2) Quel est le ration de carrés par rapport à pentagone?



3) Quel est le ration de hearts par rapport à carrés?




3. _____


4. _____

5. _____

4) Quel est le ration de étoiles par rapport à cercles?



5) Quel est le ration de hearts par rapport à moons?

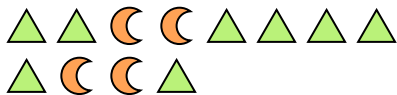


6. _____

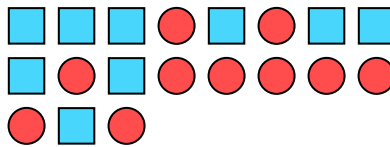
7. _____

8. _____

6) Quel est le ration de moons par rapport à triangles?



7) Quel est le ration de carrés par rapport à cercles?



9. _____


10. _____

11. _____

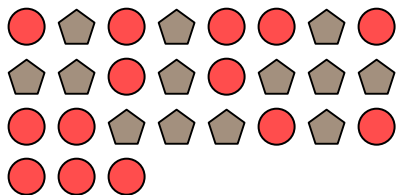
8) Quel est le ration de étoiles par rapport à hearts?




9) Quel est le ration de triangles par rapport à hearts?



10) Quel est le ration de cercles par rapport à pentagone?



11) Quel est le ration de étoiles par rapport à carrés?





Résoudre chaque problème.

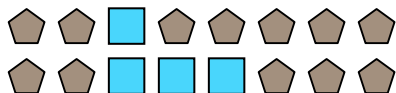
Ex) Quel est le ration de moons par rapport à hearts?




1) Quel est le ration de étoiles par rapport à hearts?




2) Quel est le ration de carrés par rapport à pentagone?




3) Quel est le ration de hearts par rapport à carrés?



4) Quel est le ration de étoiles par rapport à cercles?



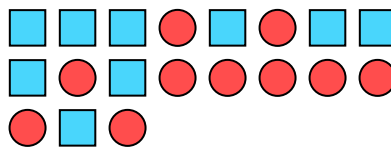
5) Quel est le ration de hearts par rapport à moons?



6) Quel est le ration de moons par rapport à triangles?



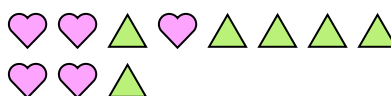
7) Quel est le ration de carrés par rapport à cercles?



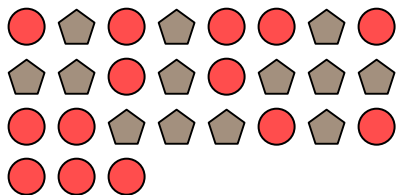
8) Quel est le ration de étoiles par rapport à hearts?




9) Quel est le ration de triangles par rapport à hearts?



10) Quel est le ration de cercles par rapport à pentagone?



11) Quel est le ration de étoiles par rapport à carrés?



Réponses

Ex. 15:7

1. 3:10

2. 4:12

3. 6:3

4. 2:15

5. 9:10

6. 4:8

7. 9:10

8. 2:8

9. 6:5

10. 14:13

11. 7:10