



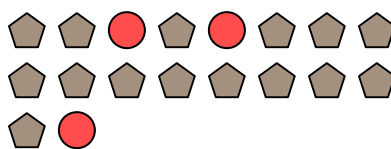
Résoudre chaque problème.

Réponses

Ex) Quel est le ration de étoiles par rapport à pentagone?



1) Quel est le ration de cercles par rapport à pentagone?




Ex. **6:3**

2) Quel est le ration de cercles par rapport à moons?



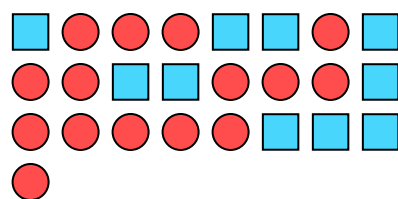
3) Quel est le ration de triangles par rapport à moons?



1. _____

2. _____

4) Quel est le ration de cercles par rapport à carrés?



5) Quel est le ration de hearts par rapport à étoiles?



3. _____

4. _____

5. _____

6. _____

7. _____

8. _____

9. _____

6) Quel est le ration de cercles par rapport à triangles?



7) Quel est le ration de hearts par rapport à pentagone?




10. _____

11. _____


8) Quel est le ration de pentagone par rapport à étoiles?




9) Quel est le ration de étoiles par rapport à triangles?



10) Quel est le ration de carrés par rapport à moons?



11) Quel est le ration de étoiles par rapport à cercles?



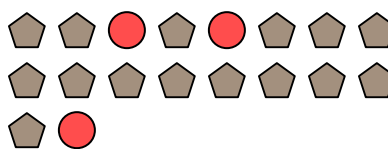


Résoudre chaque problème.

Ex) Quel est le ration de étoiles par rapport à pentagone?



1) Quel est le ration de cercles par rapport à pentagone?




Réponses

Ex. 6:3

2) Quel est le ration de cercles par rapport à moons?



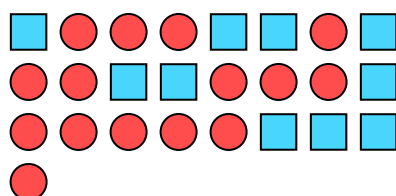
3) Quel est le ration de triangles par rapport à moons?



1. 3:15

2. 4:5

4) Quel est le ration de cercles par rapport à carrés?



5) Quel est le ration de hearts par rapport à étoiles?



3. 4:13

4. 15:10

5. 2:13

6) Quel est le ration de cercles par rapport à triangles?



7) Quel est le ration de hearts par rapport à pentagone?



6. 3:4

7. 5:6

8. 5:4

9. 5:15

8) Quel est le ration de pentagone par rapport à étoiles?




9) Quel est le ration de étoiles par rapport à triangles?



10. 8:15

11. 13:6

10) Quel est le ration de carrés par rapport à moons?



11) Quel est le ration de étoiles par rapport à cercles?

