




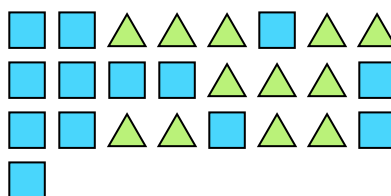
Résoudre chaque problème.

Réponses

Ex) Quel est le ration de carrés par rapport à hearts?




1) Quel est le ration de carrés par rapport à triangles?



Ex. **11:13**

2) Quel est le ration de hearts par rapport à carrés?



3) Quel est le ration de hearts par rapport à moons?



1. _____

2. _____

3. _____

4. _____

5. _____

6. _____

7. _____

8. _____

9. _____

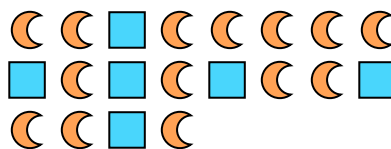
10. _____

11. _____

4) Quel est le ration de étoiles par rapport à pentagone?




5) Quel est le ration de carrés par rapport à moons?



6) Quel est le ration de pentagone par rapport à hearts?



7) Quel est le ration de hearts par rapport à pentagone?



8) Quel est le ration de triangles par rapport à étoiles?



9) Quel est le ration de carrés par rapport à étoiles?



10) Quel est le ration de étoiles par rapport à moons?




11) Quel est le ration de étoiles par rapport à triangles?



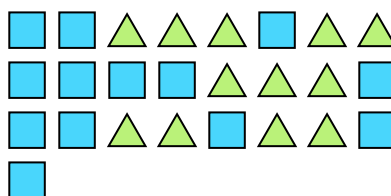


Résoudre chaque problème.


Ex) Quel est le ration de carrés par rapport à hearts?



1) Quel est le ration de carrés par rapport à triangles?



2) Quel est le ration de hearts par rapport à carrés?




3) Quel est le ration de hearts par rapport à moons?




4) Quel est le ration de étoiles par rapport à pentagone?




5) Quel est le ration de carrés par rapport à moons?



6) Quel est le ration de pentagone par rapport à hearts?



7) Quel est le ration de hearts par rapport à pentagone?



8) Quel est le ration de triangles par rapport à étoiles?



9) Quel est le ration de carrés par rapport à étoiles?



10) Quel est le ration de étoiles par rapport à moons?



11) Quel est le ration de étoiles par rapport à triangles?



Réponses

Ex. **11:13**

1. **13:12**

2. **8:9**

3. **2:4**

4. **3:6**

5. **6:14**

6. **13:2**

7. **11:7**

8. **15:8**

9. **2:12**

10. **3:2**

11. **7:6**