



Utilisez la double droite numérique pour résoudre les problèmes.

**Réponses**

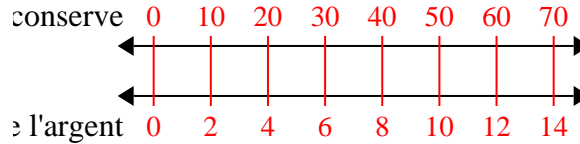
1)	Pour chaque 10 canettes Marcello collectées pour le recyclage, il gagnait 2 centimes. Après avoir collecté 70 canettes, combien d'argent aurait-il gagné ?	conserve ←————→ l'argent ←————→	1. _____ 2. _____
2)	Le ratio garçons/filles au parc était de 6 à 4. S'il y avait 30 garçons, combien y avait-il de filles ?	garçons ←————→ filles ←————→	3. _____ 4. _____ 5. _____
3)	Dans un jeu vidéo, pour chaque 7 défaite d'ennemis, vous avez gagné 2 points. Si vous aviez vaincu 56 ennemis, combien de points auriez-vous gagnés ?	ennemis ←————→ points ←————→	6. _____ 7. _____
4)	Une boîte de bonbons contenait 8 morceaux de cerise pour chaque 10 morceaux de citron. Si la boîte contenait 20 morceaux de citron, combien y aurait-il de morceaux de cerise ?	citron ←————→ cerise ←————→	8. _____
5)	Un constructeur pourrait obtenir 7 feuilles de gypse pour 5 \$. S'il avait acheté des feuilles 42, combien d'argent aurait-il dépensé ?	de plâtre ←————→ le prix ←————→	
6)	Une recette demande 8 cuillères à café d'assaisonnement pour chaque 3 lots de poulet. Si vous avez 15 lots de poulet, de combien de cuillères à café d'assaisonnement aurez-vous besoin ?	poulet ←————→ nnement ←————→	
7)	Une salle de cinéma met 5 tasses d'huile pour chaque 6 lots de pop-corn qu'elle fabrique. Après avoir préparé 12 lots de maïs soufflé, quelle quantité d'huile auraient-ils utilisé ?	Popcorn ←————→ huile ←————→	
8)	Un restaurant sloppy joe a donné 5 serviettes pour chaque 7 articles commandés. Si quelqu'un a acheté 70 articles, combien de serviettes doit-il recevoir ?	Objet ←————→ erviettes ←————→	



Utilisez la double droite numérique pour résoudre les problèmes.

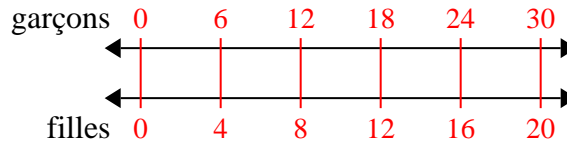
**Réponses**

- 1) Pour chaque 10 canettes Marcello collectées pour le recyclage, il gagnait 2 centimes. Après avoir collecté 70 canettes, combien d'argent aurait-il gagné ?



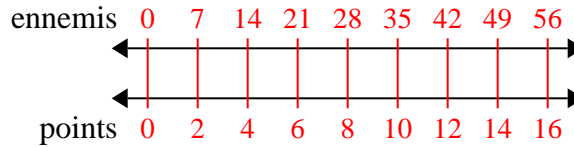
1. **14**

- 2) Le ratio garçons/filles au parc était de 6 à 4. S'il y avait 30 garçons, combien y avait-il de filles ?



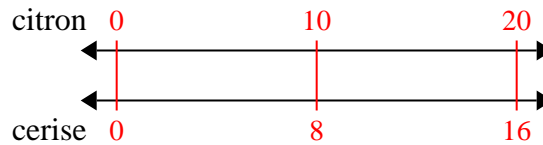
3. **16**

- 3) Dans un jeu vidéo, pour chaque 7 défaite d'ennemis, vous avez gagné 2 points. Si vous aviez vaincu 56 ennemis, combien de points auriez-vous gagnés ?



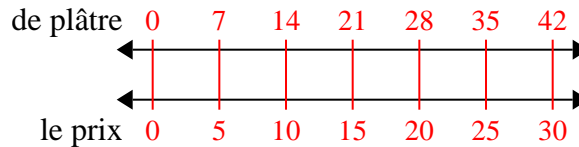
5. **30**

- 4) Une boîte de bonbons contenait 8 morceaux de cerise pour chaque 10 morceaux de citron. Si la boîte contenait 20 morceaux de citron, combien y aurait-il de morceaux de cerise ?



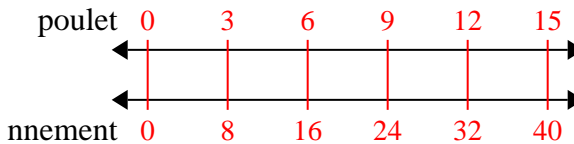
6. **40**

- 5) Un constructeur pourrait obtenir 7 feuilles de gypse pour 5 \$. S'il avait acheté des feuilles 42, combien d'argent aurait-il dépensé ?

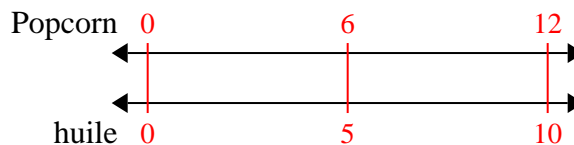


8. **50**

- 6) Une recette demande 8 cuillères à café d'assaisonnement pour chaque 3 lots de poulet. Si vous avez 15 lots de poulet, de combien de cuillères à café d'assaisonnement aurez-vous besoin ?



- 7) Une salle de cinéma met 5 tasses d'huile pour chaque 6 lots de popcorn qu'elle fabrique. Après avoir préparé 12 lots de maïs soufflé, quelle quantité d'huile auraient-ils utilisé ?



- 8) Un restaurant sloppy joe a donné 5 serviettes pour chaque 7 articles commandés. Si quelqu'un a acheté 70 articles, combien de serviettes doit-il recevoir ?

