



Utilisez la double droite numérique pour résoudre les problèmes.

Réponses

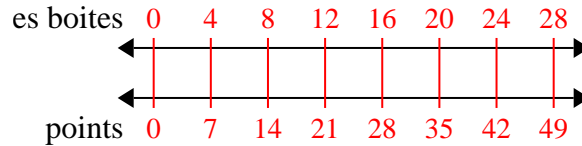
<p>1) Lors d'une collecte de fonds dans une école, pour chaque 4 boîte de chocolat vendue, vous gagnez 7 points. Si vous deviez vendre des boîtes 28, combien de points auriez-vous gagné ?</p>	<p>es boites points</p> <p>← → ← →</p>	<p>1. _____ 2. _____</p>
<p>2) Une salle de cinéma met 5 tasses d'huile pour chaque 10 lots de pop-corn qu'elle fabrique. Après avoir préparé 60 lots de maïs soufflé, quelle quantité d'huile auraient-ils utilisé ?</p>	<p>Popcorn huile</p> <p>← → ← →</p>	<p>3. _____ 4. _____</p>
<p>3) Une recette demande 2 cuillères à café d'assaisonnement pour chaque 5 lots de poulet. Si vous avez 30 lots de poulet, de combien de cuillères à café d'assaisonnement aurez-vous besoin ?</p>	<p>poulet nnement</p> <p>← → ← →</p>	<p>5. _____ 6. _____ 7. _____</p>
<p>4) Le ratio garçons/filles au parc était de 7 à 2. S'il y avait 28 garçons, combien y avait-il de filles ?</p>	<p>garçons filles</p> <p>← → ← →</p>	<p>8. _____</p>
<p>5) Un restaurant sloppy joe a donné 6 serviettes pour chaque 10 articles commandés. Si quelqu'un a acheté 20 articles, combien de serviettes doit-il recevoir ?</p>	<p>Objet erviettes</p> <p>← → ← →</p>	
<p>6) Pour chaque 4 canettes Luca collectées pour le recyclage, il gagnait 9 centimes. Après avoir collecté 8 canettes, combien d'argent aurait-il gagné ?</p>	<p>conserve e l'argent</p> <p>← → ← →</p>	
<p>7) Une boîte de bonbons contenait 6 morceaux de cerise pour chaque 10 morceaux de citron. Si la boîte contenait 30 morceaux de citron, combien y aurait-il de morceaux de cerise ?</p>	<p>citron cerise</p> <p>← → ← →</p>	
<p>8) Sur son lecteur MP3, pour chaque chanson pop 10, Patrizia avait aussi une chanson country 8. Si elle a 60 chansons pop sur son lecteur MP3, combien de chansons country a-t-elle ?</p>	<p>pop pays</p> <p>← → ← →</p>	



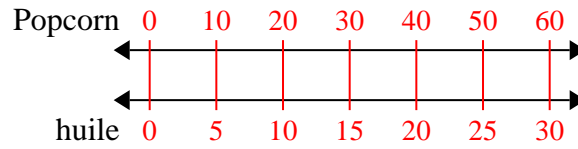
Utilisez la double droite numérique pour résoudre les problèmes.

Réponses

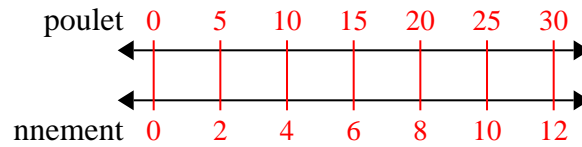
- 1) Lors d'une collecte de fonds dans une école, pour chaque 4 boîte de chocolat vendue, vous gagnez 7 points. Si vous deviez vendre des boîtes 28, combien de points auriez-vous gagné ?

1. **49**

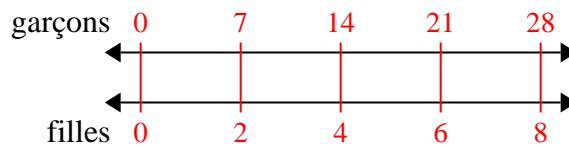
- 2) Une salle de cinéma met 5 tasses d'huile pour chaque 10 lots de pop-corn qu'elle fabrique. Après avoir préparé 60 lots de maïs soufflé, quelle quantité d'huile auraient-ils utilisé ?

3. **12**

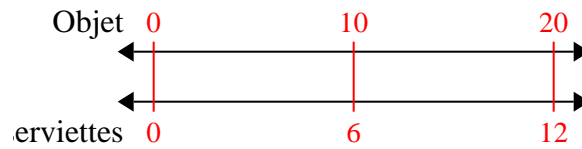
- 3) Une recette demande 2 cuillères à café d'assaisonnement pour chaque 5 lots de poulet. Si vous avez 30 lots de poulet, de combien de cuillères à café d'assaisonnement aurez-vous besoin ?

6. **18**

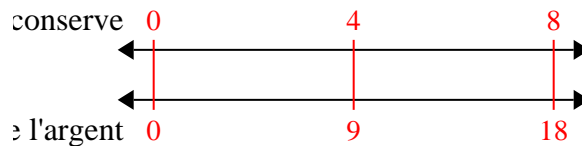
- 4) Le ratio garçons/filles au parc était de 7 à 2. S'il y avait 28 garçons, combien y avait-il de filles ?

8. **48**

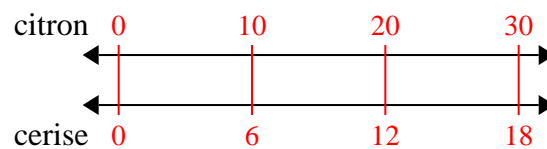
- 5) Un restaurant sloppy joe a donné 6 serviettes pour chaque 10 articles commandés. Si quelqu'un a acheté 20 articles, combien de serviettes doit-il recevoir ?



- 6) Pour chaque 4 canettes Luca collectées pour le recyclage, il gagnait 9 centimes. Après avoir collecté 8 canettes, combien d'argent aurait-il gagné ?



- 7) Une boîte de bonbons contenait 6 morceaux de cerise pour chaque 10 morceaux de citron. Si la boîte contenait 30 morceaux de citron, combien y aurait-il de morceaux de cerise ?



- 8) Sur son lecteur MP3, pour chaque chanson pop 10, Patrizia avait aussi une chanson country 8. Si elle a 60 chansons pop sur son lecteur MP3, combien de chansons country a-t-elle ?

