



Avec les droites numériques arrondir chaque nombre à la centaine la plus proche.

Ex)

356



Ex. 400

1)

1 360



1. _____

2)

7 216



2. _____

3)

51 669



3. _____

4)

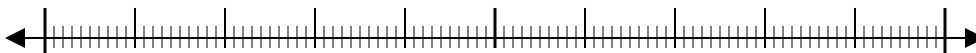
670



4. _____

5)

171



5. _____

6)

80 458



6. _____

7)

9 425



7. _____

8)

616



8. _____

9)

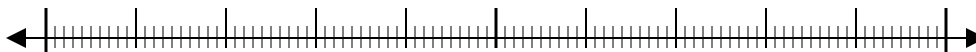
88 299



9. _____

10)

5 076

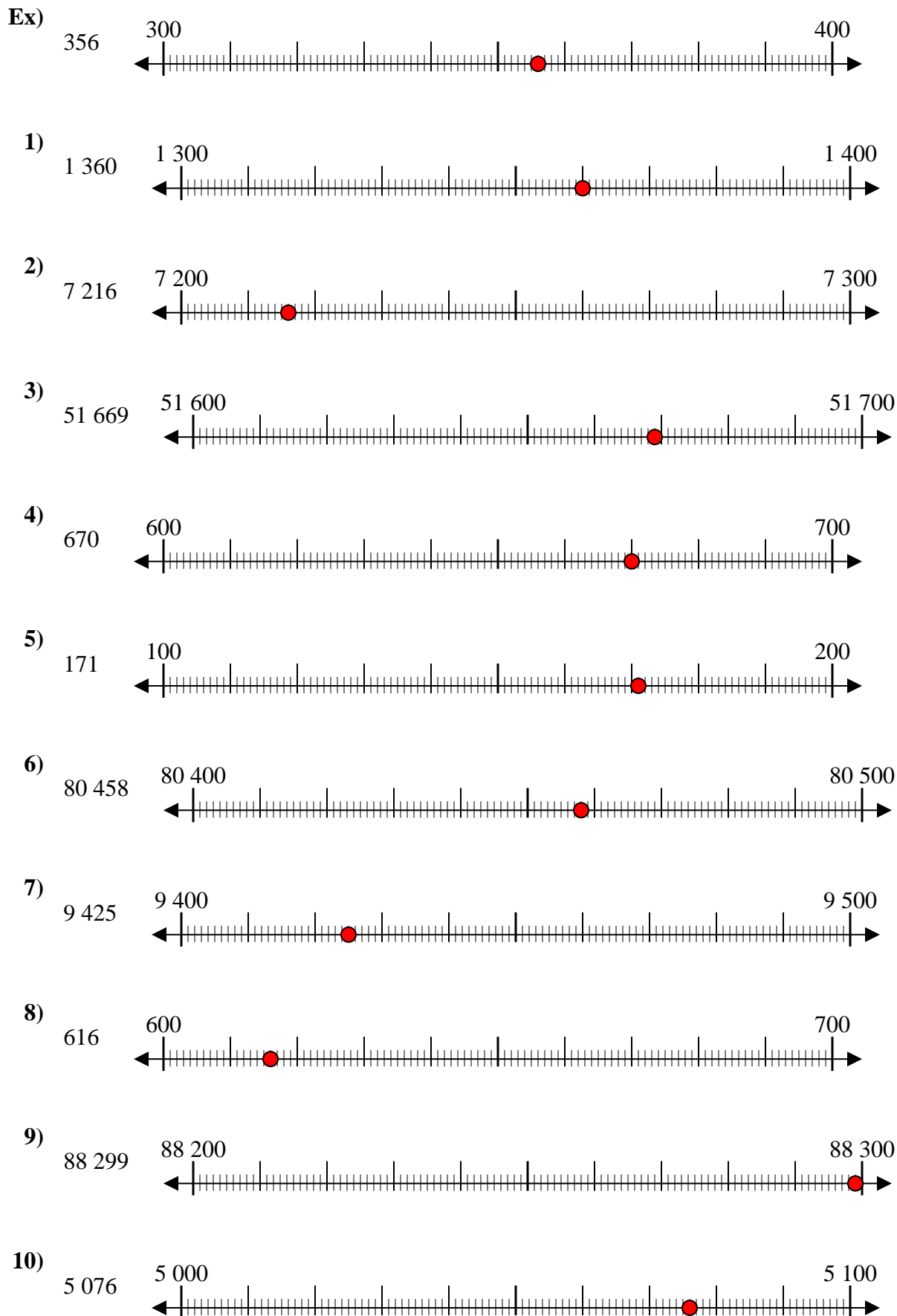


10. _____

Réponses



Avec les droites numériques arrondir chaque nombre à la centaine la plus proche.



Réponses

- Ex. 400
1. 1 400
2. 7 200
3. 51 700
4. 700
5. 200
6. 80 500
7. 9 400
8. 600
9. 88 300
10. 5 100