



Avec les droites numériques arrondir chaque nombre à la centaine la plus proche.

Ex)

803



Ex. 800

1)

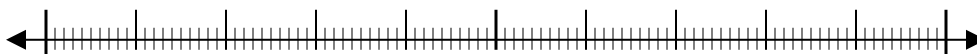
589



1. _____

2)

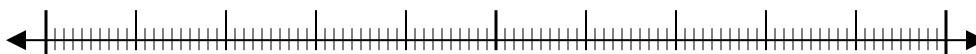
35 102



2. _____

3)

6 126



3. _____

4)

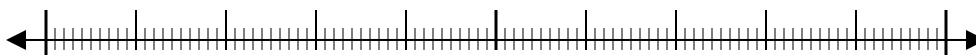
5 531



4. _____

5)

5 313



5. _____

6)

951



6. _____

7)

8 816



7. _____

8)

152



8. _____

9)

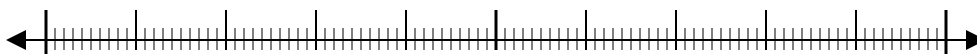
62 481



9. _____

10)

59 409

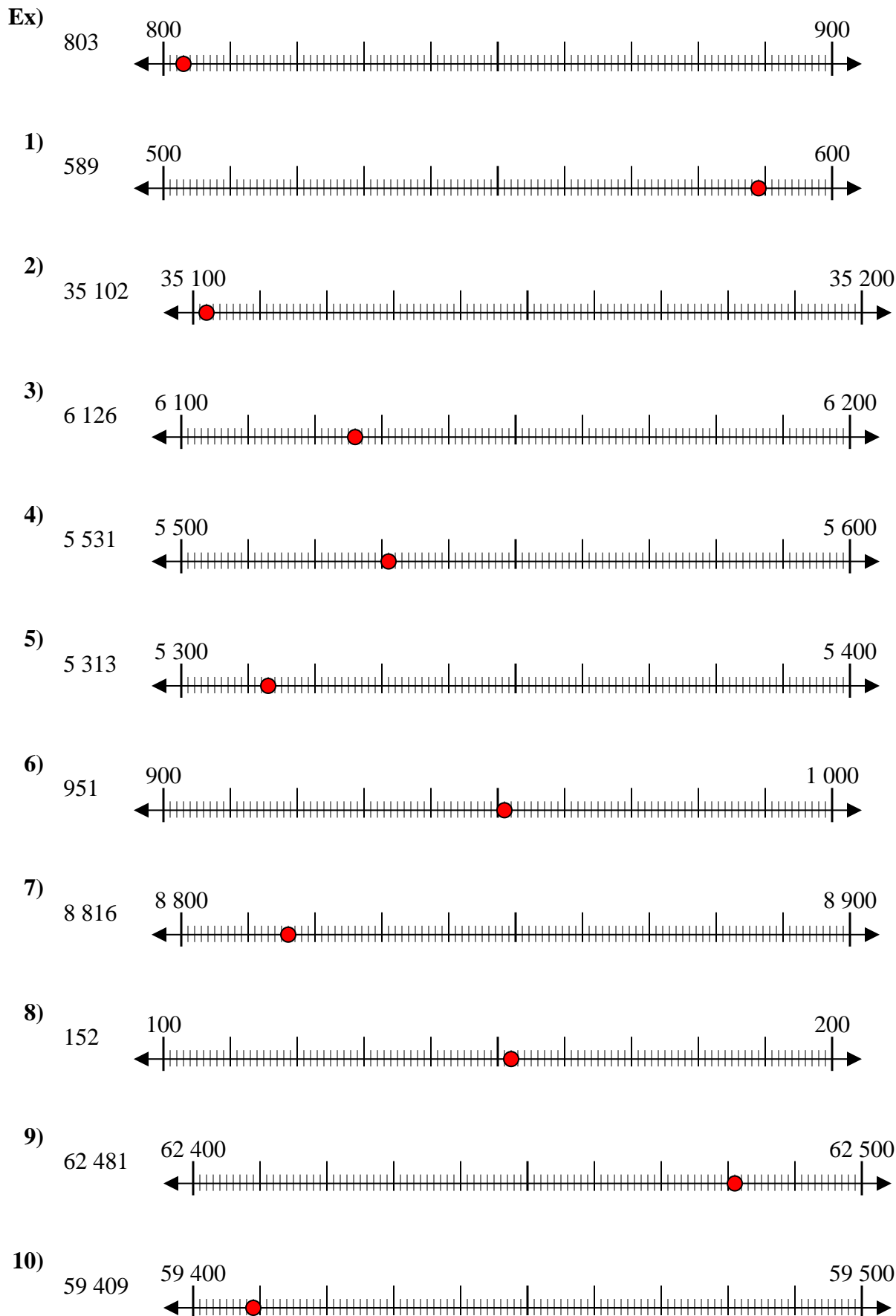


10. _____

Réponses



Avec les droites numériques arrondir chaque nombre à la centaine la plus proche.



Réponses

- Ex. 800
1. 600
2. 35 100
3. 6 100
4. 5 500
5. 5 300
6. 1 000
7. 8 800
8. 200
9. 62 500
10. 59 400