



Avec les droites numériques arrondir chaque nombre à la centaine la plus proche.

Ex)

8 883



Ex. **8 900**

1)

2 150



1. \_\_\_\_\_

2)

191



2. \_\_\_\_\_

3)

89 749



3. \_\_\_\_\_

4)

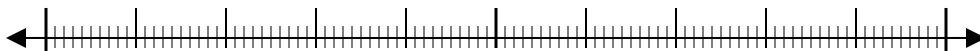
87 029



4. \_\_\_\_\_

5)

60 906



5. \_\_\_\_\_

6)

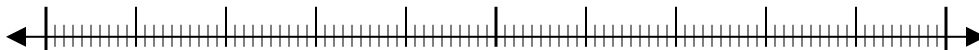
80 636



6. \_\_\_\_\_

7)

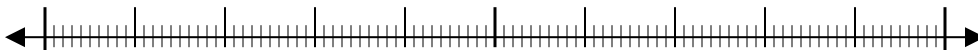
9 769



7. \_\_\_\_\_

8)

498



8. \_\_\_\_\_

9)

912



9. \_\_\_\_\_

10)

258

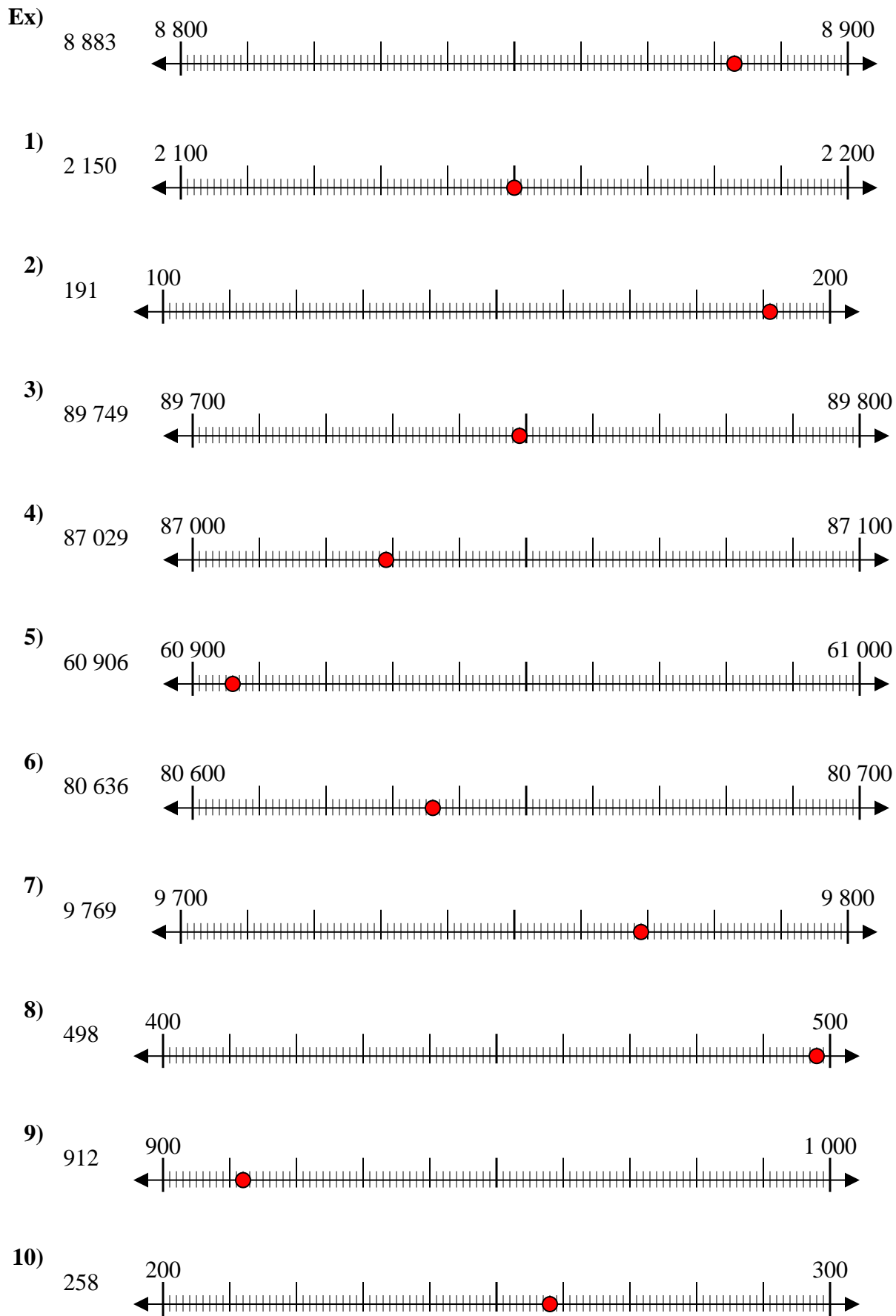


10. \_\_\_\_\_

**Réponses**



Avec les droites numériques arrondir chaque nombre à la centaine la plus proche.



**Réponses**

- Ex. 8 900
1. 2 200
2. 200
3. 89 700
4. 87 000
5. 60 900
6. 80 600
7. 9 800
8. 500
9. 900
10. 300