



Utilisez la méthode visuelle pour résoudre chaque problème.

Réponses

- 1) Il y a 13 triangles ci-dessous.
-

Si vous deviez en retirer 1, combien en restera t-il?

$$13 - 1 = ?$$

- 2) Il y a 15 triangles ci-dessous.
-

Si vous deviez en retirer 5, combien en restera t-il?

$$15 - 5 = ?$$

- 3) Il y a 11 étoiles ci-dessous.
-

Si vous deviez en retirer 4, combien en restera t-il?

$$11 - 4 = ?$$

- 4) Il y a 13 carrés ci-dessous.
-

Si vous deviez en retirer 4, combien en restera t-il?

$$13 - 4 = ?$$

- 5) Il y a 6 étoiles ci-dessous.
-

Si vous deviez en retirer 1, combien en restera t-il?

$$6 - 1 = ?$$

- 6) Il y a 18 étoiles ci-dessous.
-

Si vous deviez en retirer 10, combien en restera t-il?

$$18 - 10 = ?$$

- 7) Il y a 10 carrés ci-dessous.
-

Si vous deviez en retirer 2, combien en restera t-il?

$$10 - 2 = ?$$

- 8) Il y a 9 cercles ci-dessous.
-

Si vous deviez en retirer 3, combien en restera t-il?

$$9 - 3 = ?$$

- 9) Il y a 5 étoiles ci-dessous.
-

Si vous deviez en retirer 1, combien en restera t-il?

$$5 - 1 = ?$$

- 10) Il y a 15 hexagones ci-dessous.
-

Si vous deviez en retirer 1, combien en restera t-il?

$$15 - 1 = ?$$

1. _____
2. _____
3. _____
4. _____
5. _____
6. _____
7. _____
8. _____
9. _____
10. _____



Utilisez la méthode visuelle pour résoudre chaque problème.

Réponses

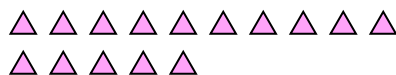
1) Il y a 13 triangles ci-dessous.



Si vous deviez en retirer 1, combien en restera t-il?

$13 - 1 = ?$

2) Il y a 15 triangles ci-dessous.



Si vous deviez en retirer 5, combien en restera t-il?

$15 - 5 = ?$

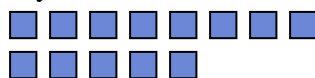
3) Il y a 11 étoiles ci-dessous.



Si vous deviez en retirer 4, combien en restera t-il?

$11 - 4 = ?$

4) Il y a 13 carrés ci-dessous.



Si vous deviez en retirer 4, combien en restera t-il?

$13 - 4 = ?$

5) Il y a 6 étoiles ci-dessous.



Si vous deviez en retirer 1, combien en restera t-il?

$6 - 1 = ?$

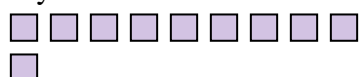
6) Il y a 18 étoiles ci-dessous.



Si vous deviez en retirer 10, combien en restera t-il?

$18 - 10 = ?$

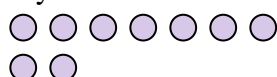
7) Il y a 10 carrés ci-dessous.



Si vous deviez en retirer 2, combien en restera t-il?

$10 - 2 = ?$

8) Il y a 9 cercles ci-dessous.



Si vous deviez en retirer 3, combien en restera t-il?

$9 - 3 = ?$

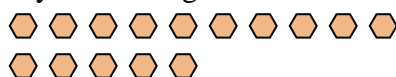
9) Il y a 5 étoiles ci-dessous.



Si vous deviez en retirer 1, combien en restera t-il?

$5 - 1 = ?$

10) Il y a 15 hexagones ci-dessous.



Si vous deviez en retirer 1, combien en restera t-il?

$15 - 1 = ?$

1. **12**2. **10**3. **7**4. **9**5. **5**6. **8**7. **8**8. **6**9. **4**10. **14**