



Utilisez la méthode visuelle pour résoudre chaque problème.

Réponses

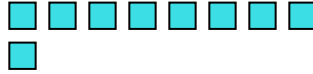
- 1) Il y a 6 hexagones ci-dessous.



Si vous deviez en retirer 1, combien en restera t-il?

$6 - 1 = ?$

- 2) Il y a 9 carrés ci-dessous.



Si vous deviez en retirer 7, combien en restera t-il?

$9 - 7 = ?$

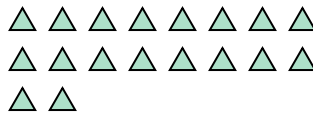
- 3) Il y a 2 cercles ci-dessous.



Si vous deviez en retirer 1, combien en restera t-il?

$2 - 1 = ?$

- 4) Il y a 18 triangles ci-dessous.



Si vous deviez en retirer 5, combien en restera t-il?

$18 - 5 = ?$

- 5) Il y a 5 rectangles ci-dessous.



Si vous deviez en retirer 4, combien en restera t-il?

$5 - 4 = ?$

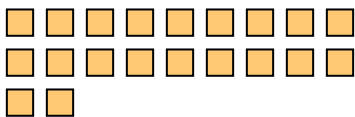
- 6) Il y a 3 étoiles ci-dessous.



Si vous deviez en retirer 1, combien en restera t-il?

$3 - 1 = ?$

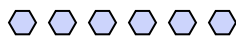
- 7) Il y a 20 carrés ci-dessous.



Si vous deviez en retirer 16, combien en restera t-il?

$20 - 16 = ?$

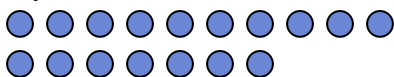
- 8) Il y a 6 hexagones ci-dessous.



Si vous deviez en retirer 4, combien en restera t-il?

$6 - 4 = ?$

- 9) Il y a 17 cercles ci-dessous.



Si vous deviez en retirer 10, combien en restera t-il?

$17 - 10 = ?$

- 10) Il y a 7 rectangles ci-dessous.



Si vous deviez en retirer 6, combien en restera t-il?

$7 - 6 = ?$

1. _____

2. _____

3. _____

4. _____

5. _____

6. _____

7. _____

8. _____

9. _____

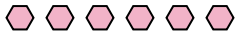
10. _____



Utilisez la méthode visuelle pour résoudre chaque problème.

Réponses

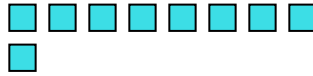
1) Il y a 6 hexagones ci-dessous.



Si vous deviez en retirer 1, combien en restera t-il?

$6 - 1 = ?$

2) Il y a 9 carrés ci-dessous.



Si vous deviez en retirer 7, combien en restera t-il?

$9 - 7 = ?$

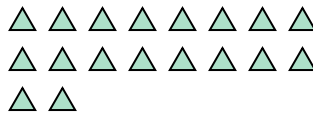
3) Il y a 2 cercles ci-dessous.



Si vous deviez en retirer 1, combien en restera t-il?

$2 - 1 = ?$

4) Il y a 18 triangles ci-dessous.



Si vous deviez en retirer 5, combien en restera t-il?

$18 - 5 = ?$

5) Il y a 5 rectangles ci-dessous.



Si vous deviez en retirer 4, combien en restera t-il?

$5 - 4 = ?$

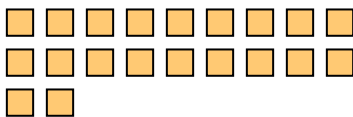
6) Il y a 3 étoiles ci-dessous.



Si vous deviez en retirer 1, combien en restera t-il?

$3 - 1 = ?$

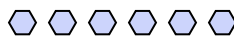
7) Il y a 20 carrés ci-dessous.



Si vous deviez en retirer 16, combien en restera t-il?

$20 - 16 = ?$

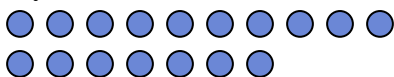
8) Il y a 6 hexagones ci-dessous.



Si vous deviez en retirer 4, combien en restera t-il?

$6 - 4 = ?$

9) Il y a 17 cercles ci-dessous.



Si vous deviez en retirer 10, combien en restera t-il?

$17 - 10 = ?$

10) Il y a 7 rectangles ci-dessous.



Si vous deviez en retirer 6, combien en restera t-il?

$7 - 6 = ?$

- 1. 5
- 2. 2
- 3. 1
- 4. 13
- 5. 1
- 6. 2
- 7. 4
- 8. 2
- 9. 7
- 10. 1