



Utilisez la méthode visuelle pour résoudre chaque problème.

Réponses

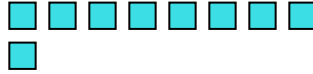
- 1) Il y a 6 hexagones ci-dessous.



Si vous deviez en retirer 1, combien en restera t-il?

$6 - 1 = ?$

- 2) Il y a 9 carrés ci-dessous.



Si vous deviez en retirer 7, combien en restera t-il?

$9 - 7 = ?$

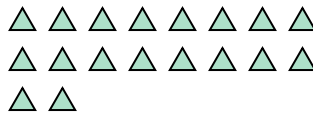
- 3) Il y a 2 cercles ci-dessous.



Si vous deviez en retirer 1, combien en restera t-il?

$2 - 1 = ?$

- 4) Il y a 18 triangles ci-dessous.



Si vous deviez en retirer 5, combien en restera t-il?

$18 - 5 = ?$

- 5) Il y a 5 rectangles ci-dessous.



Si vous deviez en retirer 4, combien en restera t-il?

$5 - 4 = ?$

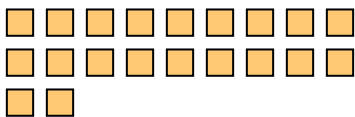
- 6) Il y a 3 étoiles ci-dessous.



Si vous deviez en retirer 1, combien en restera t-il?

$3 - 1 = ?$

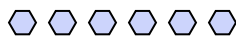
- 7) Il y a 20 carrés ci-dessous.



Si vous deviez en retirer 16, combien en restera t-il?

$20 - 16 = ?$

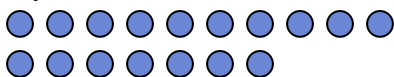
- 8) Il y a 6 hexagones ci-dessous.



Si vous deviez en retirer 4, combien en restera t-il?

$6 - 4 = ?$

- 9) Il y a 17 cercles ci-dessous.



Si vous deviez en retirer 10, combien en restera t-il?

$17 - 10 = ?$

- 10) Il y a 7 rectangles ci-dessous.



Si vous deviez en retirer 6, combien en restera t-il?

$7 - 6 = ?$

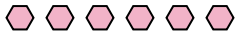
1. _____
2. _____
3. _____
4. _____
5. _____
6. _____
7. _____
8. _____
9. _____
10. _____



Utilisez la méthode visuelle pour résoudre chaque problème.

Réponses

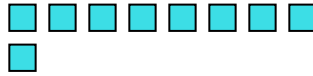
1) Il y a 6 hexagones ci-dessous.



Si vous deviez en retirer 1, combien en restera t-il?

$6 - 1 = ?$

2) Il y a 9 carrés ci-dessous.



Si vous deviez en retirer 7, combien en restera t-il?

$9 - 7 = ?$

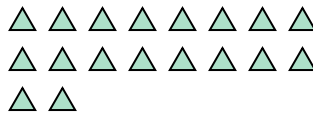
3) Il y a 2 cercles ci-dessous.



Si vous deviez en retirer 1, combien en restera t-il?

$2 - 1 = ?$

4) Il y a 18 triangles ci-dessous.



Si vous deviez en retirer 5, combien en restera t-il?

$18 - 5 = ?$

5) Il y a 5 rectangles ci-dessous.



Si vous deviez en retirer 4, combien en restera t-il?

$5 - 4 = ?$

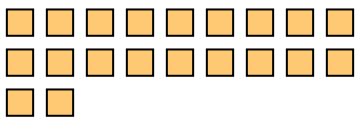
6) Il y a 3 étoiles ci-dessous.



Si vous deviez en retirer 1, combien en restera t-il?

$3 - 1 = ?$

7) Il y a 20 carrés ci-dessous.



Si vous deviez en retirer 16, combien en restera t-il?

$20 - 16 = ?$

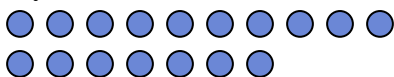
8) Il y a 6 hexagones ci-dessous.



Si vous deviez en retirer 4, combien en restera t-il?

$6 - 4 = ?$

9) Il y a 17 cercles ci-dessous.



Si vous deviez en retirer 10, combien en restera t-il?

$17 - 10 = ?$

10) Il y a 7 rectangles ci-dessous.



Si vous deviez en retirer 6, combien en restera t-il?

$7 - 6 = ?$

1. 5
2. 2
3. 1
4. 13
5. 1
6. 2
7. 4
8. 2
9. 7
10. 1