



Utilisez la méthode visuelle pour résoudre chaque problème.

Réponses

- 1) Il y a 11 rectangles ci-dessous.



Si vous deviez en retirer 2, combien en restera t-il?

$11 - 2 = ?$

- 2) Il y a 12 carrés ci-dessous.



Si vous deviez en retirer 8, combien en restera t-il?

$12 - 8 = ?$

- 3) Il y a 11 étoiles ci-dessous.



Si vous deviez en retirer 10, combien en restera t-il?

$11 - 10 = ?$

- 4) Il y a 10 rectangles ci-dessous.



Si vous deviez en retirer 3, combien en restera t-il?

$10 - 3 = ?$

- 5) Il y a 15 étoiles ci-dessous.



Si vous deviez en retirer 2, combien en restera t-il?

$15 - 2 = ?$

- 6) Il y a 12 triangles ci-dessous.



Si vous deviez en retirer 7, combien en restera t-il?

$12 - 7 = ?$

- 7) Il y a 3 carrés ci-dessous.



Si vous deviez en retirer 2, combien en restera t-il?

$3 - 2 = ?$

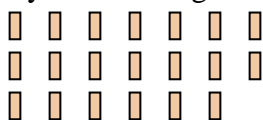
- 8) Il y a 11 carrés ci-dessous.



Si vous deviez en retirer 1, combien en restera t-il?

$11 - 1 = ?$

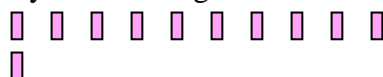
- 9) Il y a 20 rectangles ci-dessous.



Si vous deviez en retirer 9, combien en restera t-il?

$20 - 9 = ?$

- 10) Il y a 11 rectangles ci-dessous.



Si vous deviez en retirer 9, combien en restera t-il?

$11 - 9 = ?$

1. _____
2. _____
3. _____
4. _____
5. _____
6. _____
7. _____
8. _____
9. _____
10. _____



Utilisez la méthode visuelle pour résoudre chaque problème.

Réponses

1) Il y a 11 rectangles ci-dessous.



Si vous deviez en retirer 2, combien en restera t-il?

$11 - 2 = ?$

2) Il y a 12 carrés ci-dessous.



Si vous deviez en retirer 8, combien en restera t-il?

$12 - 8 = ?$

3) Il y a 11 étoiles ci-dessous.



Si vous deviez en retirer 10, combien en restera t-il?

$11 - 10 = ?$

4) Il y a 10 rectangles ci-dessous.



Si vous deviez en retirer 3, combien en restera t-il?

$10 - 3 = ?$

5) Il y a 15 étoiles ci-dessous.



Si vous deviez en retirer 2, combien en restera t-il?

$15 - 2 = ?$

6) Il y a 12 triangles ci-dessous.



Si vous deviez en retirer 7, combien en restera t-il?

$12 - 7 = ?$

7) Il y a 3 carrés ci-dessous.



Si vous deviez en retirer 2, combien en restera t-il?

$3 - 2 = ?$

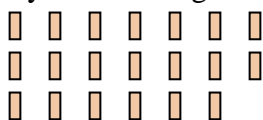
8) Il y a 11 carrés ci-dessous.



Si vous deviez en retirer 1, combien en restera t-il?

$11 - 1 = ?$

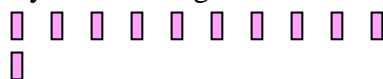
9) Il y a 20 rectangles ci-dessous.



Si vous deviez en retirer 9, combien en restera t-il?

$20 - 9 = ?$

10) Il y a 11 rectangles ci-dessous.



Si vous deviez en retirer 9, combien en restera t-il?

$11 - 9 = ?$

1. 92. 43. 14. 75. 136. 57. 18. 109. 1110. 2