



Utilisez la méthode visuelle pour résoudre chaque problème.

**Réponses**

- 1) Il y a 11 rectangles ci-dessous.



Si vous deviez en retirer 2, combien en restera t-il?

$11 - 2 = ?$

- 2) Il y a 12 carrés ci-dessous.



Si vous deviez en retirer 8, combien en restera t-il?

$12 - 8 = ?$

- 3) Il y a 11 étoiles ci-dessous.



Si vous deviez en retirer 10, combien en restera t-il?

$11 - 10 = ?$

- 4) Il y a 10 rectangles ci-dessous.



Si vous deviez en retirer 3, combien en restera t-il?

$10 - 3 = ?$

- 5) Il y a 15 étoiles ci-dessous.



Si vous deviez en retirer 2, combien en restera t-il?

$15 - 2 = ?$

- 6) Il y a 12 triangles ci-dessous.



Si vous deviez en retirer 7, combien en restera t-il?

$12 - 7 = ?$

- 7) Il y a 3 carrés ci-dessous.



Si vous deviez en retirer 2, combien en restera t-il?

$3 - 2 = ?$

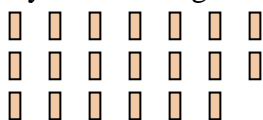
- 8) Il y a 11 carrés ci-dessous.



Si vous deviez en retirer 1, combien en restera t-il?

$11 - 1 = ?$

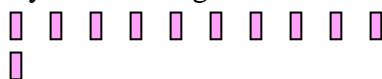
- 9) Il y a 20 rectangles ci-dessous.



Si vous deviez en retirer 9, combien en restera t-il?

$20 - 9 = ?$

- 10) Il y a 11 rectangles ci-dessous.



Si vous deviez en retirer 9, combien en restera t-il?

$11 - 9 = ?$

1. \_\_\_\_\_
2. \_\_\_\_\_
3. \_\_\_\_\_
4. \_\_\_\_\_
5. \_\_\_\_\_
6. \_\_\_\_\_
7. \_\_\_\_\_
8. \_\_\_\_\_
9. \_\_\_\_\_
10. \_\_\_\_\_



Utilisez la méthode visuelle pour résoudre chaque problème.

**Réponses**

1) Il y a 11 rectangles ci-dessous.



Si vous deviez en retirer 2, combien en restera t-il?

$11 - 2 = ?$

2) Il y a 12 carrés ci-dessous.



Si vous deviez en retirer 8, combien en restera t-il?

$12 - 8 = ?$

3) Il y a 11 étoiles ci-dessous.



Si vous deviez en retirer 10, combien en restera t-il?

$11 - 10 = ?$

4) Il y a 10 rectangles ci-dessous.



Si vous deviez en retirer 3, combien en restera t-il?

$10 - 3 = ?$

5) Il y a 15 étoiles ci-dessous.



Si vous deviez en retirer 2, combien en restera t-il?

$15 - 2 = ?$


6) Il y a 12 triangles ci-dessous.



Si vous deviez en retirer 7, combien en restera t-il?

$12 - 7 = ?$

7) Il y a 3 carrés ci-dessous.



Si vous deviez en retirer 2, combien en restera t-il?

$3 - 2 = ?$

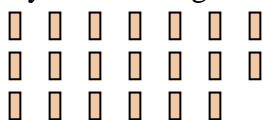
8) Il y a 11 carrés ci-dessous.



Si vous deviez en retirer 1, combien en restera t-il?

$11 - 1 = ?$

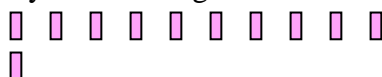
9) Il y a 20 rectangles ci-dessous.



Si vous deviez en retirer 9, combien en restera t-il?

$20 - 9 = ?$

10) Il y a 11 rectangles ci-dessous.



Si vous deviez en retirer 9, combien en restera t-il?

$11 - 9 = ?$

- 1. 9
- 2. 4
- 3. 1
- 4. 7
- 5. 13
- 6. 5
- 7. 1
- 8. 10
- 9. 11
- 10. 2