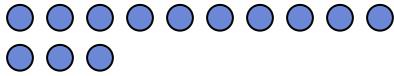




Utilisez la méthode visuelle pour résoudre chaque problème.

**Réponses**

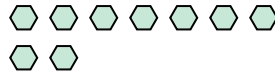
- 1) Il y a 13 cercles ci-dessous.



Si vous deviez en retirer 1, combien en restera t-il?

$13 - 1 = ?$

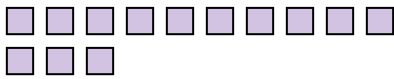
- 2) Il y a 9 hexagones ci-dessous.



Si vous deviez en retirer 6, combien en restera t-il?

$9 - 6 = ?$

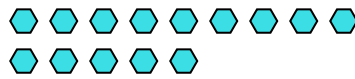
- 3) Il y a 13 carrés ci-dessous.



Si vous deviez en retirer 11, combien en restera t-il?

$13 - 11 = ?$

- 4) Il y a 14 hexagones ci-dessous.



Si vous deviez en retirer 7, combien en restera t-il?

$14 - 7 = ?$

- 5) Il y a 10 rectangles ci-dessous.



Si vous deviez en retirer 4, combien en restera t-il?

$10 - 4 = ?$

- 6) Il y a 5 rectangles ci-dessous.



Si vous deviez en retirer 1, combien en restera t-il?

$5 - 1 = ?$

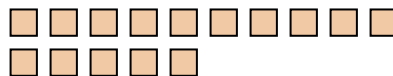
- 7) Il y a 17 pentagone ci-dessous.



Si vous deviez en retirer 2, combien en restera t-il?

$17 - 2 = ?$

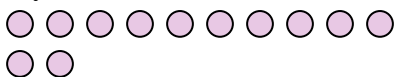
- 8) Il y a 15 carrés ci-dessous.



Si vous deviez en retirer 12, combien en restera t-il?

$15 - 12 = ?$

- 9) Il y a 12 cercles ci-dessous.



Si vous deviez en retirer 3, combien en restera t-il?

$12 - 3 = ?$

- 10) Il y a 5 rectangles ci-dessous.



Si vous deviez en retirer 4, combien en restera t-il?

$5 - 4 = ?$

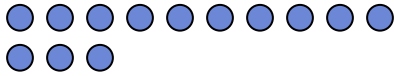
1. \_\_\_\_\_
2. \_\_\_\_\_
3. \_\_\_\_\_
4. \_\_\_\_\_
5. \_\_\_\_\_
6. \_\_\_\_\_
7. \_\_\_\_\_
8. \_\_\_\_\_
9. \_\_\_\_\_
10. \_\_\_\_\_



Utilisez la méthode visuelle pour résoudre chaque problème.

**Réponses**

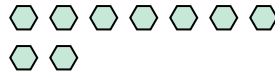
1) Il y a 13 cercles ci-dessous.



Si vous deviez en retirer 1, combien en restera t-il?

$13 - 1 = ?$

2) Il y a 9 hexagones ci-dessous.



Si vous deviez en retirer 6, combien en restera t-il?

$9 - 6 = ?$

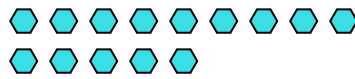
3) Il y a 13 carrés ci-dessous.



Si vous deviez en retirer 11, combien en restera t-il?

$13 - 11 = ?$

4) Il y a 14 hexagones ci-dessous.



Si vous deviez en retirer 7, combien en restera t-il?

$14 - 7 = ?$

5) Il y a 10 rectangles ci-dessous.



Si vous deviez en retirer 4, combien en restera t-il?

$10 - 4 = ?$

6) Il y a 5 rectangles ci-dessous.



Si vous deviez en retirer 1, combien en restera t-il?

$5 - 1 = ?$

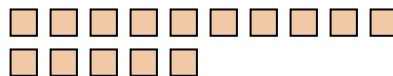
7) Il y a 17 pentagone ci-dessous.



Si vous deviez en retirer 2, combien en restera t-il?

$17 - 2 = ?$

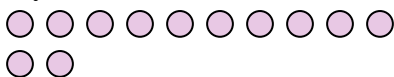
8) Il y a 15 carrés ci-dessous.



Si vous deviez en retirer 12, combien en restera t-il?

$15 - 12 = ?$

9) Il y a 12 cercles ci-dessous.



Si vous deviez en retirer 3, combien en restera t-il?

$12 - 3 = ?$

10) Il y a 5 rectangles ci-dessous.



Si vous deviez en retirer 4, combien en restera t-il?

$5 - 4 = ?$

1. 122. 33. 24. 75. 66. 47. 158. 39. 910. 1