



Utilisez la méthode visuelle pour résoudre chaque problème.

Réponses

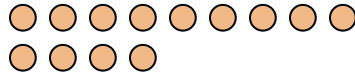
1) Il y a 9 triangles ci-dessous.



Si vous deviez en retirer 8, combien en restera t-il?

$9 - 8 = ?$

2) Il y a 13 cercles ci-dessous.



Si vous deviez en retirer 7, combien en restera t-il?

$13 - 7 = ?$

3) Il y a 9 rectangles ci-dessous.



Si vous deviez en retirer 5, combien en restera t-il?

$9 - 5 = ?$

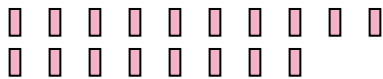
4) Il y a 6 étoiles ci-dessous.



Si vous deviez en retirer 2, combien en restera t-il?

$6 - 2 = ?$

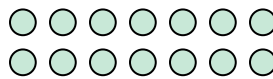
5) Il y a 18 rectangles ci-dessous.



Si vous deviez en retirer 9, combien en restera t-il?

$18 - 9 = ?$

6) Il y a 14 cercles ci-dessous.



Si vous deviez en retirer 9, combien en restera t-il?

$14 - 9 = ?$

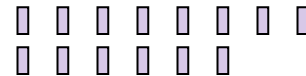
7) Il y a 2 carrés ci-dessous.



Si vous deviez en retirer 1, combien en restera t-il?

$2 - 1 = ?$

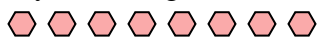
8) Il y a 14 rectangles ci-dessous.



Si vous deviez en retirer 5, combien en restera t-il?

$14 - 5 = ?$

9) Il y a 8 hexagones ci-dessous.



Si vous deviez en retirer 2, combien en restera t-il?

$8 - 2 = ?$

10) Il y a 3 cercles ci-dessous.



Si vous deviez en retirer 1, combien en restera t-il?

$3 - 1 = ?$

1. _____

2. _____

3. _____

4. _____

5. _____

6. _____

7. _____

8. _____

9. _____

10. _____



Utilisez la méthode visuelle pour résoudre chaque problème.

Réponses

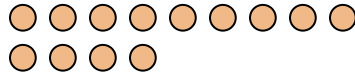
1) Il y a 9 triangles ci-dessous.



Si vous deviez en retirer 8, combien en restera t-il?

$9 - 8 = ?$

2) Il y a 13 cercles ci-dessous.



Si vous deviez en retirer 7, combien en restera t-il?

$13 - 7 = ?$

3) Il y a 9 rectangles ci-dessous.



Si vous deviez en retirer 5, combien en restera t-il?

$9 - 5 = ?$

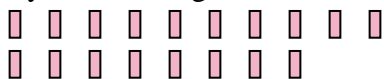
4) Il y a 6 étoiles ci-dessous.



Si vous deviez en retirer 2, combien en restera t-il?

$6 - 2 = ?$

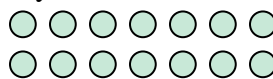
5) Il y a 18 rectangles ci-dessous.



Si vous deviez en retirer 9, combien en restera t-il?

$18 - 9 = ?$

6) Il y a 14 cercles ci-dessous.



Si vous deviez en retirer 9, combien en restera t-il?

$14 - 9 = ?$

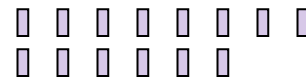
7) Il y a 2 carrés ci-dessous.



Si vous deviez en retirer 1, combien en restera t-il?

$2 - 1 = ?$

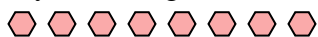
8) Il y a 14 rectangles ci-dessous.



Si vous deviez en retirer 5, combien en restera t-il?

$14 - 5 = ?$

9) Il y a 8 hexagones ci-dessous.



Si vous deviez en retirer 2, combien en restera t-il?

$8 - 2 = ?$

10) Il y a 3 cercles ci-dessous.



Si vous deviez en retirer 1, combien en restera t-il?

$3 - 1 = ?$

1. 1
2. 6
3. 4
4. 4
5. 9
6. 5
7. 1
8. 9
9. 6
10. 2