




Utilisez la méthode visuelle pour résoudre chaque problème.

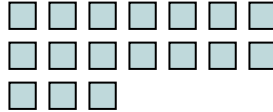
Réponses

- 1) Il y a 15 triangles ci-dessous.



Si vous deviez en retirer 11, combien en restera t-il?
 $15 - 11 = ?$

- 2) Il y a 17 carrés ci-dessous.




Si vous deviez en retirer 9, combien en restera t-il?
 $17 - 9 = ?$

- 3) Il y a 7 pentagone ci-dessous.



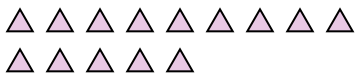
Si vous deviez en retirer 2, combien en restera t-il?
 $7 - 2 = ?$

- 4) Il y a 18 carrés ci-dessous.



Si vous deviez en retirer 14, combien en restera t-il?
 $18 - 14 = ?$

- 5) Il y a 14 triangles ci-dessous.



Si vous deviez en retirer 3, combien en restera t-il?
 $14 - 3 = ?$

- 6) Il y a 15 étoiles ci-dessous.



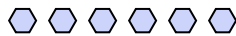
Si vous deviez en retirer 10, combien en restera t-il?
 $15 - 10 = ?$

- 7) Il y a 18 étoiles ci-dessous.



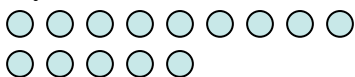
Si vous deviez en retirer 6, combien en restera t-il?
 $18 - 6 = ?$

- 8) Il y a 6 hexagones ci-dessous.



Si vous deviez en retirer 2, combien en restera t-il?
 $6 - 2 = ?$

- 9) Il y a 14 cercles ci-dessous.



Si vous deviez en retirer 2, combien en restera t-il?
 $14 - 2 = ?$

- 10) Il y a 5 triangles ci-dessous.



Si vous deviez en retirer 4, combien en restera t-il?
 $5 - 4 = ?$


1. _____
 2. _____
 3. _____
 4. _____
 5. _____
 6. _____
 7. _____
 8. _____
 9. _____
 10. _____



Utilisez la méthode visuelle pour résoudre chaque problème.

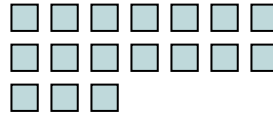
Réponses

1) Il y a 15 triangles ci-dessous.



Si vous deviez en retirer 11, combien en restera t-il?
 $15 - 11 = ?$

2) Il y a 17 carrés ci-dessous.



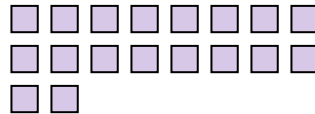
Si vous deviez en retirer 9, combien en restera t-il?
 $17 - 9 = ?$

3) Il y a 7 pentagone ci-dessous.



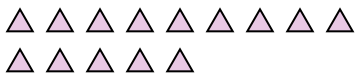
Si vous deviez en retirer 2, combien en restera t-il?
 $7 - 2 = ?$

4) Il y a 18 carrés ci-dessous.



Si vous deviez en retirer 14, combien en restera t-il?
 $18 - 14 = ?$

5) Il y a 14 triangles ci-dessous.



Si vous deviez en retirer 3, combien en restera t-il?
 $14 - 3 = ?$

6) Il y a 15 étoiles ci-dessous.



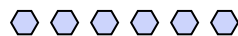
Si vous deviez en retirer 10, combien en restera t-il?
 $15 - 10 = ?$

7) Il y a 18 étoiles ci-dessous.



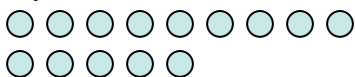
Si vous deviez en retirer 6, combien en restera t-il?
 $18 - 6 = ?$

8) Il y a 6 hexagones ci-dessous.



Si vous deviez en retirer 2, combien en restera t-il?
 $6 - 2 = ?$

9) Il y a 14 cercles ci-dessous.



Si vous deviez en retirer 2, combien en restera t-il?
 $14 - 2 = ?$

10) Il y a 5 triangles ci-dessous.



Si vous deviez en retirer 4, combien en restera t-il?
 $5 - 4 = ?$

1. 4
2. 8
3. 5
4. 4
5. 11
6. 5
7. 12
8. 4
9. 12
10. 1