



Exprimez chaque nombre en utilisant des marques de pointage.

1) 22

---

2) 51

---

3) 71

---

4) 54

---

5) 16

---

6) 7

---

7) 13

---

8) 61

---

9) 19

---

10) 6

---

11) 37

---

12) 34


---



Exprimez chaque nombre en utilisant des marques de pointage.


1) 22 

2) 51 

3) 71 


4) 54 

5) 16 

6) 7 

7) 13 

8) 61 

9) 19 

10) 6 

11) 37 

12) 34 