



Exprimez chaque nombre en utilisant des marques de pointage.

1) 54

---

2) 10

---

3) 85

---

4) 77

---

5) 83

---

6) 84

---

7) 86

---

8) 28

---

9) 19

---

10) 72

---

11) 44

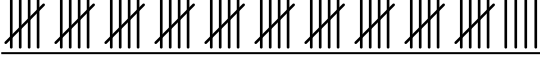
---


12) 52


---





Exprimez chaque nombre en utilisant des marques de pointage.

1) 54 

2) 10 

3) 85 

4) 77 

5) 83 

6) 84 

7) 86 

8) 28 

9) 19 

10) 72 

11) 44 

12) 52 