



Utilisez le tableau pour répondre à chaque question.

Nom	Boîtes de bonbons vendus
Alberta	
Daniela	
Paola	
Marcello	
Emanuele	
Giovanni	
Simone	

Réponses

1. _____
2. _____
3. _____
4. _____
5. _____
6. _____
7. _____
8. _____
9. _____
10. _____

- 1) Qui a vendu le moins de cartons ?
- 2) Qui a vendu le plus de boîtes ?
- 3) Combien de boîtes de bonbons Paola a-t-il vendues ?
- 4) Combien de personnes ont vendu plus de 31 boîtes ?
- 5) Combien de personnes ont vendu moins de 9 boîtes ?
- 6) Qui a vendu plus ? Alberta ou Paola ?
- 7) Qui a vendu moins ? Marcello ou Giovanni ?
- 8) Combien Simone a-t-il vendu de plus que Paola ?
- 9) Qui a vendu exactement 37 boîtes ?
- 10) Combien de moins Daniela a-t-il vendu que Alberta ?



Utilisez le tableau pour répondre à chaque question.

Nom	Boîtes de bonbons vendus	
Alberta		37
Daniela		17
Paola		11
Marcello		13
Emanuele		46
Giovanni		40
Simone		49

- 1) Qui a vendu le moins de cartons ?
- 2) Qui a vendu le plus de boîtes ?
- 3) Combien de boîtes de bonbons Paola a-t-il vendues ?
- 4) Combien de personnes ont vendu plus de 31 boîtes ?
- 5) Combien de personnes ont vendu moins de 9 boîtes ?
- 6) Qui a vendu plus ? Alberta ou Paola ?
- 7) Qui a vendu moins ? Marcello ou Giovanni ?
- 8) Combien Simone a-t-il vendu de plus que Paola ?
- 9) Qui a vendu exactement 37 boîtes ?
- 10) Combien de moins Daniela a-t-il vendu que Alberta ?

Réponses

1. **Paola**
2. **Simone**
3. **11**
4. **4**
5. **0**
6. **Alberta**
7. **Marcello**
8. **38**
9. **Alberta**
10. **20**



Utilisez le tableau pour répondre à chaque question.

Année	Jours de neige
2002	
2003	
2004	
2005	
2006	
2007	
2008	

Réponses

1. _____
2. _____
3. _____
4. _____
5. _____
6. _____
7. _____
8. _____
9. _____
10. _____

- 1) Quelle année a eu le moins de jours de neige ?
- 2) Quelle année a eu le plus grand nombre de jours de neige ?
- 3) Combien de jours de neige y a-t-il eu en 2002 ?
- 4) Combien d'années y a-t-il eu plus de 19 jours de neige ?
- 5) Combien d'années y a-t-il eu moins de 30 jours de neige ?
- 6) Quelle année a eu le plus de jours de neige ? 2008 ou 2004 ?
- 7) Quelle année a eu le moins de jours de neige ? 2005 ou 2003 ?
- 8) Combien y a-t-il eu de jours de neige de plus en 2005 qu'en 2007 ?
- 9) Quelle année a eu exactement 23 jours de neige ?
- 10) Combien de jours de neige de moins y a-t-il eu en 2008 qu'en 2002 ?



Utilisez le tableau pour répondre à chaque question.

Année	Jours de neige	
2002		23
2003		30
2004		33
2005		41
2006		31
2007		34
2008		21

Réponses

1. 2008
2. 2005
3. 23
4. 7
5. 2
6. 2004
7. 2003
8. 7
9. 2002
10. 2

- 1) Quelle année a eu le moins de jours de neige ?
- 2) Quelle année a eu le plus grand nombre de jours de neige ?
- 3) Combien de jours de neige y a-t-il eu en 2002 ?
- 4) Combien d'années y a-t-il eu plus de 19 jours de neige ?
- 5) Combien d'années y a-t-il eu moins de 30 jours de neige ?
- 6) Quelle année a eu le plus de jours de neige ? 2008 ou 2004 ?
- 7) Quelle année a eu le moins de jours de neige ? 2005 ou 2003 ?
- 8) Combien y a-t-il eu de jours de neige de plus en 2005 qu'en 2007 ?
- 9) Quelle année a eu exactement 23 jours de neige ?
- 10) Combien de jours de neige de moins y a-t-il eu en 2008 qu'en 2002 ?



Utilisez le tableau pour répondre à chaque question.

La semaine	Jouets vendus
Semaine 1	
semaine 2	
semaine 3	
semaine 4	
semaine 5	
semaine 6	
semaine 7	

Réponses

1. _____
2. _____
3. _____
4. _____
5. _____
6. _____
7. _____
8. _____
9. _____
10. _____

- 1) Quelle semaine a eu le moins de jouets vendus ?
- 2) Quelle semaine a eu le plus grand nombre de jouets vendus ?
- 3) Combien de jouets ont été vendus le semaine 6 ?
- 4) Pendant combien de semaines plus de 10 jouets ont-ils été vendus ?
- 5) Pendant combien de semaines moins de 31 jouets ont-ils été vendus ?
- 6) Quelle semaine a eu plus de jouets vendus? semaine 4 ou semaine 3 ?
- 7) Quelle semaine a eu le moins de jouets vendus ? semaine 7 ou semaine 2 ?
- 8) Combien de jouets de plus ont été vendus le Semaine 1 que le semaine 2 ?
- 9) Au cours de quelle semaine exactement 7 jouets ont-ils été vendus ?
- 10) Combien de jouets de moins ont été vendus le semaine 5 que le semaine 3 ?



Utilisez le tableau pour répondre à chaque question.

La semaine	Jouets vendus	
Semaine 1		35
semaine 2		12
semaine 3		32
semaine 4		10
semaine 5		7
semaine 6		30
semaine 7		29

Réponses

1. semaine 5
2. Semaine 1
3. 30
4. 5
5. 5
6. semaine 3
7. semaine 2
8. 23
9. semaine 5
10. 25

- 1) Quelle semaine a eu le moins de jouets vendus ?
- 2) Quelle semaine a eu le plus grand nombre de jouets vendus ?
- 3) Combien de jouets ont été vendus le semaine 6 ?
- 4) Pendant combien de semaines plus de 10 jouets ont-ils été vendus ?
- 5) Pendant combien de semaines moins de 31 jouets ont-ils été vendus ?
- 6) Quelle semaine a eu plus de jouets vendus? semaine 4 ou semaine 3 ?
- 7) Quelle semaine a eu le moins de jouets vendus ? semaine 7 ou semaine 2 ?
- 8) Combien de jouets de plus ont été vendus le Semaine 1 que le semaine 2 ?
- 9) Au cours de quelle semaine exactement 7 jouets ont-ils été vendus ?
- 10) Combien de jouets de moins ont été vendus le semaine 5 que le semaine 3 ?



Utilisez le tableau pour répondre à chaque question.

Nom	Dollars gagnés
Caterina	
Bianca	
Patrizia	
Enrico	
Marcello	
Angelo	
Davide	

Réponses

1. _____
2. _____
3. _____
4. _____
5. _____
6. _____
7. _____
8. _____
9. _____
10. _____

- 1) Qui a gagné le moins d'argent ?
- 2) Qui a gagné le plus d'argent ?
- 3) Combien d'argent Angelo a-t-il gagné ?
- 4) Combien de personnes ont gagné plus de 17 \$?
- 5) Combien de personnes ont gagné moins de 15 dollars ?
- 6) Qui a gagné plus ? Davide ou Caterina ?
- 7) Qui a gagné moins ? Angelo ou Enrico ?
- 8) Combien Davide a-t-il gagné de plus que Bianca ?
- 9) Qui a gagné exactement 22 dollars ?
- 10) Combien de moins Patrizia a-t-il gagné que Caterina ?



Utilisez le tableau pour répondre à chaque question.

Nom	Dollars gagnés	
Caterina		50
Bianca		13
Patrizia		23
Enrico		22
Marcello		44
Angelo		28
Davide		19

- 1) Qui a gagné le moins d'argent ?
- 2) Qui a gagné le plus d'argent ?
- 3) Combien d'argent Angelo a-t-il gagné ?
- 4) Combien de personnes ont gagné plus de 17 \$?
- 5) Combien de personnes ont gagné moins de 15 dollars ?
- 6) Qui a gagné plus ? Davide ou Caterina ?
- 7) Qui a gagné moins ? Angelo ou Enrico ?
- 8) Combien Davide a-t-il gagné de plus que Bianca ?
- 9) Qui a gagné exactement 22 dollars ?
- 10) Combien de moins Patrizia a-t-il gagné que Caterina ?

Réponses

1. **Bianca**
2. **Caterina**
3. **28**
4. **6**
5. **1**
6. **Caterina**
7. **Enrico**
8. **6**
9. **Enrico**
10. **27**



Utilisez le tableau pour répondre à chaque question.

Nom	Minutes passées à étudier
Sara	
Caterina	
Giovanna	
Stefano	
Luca	
Claudio	
Giovanni	

Réponses

1. _____
2. _____
3. _____
4. _____
5. _____
6. _____
7. _____
8. _____
9. _____
10. _____

- 1) Qui a passé le moins de temps à étudier ?
- 2) Qui a passé le plus de temps à étudier ?
- 3) Combien de minutes Claudio a-t-il passé à étudier ?
- 4) Combien de personnes ont passé plus de 50 minutes à étudier ?
- 5) Combien de personnes ont passé moins de 15 minutes à étudier ?
- 6) Qui a étudié plus longtemps ? Sara ou Luca ?
- 7) Qui a passé le moins de temps à étudier ? Claudio ou Giovanni ?
- 8) Combien de temps Stefano a-t-il passé à étudier que Giovanna ?
- 9) Qui a étudié pendant exactement 14 minutes ?
- 10) Combien de temps Giovanni a-t-il étudié en moins que Luca ?



Utilisez le tableau pour répondre à chaque question.

Jour	Livres vendus
Lundi	
Mardi	
Mercredi	
jeudi	
vendredi	
samedi	
dimanche	

Réponses

1. _____
2. _____
3. _____
4. _____
5. _____
6. _____
7. _____
8. _____
9. _____
10. _____

- 1) Quel jour a eu le moins de livres vendus ?
- 2) Quel jour a eu le plus grand nombre de livres vendus ?
- 3) Combien de livres ont été vendus sur {test} ?
- 4) Pendant combien de jours plus de 48 livres ont-ils été vendus ?
- 5) Pendant combien de jours moins de 46 livres ont-ils été vendus ?
- 6) Quel jour a eu plus de livres vendus? Mercredi ou jeudi ?
- 7) Quel jour a eu moins de livres vendus ? Mardi ou Lundi ?
- 8) Combien de livres de plus ont été vendus le Mardi que le jeudi ?
- 9) Quel jour exactement 21 livres ont-ils été vendus ?
- 10) Combien de livres de moins ont été vendus le Mercredi que le vendredi ?



Utilisez le tableau pour répondre à chaque question.

Jour	Livres vendus	
Lundi		25
Mardi		32
Mercredi		28
jeudi		19
vendredi		47
samedi		18
dimanche		21

- 1) Quel jour a eu le moins de livres vendus ?
- 2) Quel jour a eu le plus grand nombre de livres vendus ?
- 3) Combien de livres ont été vendus sur {test} ?
- 4) Pendant combien de jours plus de 48 livres ont-ils été vendus ?
- 5) Pendant combien de jours moins de 46 livres ont-ils été vendus ?
- 6) Quel jour a eu plus de livres vendus? Mercredi ou jeudi ?
- 7) Quel jour a eu moins de livres vendus ? Mardi ou Lundi ?
- 8) Combien de livres de plus ont été vendus le Mardi que le jeudi ?
- 9) Quel jour exactement 21 livres ont-ils été vendus ?
- 10) Combien de livres de moins ont été vendus le Mercredi que le vendredi ?

Réponses

1. **samedi**
2. **vendredi**
3. **19**
4. **0**
5. **6**
6. **Mercredi**
7. **Lundi**
8. **13**
9. **dimanche**
10. **19**



Utilisez le tableau pour répondre à chaque question.

La semaine	Jouets vendus
Semaine 1	
semaine 2	
semaine 3	
semaine 4	
semaine 5	
semaine 6	
semaine 7	





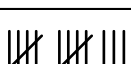
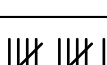
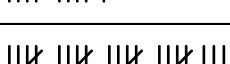
Réponses

1. _____
2. _____
3. _____
4. _____
5. _____
6. _____
7. _____
8. _____
9. _____
10. _____

- 1) Quelle semaine a eu le moins de jouets vendus ?
- 2) Quelle semaine a eu le plus grand nombre de jouets vendus ?
- 3) Combien de jouets ont été vendus le semaine 5 ?
- 4) Pendant combien de semaines plus de 16 jouets ont-ils été vendus ?
- 5) Pendant combien de semaines moins de 6 jouets ont-ils été vendus ?
- 6) Quelle semaine a eu plus de jouets vendus? semaine 4 ou semaine 6 ?
- 7) Quelle semaine a eu le moins de jouets vendus ? semaine 2 ou semaine 3 ?
- 8) Combien de jouets de plus ont été vendus le semaine 3 que le semaine 6 ?
- 9) Au cours de quelle semaine exactement 22 jouets ont-ils été vendus ?
- 10) Combien de jouets de moins ont été vendus le semaine 5 que le semaine 7 ?



Utilisez le tableau pour répondre à chaque question.

La semaine	Jouets vendus	
Semaine 1		39
semaine 2		30
semaine 3		22
semaine 4		19
semaine 5		13
semaine 6		11
semaine 7		23

- 1) Quelle semaine a eu le moins de jouets vendus ?
- 2) Quelle semaine a eu le plus grand nombre de jouets vendus ?
- 3) Combien de jouets ont été vendus le semaine 5 ?
- 4) Pendant combien de semaines plus de 16 jouets ont-ils été vendus ?
- 5) Pendant combien de semaines moins de 6 jouets ont-ils été vendus ?
- 6) Quelle semaine a eu plus de jouets vendus? semaine 4 ou semaine 6 ?
- 7) Quelle semaine a eu le moins de jouets vendus ? semaine 2 ou semaine 3 ?
- 8) Combien de jouets de plus ont été vendus le semaine 3 que le semaine 6 ?
- 9) Au cours de quelle semaine exactement 22 jouets ont-ils été vendus ?
- 10) Combien de jouets de moins ont été vendus le semaine 5 que le semaine 7 ?

Réponses

1. semaine 6
2. Semaine 1
3. 13
4. 5
5. 0
6. semaine 4
7. semaine 3
8. 11
9. semaine 3
10. 10



Utilisez le tableau pour répondre à chaque question.

Équipe	Points marqués
Alpha	
Bêta	
Gamma	
Delta	
Epsilon	
Zêta	
Kappa	

Réponses

1. _____
2. _____
3. _____
4. _____
5. _____
6. _____
7. _____
8. _____
9. _____
10. _____

- 1) Quelle équipe a marqué le moins de points ?
- 2) Quelle équipe a marqué le plus de points ?
- 3) Combien de points Kappa a-t-il marqué ?
- 4) Combien d'équipes ont obtenu plus de 20 points ?
- 5) Combien d'équipes ont obtenu moins de 34 points ?
- 6) Quelle équipe a eu le plus de points ? Gamma ou Kappa ?
- 7) Lequel avait le moins de points ? Alpha ou Bêta ?
- 8) Combien de points de plus Alpha a-t-il marqué que Delta ?
- 9) Quelle équipe a marqué exactement 24 points ?
- 10) Combien de points de moins Kappa a-t-il marqué que Epsilon ?



Utilisez le tableau pour répondre à chaque question.

Équipe	Points marqués	
Alpha		36
Bêta		24
Gamma		37
Delta		7
Epsilon		38
Zêta		16
Kappa		22

Réponses

1. Delta
2. Epsilon
3. 22
4. 5
5. 4
6. Gamma
7. Bêta
8. 29
9. Bêta
10. 16

- 1) Quelle équipe a marqué le moins de points ?
- 2) Quelle équipe a marqué le plus de points ?
- 3) Combien de points Kappa a-t-il marqué ?
- 4) Combien d'équipes ont obtenu plus de 20 points ?
- 5) Combien d'équipes ont obtenu moins de 34 points ?
- 6) Quelle équipe a eu le plus de points ? Gamma ou Kappa ?
- 7) Lequel avait le moins de points ? Alpha ou Bêta ?
- 8) Combien de points de plus Alpha a-t-il marqué que Delta ?
- 9) Quelle équipe a marqué exactement 24 points ?
- 10) Combien de points de moins Kappa a-t-il marqué que Epsilon ?



Utilisez le tableau pour répondre à chaque question.

Équipe	Points marqués
Alpha	
Bêta	
Gamma	
Delta	
Epsilon	
Zêta	
Kappa	

Réponses

1. _____
2. _____
3. _____
4. _____
5. _____
6. _____
7. _____
8. _____
9. _____
10. _____

- 1) Quelle équipe a marqué le moins de points ?
- 2) Quelle équipe a marqué le plus de points ?
- 3) Combien de points Gamma a-t-il marqué ?
- 4) Combien d'équipes ont obtenu plus de 30 points ?
- 5) Combien d'équipes ont obtenu moins de 11 points ?
- 6) Quelle équipe a eu le plus de points ? Kappa ou Zêta ?
- 7) Lequel avait le moins de points ? Delta ou Gamma ?
- 8) Combien de points de plus Bêta a-t-il marqué que Delta ?
- 9) Quelle équipe a marqué exactement 22 points ?
- 10) Combien de points de moins Kappa a-t-il marqué que Zêta ?



Utilisez le tableau pour répondre à chaque question.

Équipe	Points marqués	
Alpha		15
Bêta		43
Gamma		46
Delta		41
Epsilon		22
Zêta		28
Kappa		20

Réponses

1. Alpha
2. Gamma
3. 46
4. 3
5. 0
6. Zêta
7. Delta
8. 2
9. Epsilon
10. 8

- 1) Quelle équipe a marqué le moins de points ?
- 2) Quelle équipe a marqué le plus de points ?
- 3) Combien de points Gamma a-t-il marqué ?
- 4) Combien d'équipes ont obtenu plus de 30 points ?
- 5) Combien d'équipes ont obtenu moins de 11 points ?
- 6) Quelle équipe a eu le plus de points ? Kappa ou Zêta ?
- 7) Lequel avait le moins de points ? Delta ou Gamma ?
- 8) Combien de points de plus Bêta a-t-il marqué que Delta ?
- 9) Quelle équipe a marqué exactement 22 points ?
- 10) Combien de points de moins Kappa a-t-il marqué que Zêta ?