

**Déterminez quelle lettre répond le mieux à chaque question.****Réponses**

- 1) Quel thermomètre représente le mieux la température  $60^{\circ}$  ?
- 2) Quel thermomètre représente le mieux la température  $7^{\circ}$  ?
- 3) Quel thermomètre représente le mieux la température  $33^{\circ}$  ?
- 4) Quel thermomètre représente le mieux la température  $72^{\circ}$  ?
- 5) Quel thermomètre représente le mieux la température  $90^{\circ}$  ?
- 6) Quel thermomètre représente le mieux la température  $32^{\circ}$  ?
- 7) Quel thermomètre représente le mieux la température  $74^{\circ}$  ?
- 8) Quel thermomètre représente le mieux la température  $109^{\circ}$  ?
- 9) Quel thermomètre représente le mieux la température  $42^{\circ}$  ?
- 10) Quel thermomètre représente le mieux la température  $91^{\circ}$  ?

1. \_\_\_\_\_

2. \_\_\_\_\_

3. \_\_\_\_\_

4. \_\_\_\_\_

5. \_\_\_\_\_

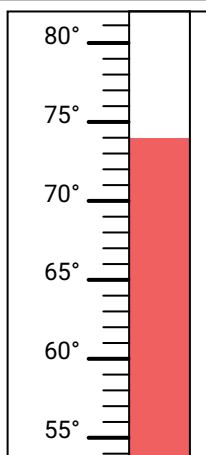
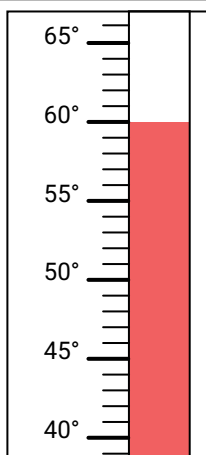
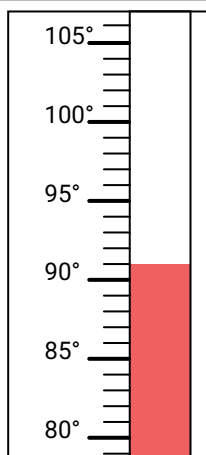
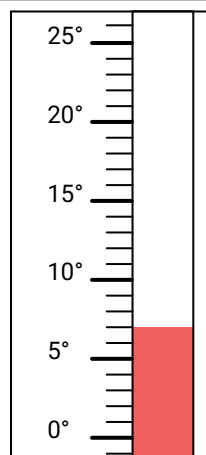
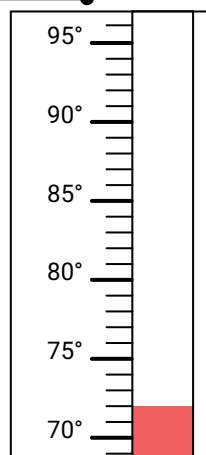
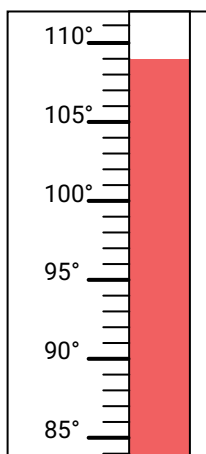
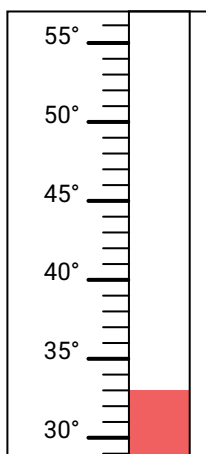
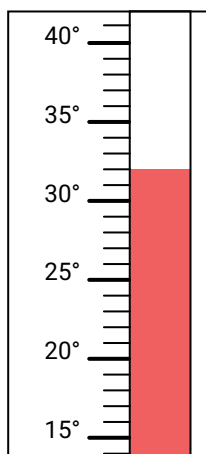
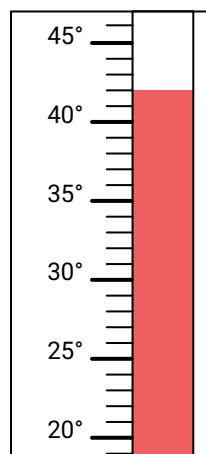
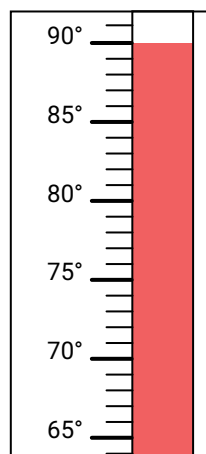
6. \_\_\_\_\_

7. \_\_\_\_\_

8. \_\_\_\_\_

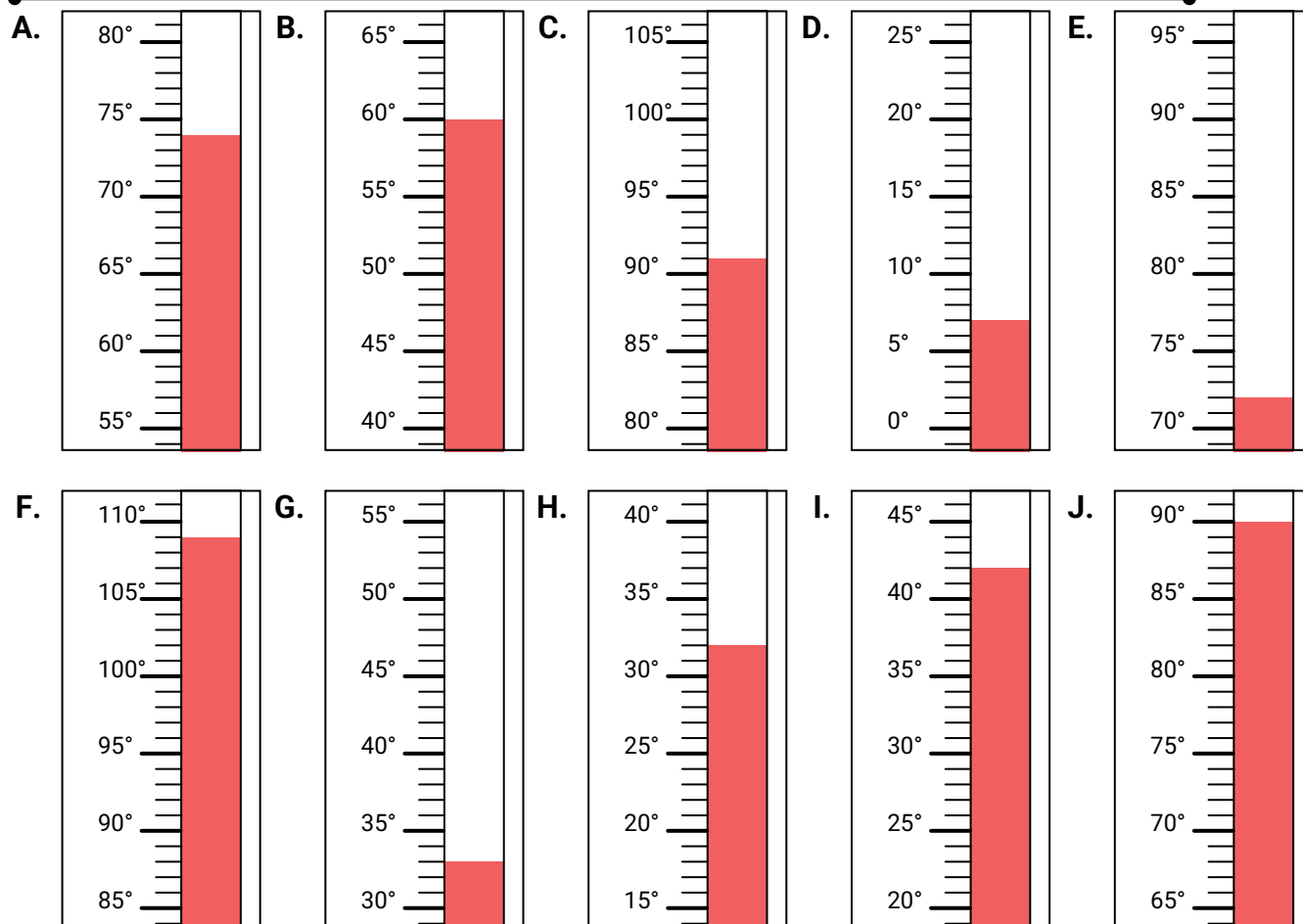
9. \_\_\_\_\_

10. \_\_\_\_\_

**A.****B.****C.****D.****E.****F.****G.****H.****I.****J.**

**Déterminez quelle lettre répond le mieux à chaque question.****Réponses**

- 1) Quel thermomètre représente le mieux la température  $60^{\circ}$  ?
- 2) Quel thermomètre représente le mieux la température  $7^{\circ}$  ?
- 3) Quel thermomètre représente le mieux la température  $33^{\circ}$  ?
- 4) Quel thermomètre représente le mieux la température  $72^{\circ}$  ?
- 5) Quel thermomètre représente le mieux la température  $90^{\circ}$  ?
- 6) Quel thermomètre représente le mieux la température  $32^{\circ}$  ?
- 7) Quel thermomètre représente le mieux la température  $74^{\circ}$  ?
- 8) Quel thermomètre représente le mieux la température  $109^{\circ}$  ?
- 9) Quel thermomètre représente le mieux la température  $42^{\circ}$  ?
- 10) Quel thermomètre représente le mieux la température  $91^{\circ}$  ?



1. **B**
2. **D**
3. **G**
4. **E**
5. **J**
6. **H**
7. **A**
8. **F**
9. **I**
10. **C**