

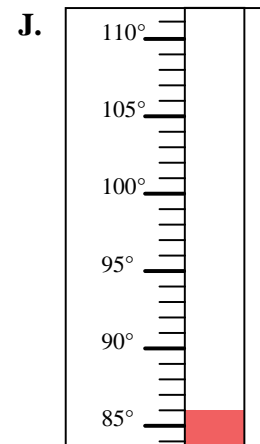
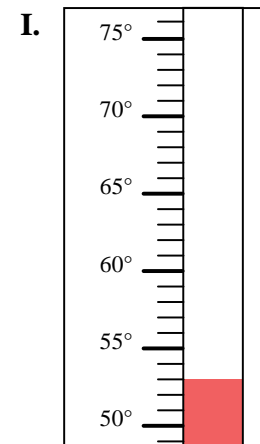
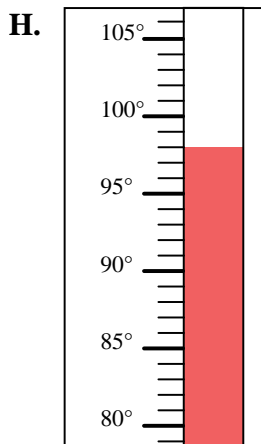
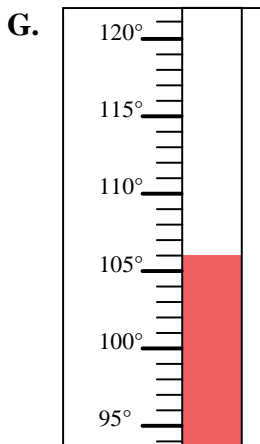
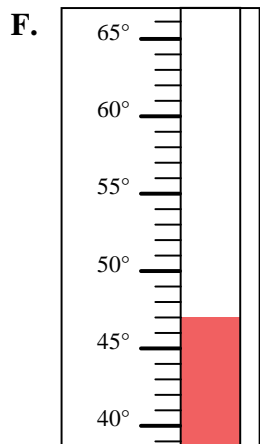
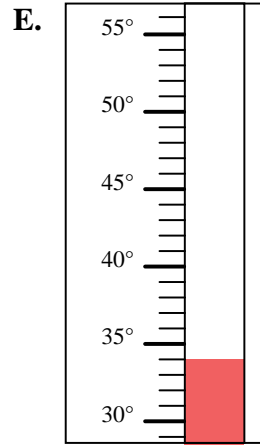
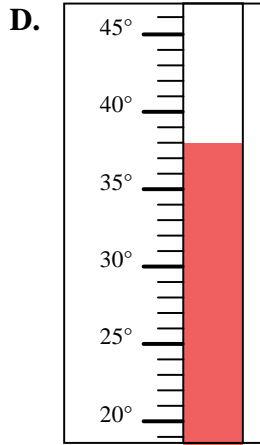
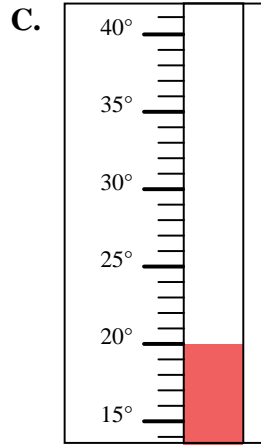
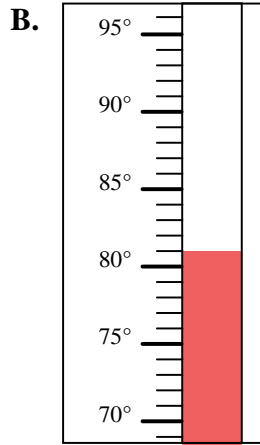
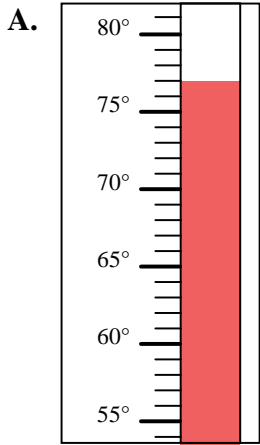


Déterminez quelle lettre répond le mieux à chaque question.

**Réponses**

- 1) Quelle thermomètre représente le mieux la température de 53°?
- 2) Quelle thermomètre représente le mieux la température de 98°?
- 3) Quelle thermomètre représente le mieux la température de 77°?
- 4) Quelle thermomètre représente le mieux la température de 106°?
- 5) Quelle thermomètre représente le mieux la température de 47°?
- 6) Quelle thermomètre représente le mieux la température de 86°?
- 7) Quelle thermomètre représente le mieux la température de 34°?
- 8) Quelle thermomètre représente le mieux la température de 81°?
- 9) Quelle thermomètre représente le mieux la température de 20°?
- 10) Quelle thermomètre représente le mieux la température de 38°?

1. \_\_\_\_\_
2. \_\_\_\_\_
3. \_\_\_\_\_
4. \_\_\_\_\_
5. \_\_\_\_\_
6. \_\_\_\_\_
7. \_\_\_\_\_
8. \_\_\_\_\_
9. \_\_\_\_\_
10. \_\_\_\_\_





Déterminez quelle lettre répond le mieux à chaque question.

- 1) Quelle thermomètre représente le mieux la température de 53°?
- 2) Quelle thermomètre représente le mieux la température de 98°?
- 3) Quelle thermomètre représente le mieux la température de 77°?
- 4) Quelle thermomètre représente le mieux la température de 106°?
- 5) Quelle thermomètre représente le mieux la température de 47°?
- 6) Quelle thermomètre représente le mieux la température de 86°?
- 7) Quelle thermomètre représente le mieux la température de 34°?
- 8) Quelle thermomètre représente le mieux la température de 81°?
- 9) Quelle thermomètre représente le mieux la température de 20°?
- 10) Quelle thermomètre représente le mieux la température de 38°?

**Réponses**1. **I**2. **H**3. **A**4. **G**5. **F**6. **J**7. **E**8. **B**9. **C**10. **D**