

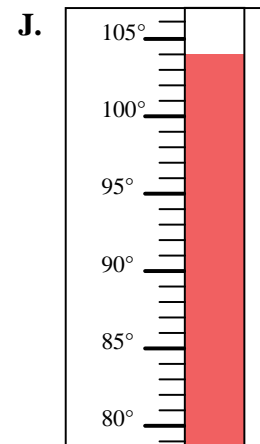
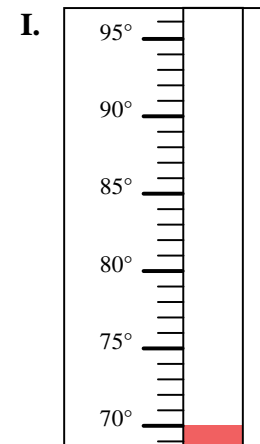
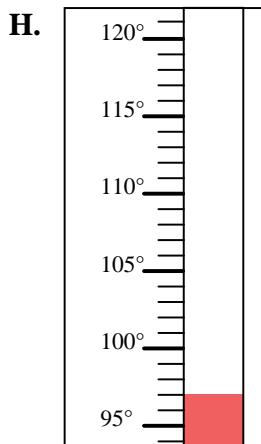
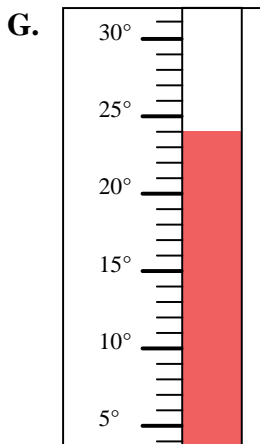
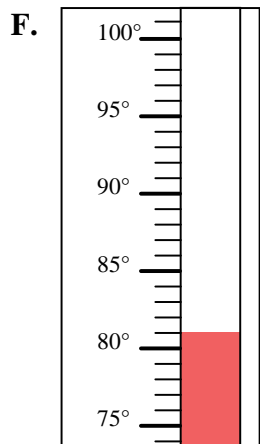
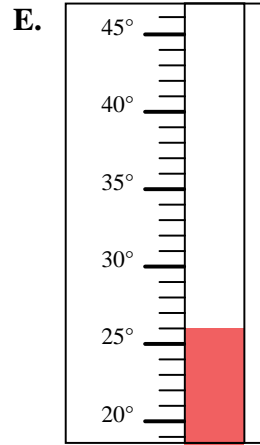
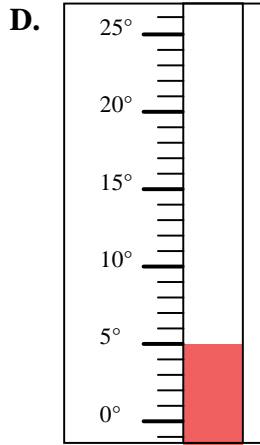
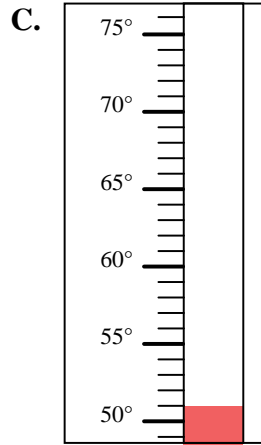
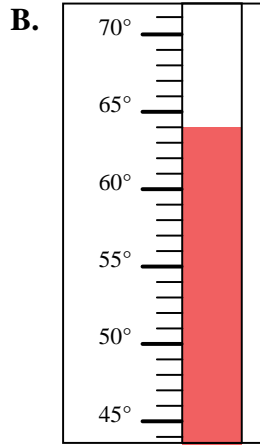
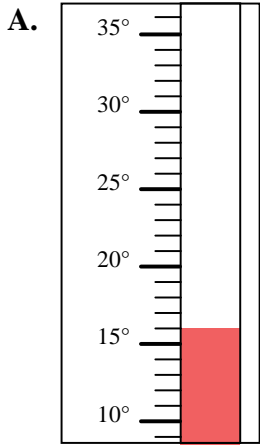


Déterminez quelle lettre répond le mieux à chaque question.

Réponses

- 1) Quelle thermomètre représente le mieux la température de 70°?
- 2) Quelle thermomètre représente le mieux la température de 51°?
- 3) Quelle thermomètre représente le mieux la température de 64°?
- 4) Quelle thermomètre représente le mieux la température de 26°?
- 5) Quelle thermomètre représente le mieux la température de 104°?
- 6) Quelle thermomètre représente le mieux la température de 97°?
- 7) Quelle thermomètre représente le mieux la température de 5°?
- 8) Quelle thermomètre représente le mieux la température de 81°?
- 9) Quelle thermomètre représente le mieux la température de 16°?
- 10) Quelle thermomètre représente le mieux la température de 24°?

1. _____
2. _____
3. _____
4. _____
5. _____
6. _____
7. _____
8. _____
9. _____
10. _____





Déterminez quelle lettre répond le mieux à chaque question.

- 1) Quelle thermomètre représente le mieux la température de 70°?
- 2) Quelle thermomètre représente le mieux la température de 51°?
- 3) Quelle thermomètre représente le mieux la température de 64°?
- 4) Quelle thermomètre représente le mieux la température de 26°?
- 5) Quelle thermomètre représente le mieux la température de 104°?
- 6) Quelle thermomètre représente le mieux la température de 97°?
- 7) Quelle thermomètre représente le mieux la température de 5°?
- 8) Quelle thermomètre représente le mieux la température de 81°?
- 9) Quelle thermomètre représente le mieux la température de 16°?
- 10) Quelle thermomètre représente le mieux la température de 24°?

Réponses1. **I**2. **C**3. **B**4. **E**5. **J**6. **H**7. **D**8. **F**9. **A**10. **G**