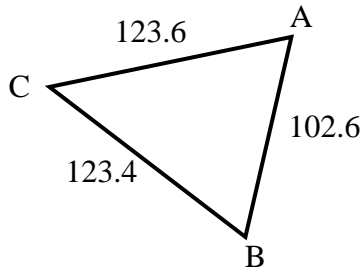


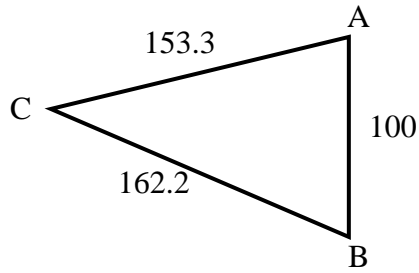


Trouvez la longueur du côté indiqué.

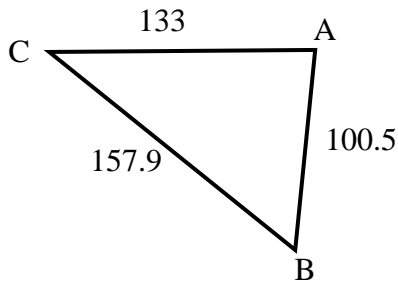
1) Trouvez la longueur du côté C.



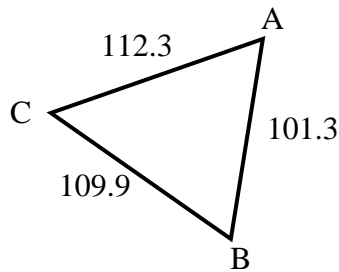
2) Trouvez la longueur du côté C.



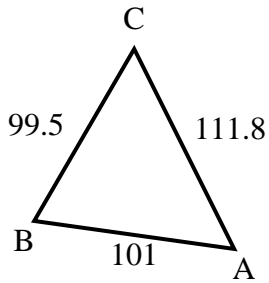
3) Trouvez la longueur du côté A.



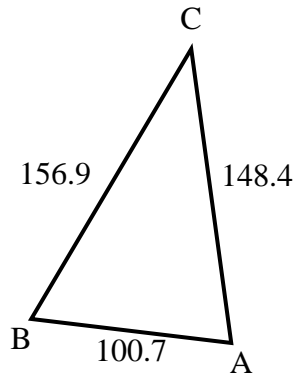
4) Trouvez la longueur du côté B.



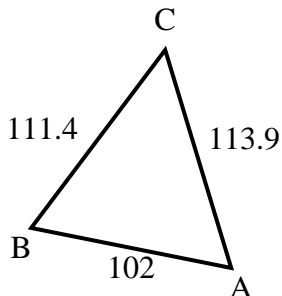
5) Trouvez la longueur du côté A.



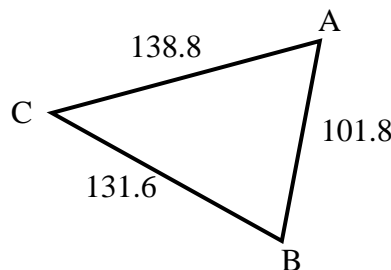
6) Trouvez la longueur du côté A.



7) Trouvez la longueur du côté A.



8) Trouvez la longueur du côté B.



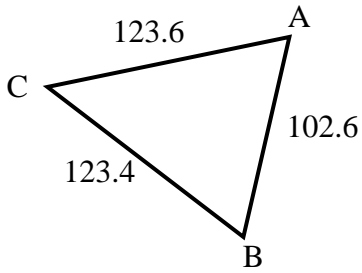
**Réponses**

1. \_\_\_\_\_
2. \_\_\_\_\_
3. \_\_\_\_\_
4. \_\_\_\_\_
5. \_\_\_\_\_
6. \_\_\_\_\_
7. \_\_\_\_\_
8. \_\_\_\_\_

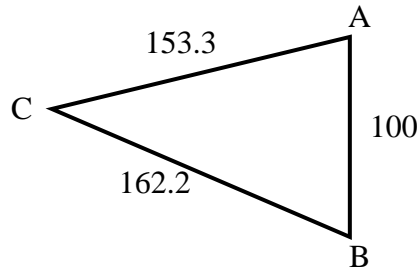


Trouvez la longueur du côté indiqué.

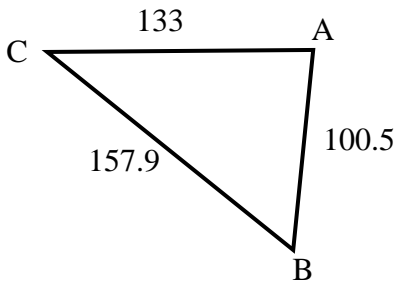
1) Trouvez la longueur du côté C.



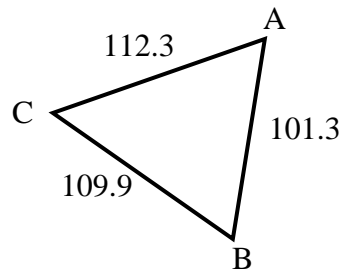
2) Trouvez la longueur du côté C.



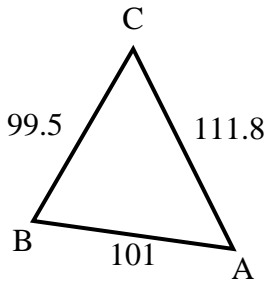
3) Trouvez la longueur du côté A.



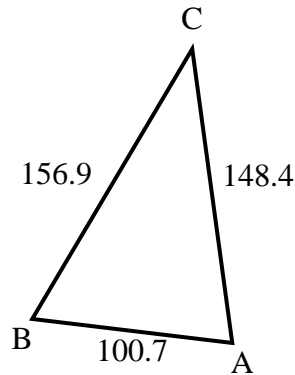
4) Trouvez la longueur du côté B.



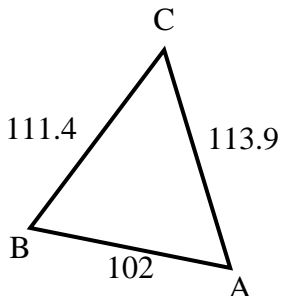
5) Trouvez la longueur du côté A.



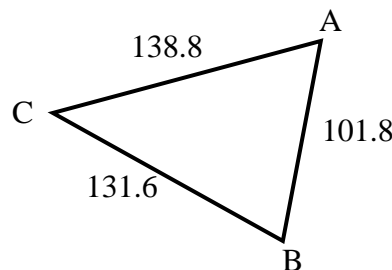
6) Trouvez la longueur du côté A.



7) Trouvez la longueur du côté A.



8) Trouvez la longueur du côté B.



**Réponses**

1. 102.6

2. 100

3. 157.9

4. 112.3

5. 99.5

6. 156.9

7. 111.4

8. 138.8