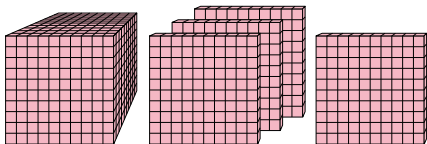




Résoudre chaque problème.

Réponses

1)



Quel chiffre est à la position billions dans le nombre ci-dessus ?

1. _____

2. _____

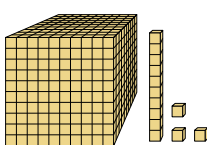
3. _____

4. _____

5. _____

6. _____

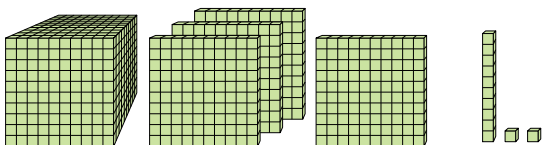
2)



Quel chiffre est à la position dizaines dans le nombre ci-dessus ?

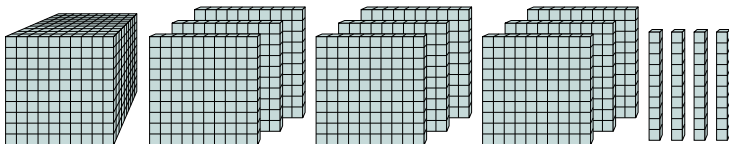
6. _____

3)



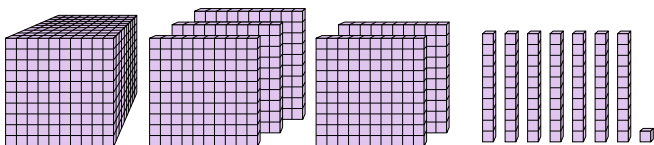
Quel chiffre est à la position billions dans le nombre ci-dessus ?

4)



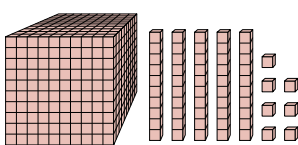
Quel chiffre est à la position centaines dans le nombre ci-dessus ?

5)



Quel chiffre est à la position unités dans le nombre ci-dessus ?

6)



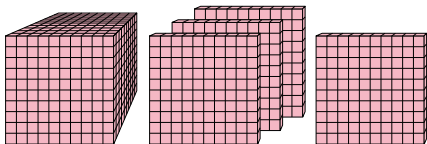
Quel chiffre est à la position dizaines dans le nombre ci-dessus ?



Résoudre chaque problème.

Réponses

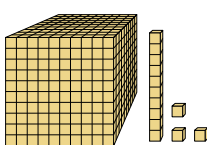
1)



Quel chiffre est à la position billions dans le nombre ci-dessus ?

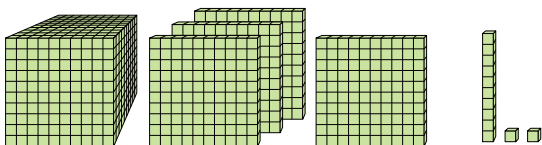
1. 42. 13. 44. 15. 16. 5

2)



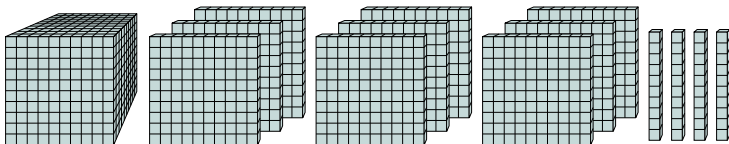
Quel chiffre est à la position dizaines dans le nombre ci-dessus ?

3)



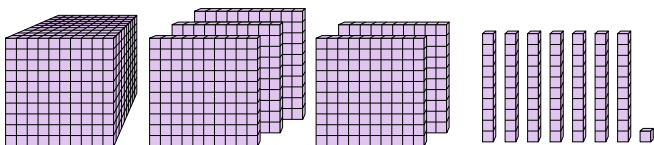
Quel chiffre est à la position billions dans le nombre ci-dessus ?

4)



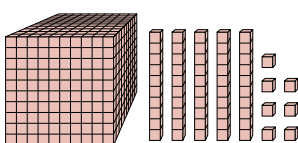
Quel chiffre est à la position centaines dans le nombre ci-dessus ?

5)



Quel chiffre est à la position unités dans le nombre ci-dessus ?

6)



Quel chiffre est à la position dizaines dans le nombre ci-dessus ?