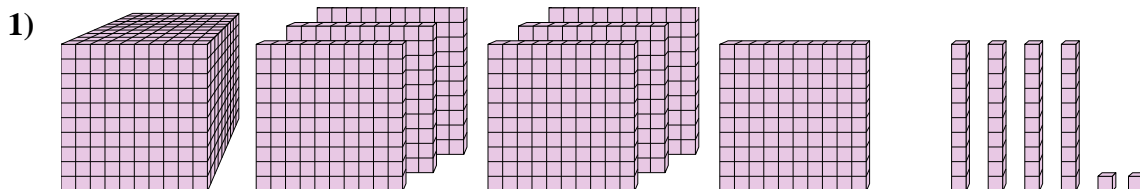




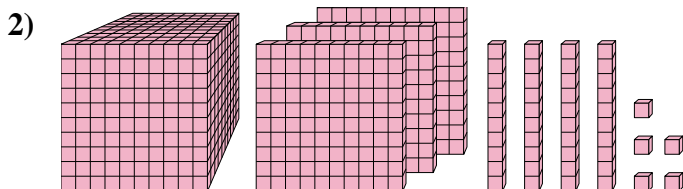
Résoudre chaque problème.

**Réponses**



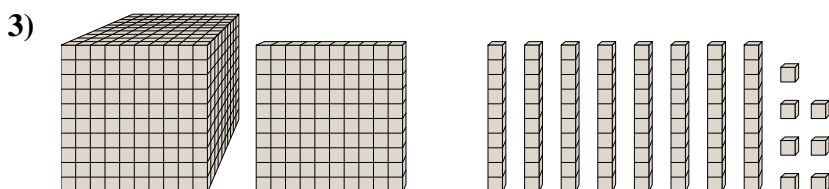
Quel est le chiffre positionné à la unités place du nombre ci-dessus?

1. \_\_\_\_\_



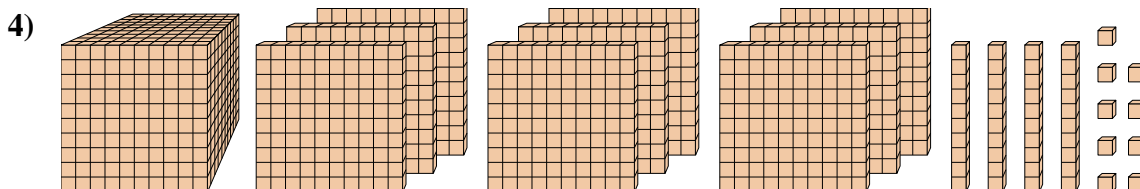
Quel est le chiffre positionné à la centaines place du nombre ci-dessus?

2. \_\_\_\_\_



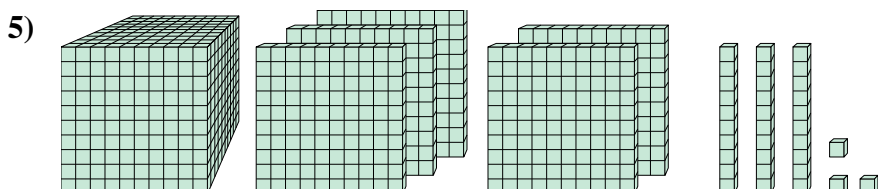
Quel est le chiffre positionné à la unités place du nombre ci-dessus?

3. \_\_\_\_\_



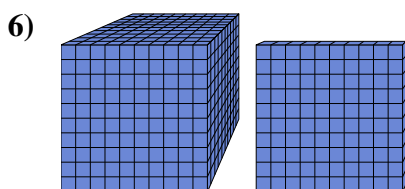
Quel est le chiffre positionné à la billions place du nombre ci-dessus?

4. \_\_\_\_\_



Quel est le chiffre positionné à la dizaines place du nombre ci-dessus?

5. \_\_\_\_\_



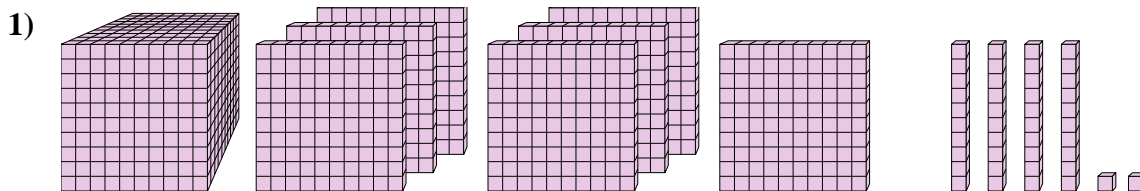
Quel est le chiffre positionné à la dizaines place du nombre ci-dessus?

6. \_\_\_\_\_



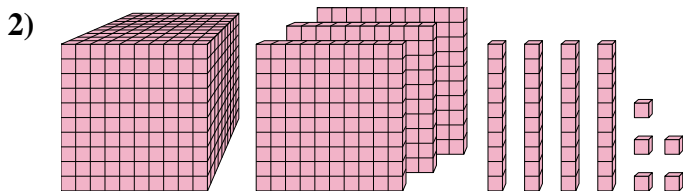
Résoudre chaque problème.

**Réponses**



Quel est le chiffre positionné à la unités place du nombre ci-dessus?

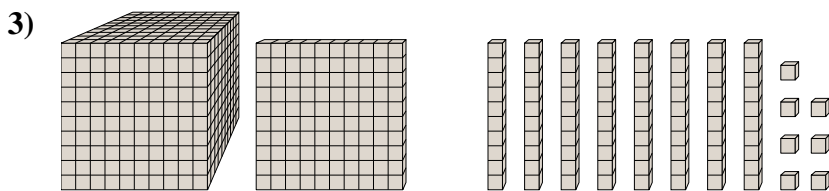
1. 2



Quel est le chiffre positionné à la centaines place du nombre ci-dessus?

2. 1

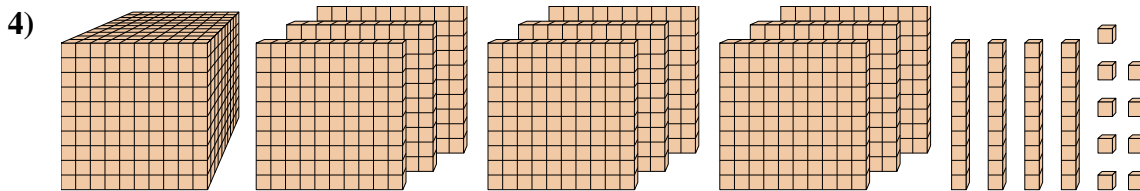
3. 7



Quel est le chiffre positionné à la unités place du nombre ci-dessus?

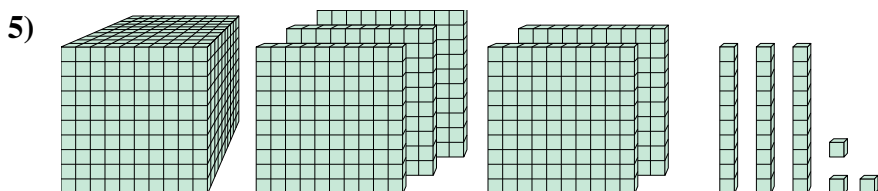
4. 9

5. 3

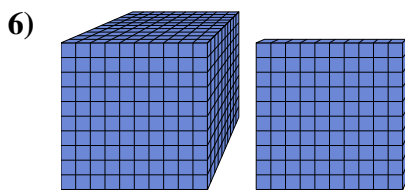


Quel est le chiffre positionné à la billions place du nombre ci-dessus?

6. 0



Quel est le chiffre positionné à la dizaines place du nombre ci-dessus?



Quel est le chiffre positionné à la dizaines place du nombre ci-dessus?