






Comparez le nombre de figures.

Réponses

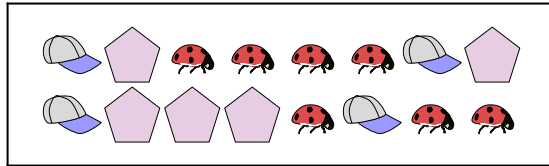
1)





Y a-t-il moins de  ou moins de  ?

- A. 
B. 

2)



Y a-t-il moins de  ou moins de  ?

- A. 
B. 

1. _____

2. _____


3. _____

4. _____



5. _____

6. _____

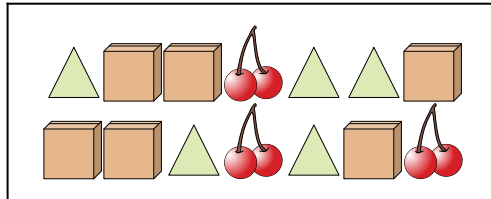
3)




Y a-t-il moins de  ou moins de  ?

- A. 
B. 

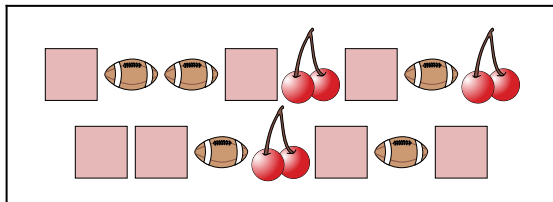
4)





Y a-t-il plus de  ou plus de  ?

- A. 
B. 

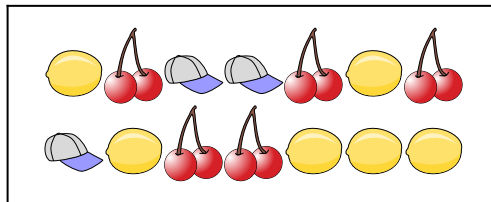
5)





Y a-t-il moins de  ou moins de  ?

- A. 
B. 

6)



Y a-t-il plus de  ou plus de  ?


- A. 
B. 





Comparez le nombre de figures.

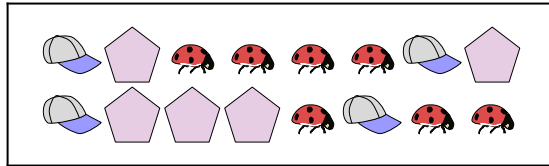
Réponses



1)

Y a-t-il moins de  ou moins de  ?

- A. 
B. 


2)



Y a-t-il moins de  ou moins de  ?

- A. 
B. 

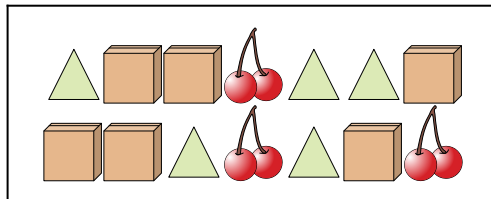
1. **B**2. **B**3. **A**4. **B**5. **A**6. **A**



3)

Y a-t-il moins de  ou moins de  ?

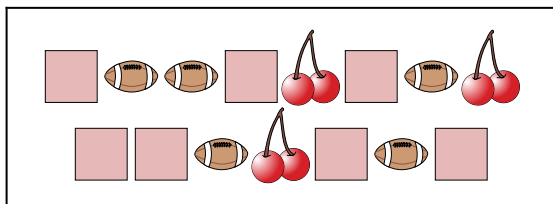
- A. 
B. 



4)

Y a-t-il plus de  ou plus de  ?

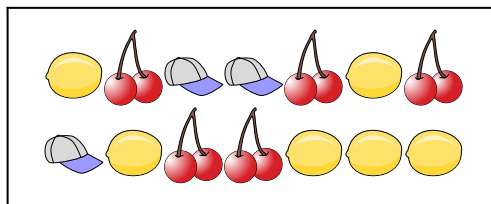
- A. 
B. 


5)

Y a-t-il moins de  ou moins de  ?

- A. 
B. 

6)

Y a-t-il plus de  ou plus de  ?

- A. 
B. 