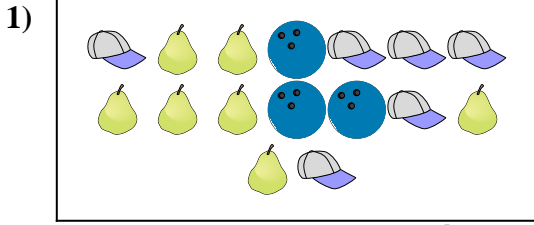





Comparez le nombre de figures.



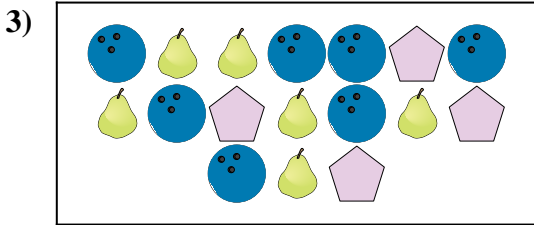
Y a-t-il moins de ou de ?

- A.
- B.



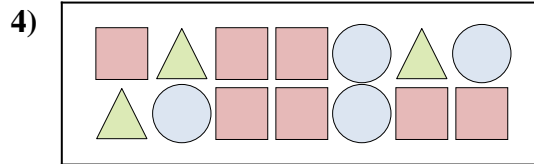
Y a-t-il moins de ou de ?

- A.
- B.




Y a-t-il plus de ou de ?

- A.
- B.




Y a-t-il plus de ou de ?

- A.
- B.



Y a-t-il plus de ou de ?

- A.
- B.



Y a-t-il moins de ou de ?

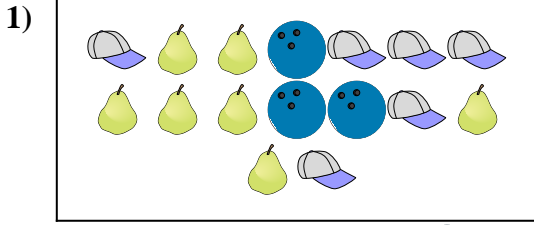
- A.
- B.

**Réponses**

- 1. \_\_\_\_\_
- 2. \_\_\_\_\_
- 3. \_\_\_\_\_
- 4. \_\_\_\_\_
- 5. \_\_\_\_\_
- 6. \_\_\_\_\_




Comparez le nombre de figures.



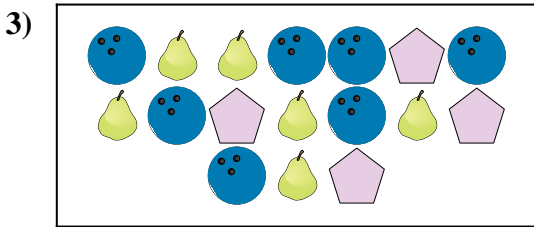
Y a-t-il moins de ou de ?

- A.
- B.



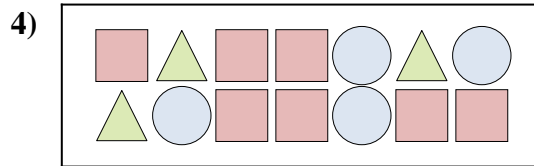
Y a-t-il moins de ou de ?

- A.
- B.




Y a-t-il plus de ou de ?

- A.
- B.




Y a-t-il plus de ou de ?

- A.
- B.



Y a-t-il plus de ou de ?

- A.
- B.



Y a-t-il moins de ou de ?

- A.
- B.

**Réponses**

- 1.     **B**
- 2.     **A**
- 3.     **A**
- 4.     **A**
- 5.     **A**
- 6.     **A**