

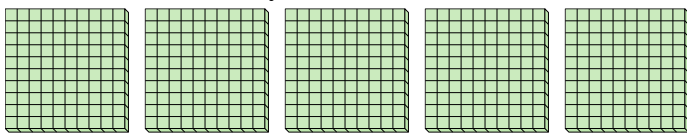


Utilisez les groupements pour répondre à chaque question.

**Réponses**

1) a. Combien de groupes de 100 y a-t-il?

b. Combien de blocs y a-t-il?



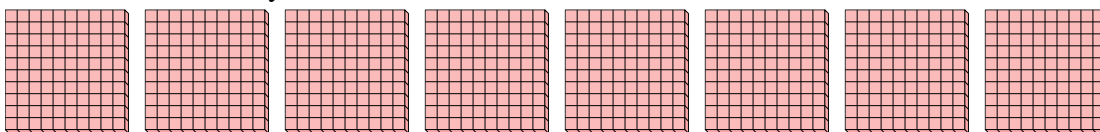
1. \_\_\_\_

2. \_\_\_\_

3. \_\_\_\_

2) a. Combien de groupes de 100 y a-t-il?

b. Combien de blocs y a-t-il?




4. \_\_\_\_

5. \_\_\_\_

6. \_\_\_\_

3) a. Combien de groupes de 100 y a-t-il?

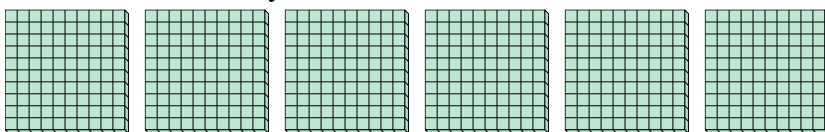
b. Combien de blocs y a-t-il?



7. \_\_\_\_


4) a. Combien de groupes de 100 y a-t-il?

b. Combien de blocs y a-t-il?




5) a. Combien de groupes de 100 y a-t-il?

b. Combien de blocs y a-t-il?



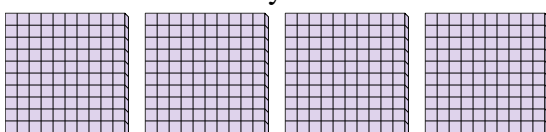
6) a. Combien de groupes de 100 y a-t-il?

b. Combien de blocs y a-t-il?



7) a. Combien de groupes de 100 y a-t-il?

b. Combien de blocs y a-t-il?



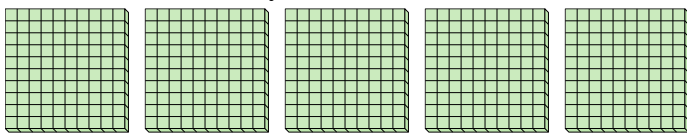


Utilisez les groupements pour répondre à chaque question.

**Réponses**

1) a. Combien de groupes de 100 y a-t-il?

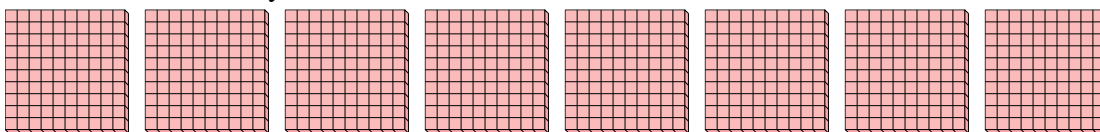
b. Combien de blocs y a-t-il?



1. **5** **500**

2) a. Combien de groupes de 100 y a-t-il?


b. Combien de blocs y a-t-il?



2. **8** **800**

3) a. Combien de groupes de 100 y a-t-il?

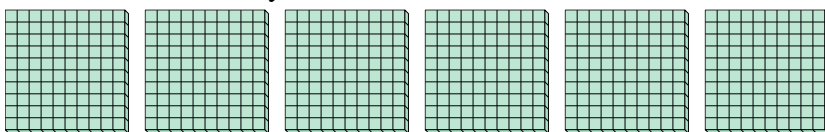
b. Combien de blocs y a-t-il?



3. **3** **300**

4) a. Combien de groupes de 100 y a-t-il?


b. Combien de blocs y a-t-il?



4. **6** **600**

5) a. Combien de groupes de 100 y a-t-il?


b. Combien de blocs y a-t-il?



5. **7** **700**

6) a. Combien de groupes de 100 y a-t-il?


b. Combien de blocs y a-t-il?



6. **1** **100**

7) a. Combien de groupes de 100 y a-t-il?

b. Combien de blocs y a-t-il?



7. **4** **400**