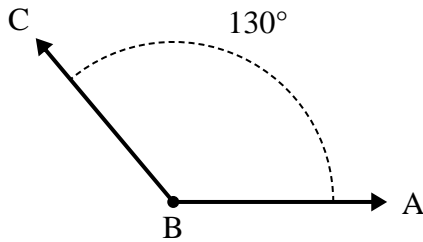




Résoudre chaque problème.

Réponses

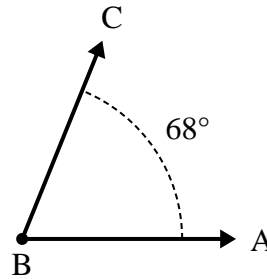
1)



A. Dessinez et étiquetez le rayon BD de manière à ce qu'il coupe l'angle ABC en deux angles plus petits, l'angle ABD mesurant les degrés de {MESURE}.

B. Quelle est la mesure de l'angle DBC ?

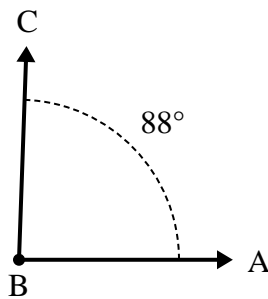
2)



A. Dessinez et étiquetez le rayon BD de manière à ce qu'il coupe l'angle ABC en deux angles plus petits, l'angle ABD mesurant les degrés de {MESURE}.

B. Quelle est la mesure de l'angle DBC ?

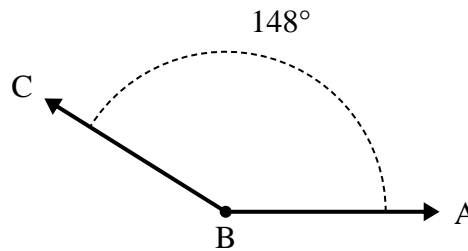
3)



A. Dessinez et étiquetez le rayon BD de manière à ce qu'il coupe l'angle ABC en deux angles plus petits, l'angle ABD mesurant les degrés de {MESURE}.

B. Quelle est la mesure de l'angle DBC ?

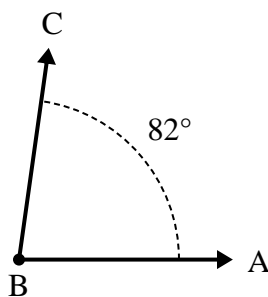
4)



A. Dessinez et étiquetez le rayon BD de manière à ce qu'il coupe l'angle ABC en deux angles plus petits, l'angle DBC mesurant les degrés de {MESURE}.

B. Quelle est la mesure de l'angle ABD ?

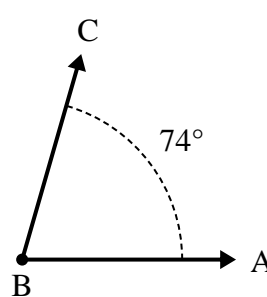
5)



A. Dessinez et étiquetez le rayon BD de manière à ce qu'il coupe l'angle ABC en deux angles plus petits, l'angle ABD mesurant les degrés de {MESURE}.

B. Quelle est la mesure de l'angle DBC ?

6)



A. Dessinez et étiquetez le rayon BD de manière à ce qu'il coupe l'angle ABC en deux angles plus petits, l'angle DBC mesurant les degrés de {MESURE}.

B. Quelle est la mesure de l'angle ABD ?

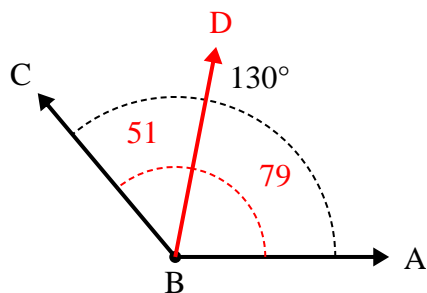
1. _____
2. _____
3. _____
4. _____
5. _____
6. _____



Résoudre chaque problème.

Réponses

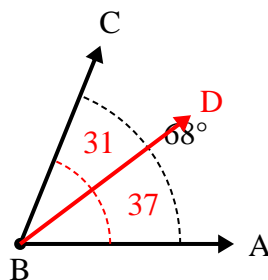
1)



A. Dessinez et étiquetez le rayon BD de manière à ce qu'il coupe l'angle ABC en deux angles plus petits, l'angle ABD mesurant les degrés de {MESURE}.

B. Quelle est la mesure de l'angle DBC ?

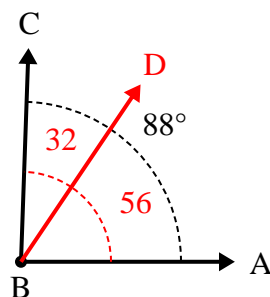
2)



A. Dessinez et étiquetez le rayon BD de manière à ce qu'il coupe l'angle ABC en deux angles plus petits, l'angle ABD mesurant les degrés de {MESURE}.

B. Quelle est la mesure de l'angle DBC ?

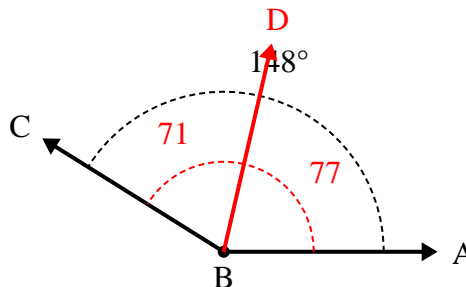
3)



A. Dessinez et étiquetez le rayon BD de manière à ce qu'il coupe l'angle ABC en deux angles plus petits, l'angle ABD mesurant les degrés de {MESURE}.

B. Quelle est la mesure de l'angle DBC ?

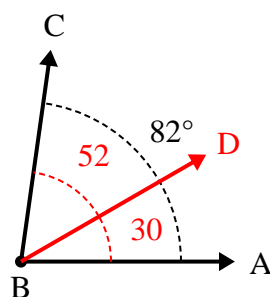
4)



A. Dessinez et étiquetez le rayon BD de manière à ce qu'il coupe l'angle ABC en deux angles plus petits, l'angle DBC mesurant les degrés de {MESURE}.

B. Quelle est la mesure de l'angle ABD ?

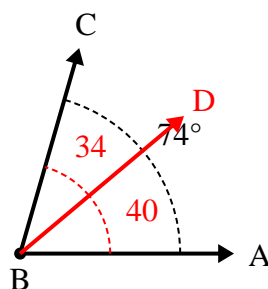
5)



A. Dessinez et étiquetez le rayon BD de manière à ce qu'il coupe l'angle ABC en deux angles plus petits, l'angle ABD mesurant les degrés de {MESURE}.

B. Quelle est la mesure de l'angle DBC ?

6)



A. Dessinez et étiquetez le rayon BD de manière à ce qu'il coupe l'angle ABC en deux angles plus petits, l'angle DBC mesurant les degrés de {MESURE}.

B. Quelle est la mesure de l'angle ABD ?

1. 51°
2. 31°
3. 32°
4. 77°
5. 52°
6. 40°