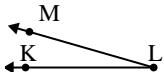




Résoudre chaque problème.

Réponses

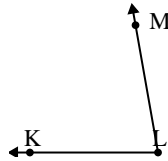
1)



Quelle réponse représente le mieux $\angle KLM$?

- A. 16°
- B. 83°
- C. 104°
- D. 131°

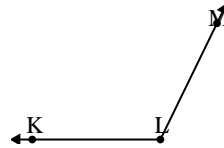
2)



Quelle réponse représente le mieux $\angle KLM$?

- A. 80°
- B. 15°
- C. 134°
- D. 102°

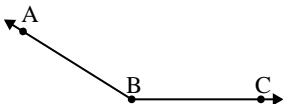
3)



Quelle réponse représente le mieux $\angle KLM$?

- A. 93°
- B. 38°
- C. 116°
- D. 11°

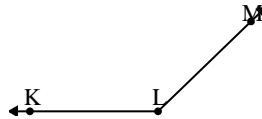
4)



Quelle réponse représente le mieux $\angle ABC$?

- A. 121°
- B. 100°
- C. 54°
- D. 148°

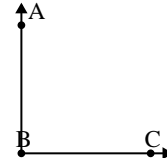
5)



Quelle réponse représente le mieux $\angle KLM$?

- A. 161°
- B. 12°
- C. 136°
- D. 95°

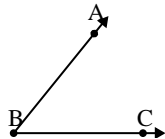
6)



Quelle réponse représente le mieux $\angle ABC$?

- A. 33°
- B. 60°
- C. 132°
- D. 90°

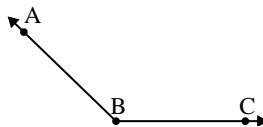
7)



Quelle réponse représente le mieux $\angle ABC$?

- A. 98°
- B. 10°
- C. 51°
- D. 136°

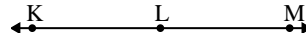
8)



Quelle réponse représente le mieux $\angle ABC$?

- A. 75°
- B. 136°
- C. 13°
- D. 49°

9)



Quelle réponse représente le mieux $\angle KLM$?

- A. 7°
- B. 157°
- C. 104°
- D. 180°

1. _____

2. _____

3. _____

4. _____

5. _____

6. _____

7. _____

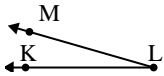
8. _____

9. _____



Résoudre chaque problème.

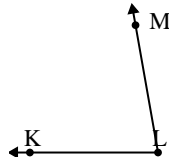
1)



Quelle réponse représente le mieux $\angle KLM$?

- A. 16°
- B. 83°
- C. 104°
- D. 131°

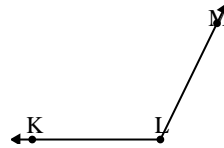
2)



Quelle réponse représente le mieux $\angle KLM$?

- A. 80°
- B. 15°
- C. 134°
- D. 102°

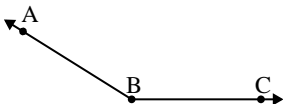
3)



Quelle réponse représente le mieux $\angle KLM$?

- A. 93°
- B. 38°
- C. 116°
- D. 11°

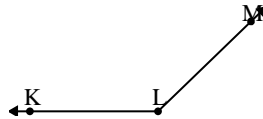
4)



Quelle réponse représente le mieux $\angle ABC$?

- A. 121°
- B. 100°
- C. 54°
- D. 148°

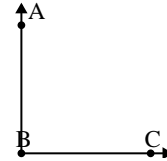
5)



Quelle réponse représente le mieux $\angle KLM$?

- A. 161°
- B. 12°
- C. 136°
- D. 95°

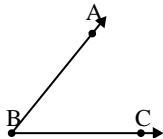
6)



Quelle réponse représente le mieux $\angle ABC$?

- A. 33°
- B. 60°
- C. 132°
- D. 90°

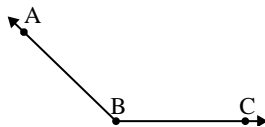
7)



Quelle réponse représente le mieux $\angle ABC$?

- A. 98°
- B. 10°
- C. 51°
- D. 136°

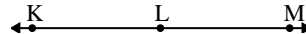
8)



Quelle réponse représente le mieux $\angle ABC$?

- A. 75°
- B. 136°
- C. 13°
- D. 49°

9)



Quelle réponse représente le mieux $\angle KLM$?

- A. 7°
- B. 157°
- C. 104°
- D. 180°

Réponses

- 1. **A**
- 2. **A**
- 3. **C**
- 4. **D**
- 5. **C**
- 6. **D**
- 7. **C**
- 8. **B**
- 9. **D**