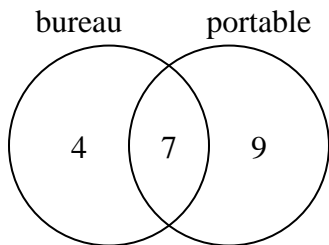




Utilisez le diagramme pour résoudre chaque problème.

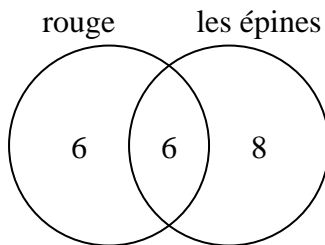
Réponses

- 1) Le diagramme ci-dessous montre les types d'ordinateurs que possèdent les élèves.



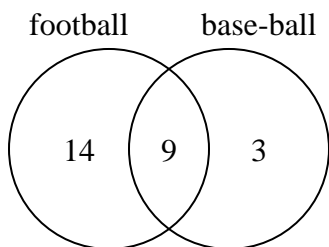
Combien d'étudiants ne possédaient pas à la fois un ordinateur de bureau et un ordinateur portable ?

- 2) Le diagramme ci-dessous montre les attributs des fleurs dans un magasin de fleurs.



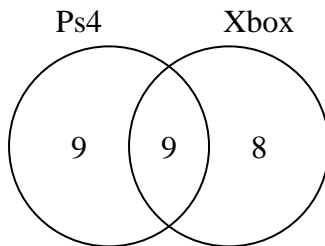
Combien de fleurs étaient rouges d'épines ?

- 3) Le schéma ci-dessous montre les sportifs regardés.



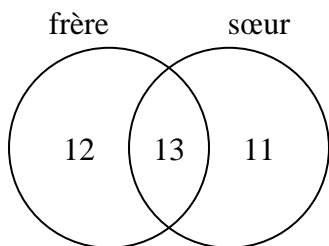
Combien de personnes ont regardé le football ?

- 4) Le diagramme ci-dessous montre les consoles de jeux que les élèves possèdent.



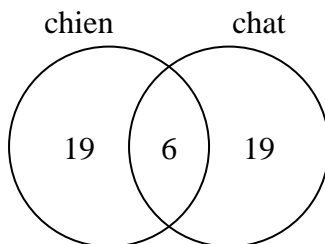
Combien de personnes possédaient à la fois une PS4 et une Xbox ?

- 5) Le schéma ci-dessous montre le sexe des frères et sœurs des élèves.



Combien d'élèves n'avaient pas à la fois un frère et une sœur ?

- 6) Le diagramme ci-dessous montre les animaux de compagnie des élèves d'une classe dont ils sont propriétaires.



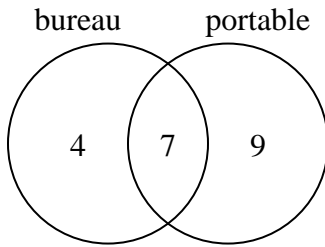
Combien de personnes avaient un chat ?

1. _____
2. _____
3. _____
4. _____
5. _____
6. _____



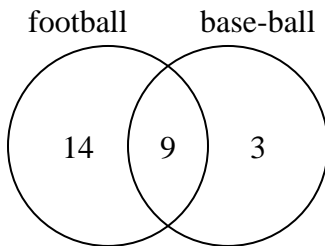
Utilisez le diagramme pour résoudre chaque problème.

- 1) Le diagramme ci-dessous montre les types d'ordinateurs que possèdent les élèves.



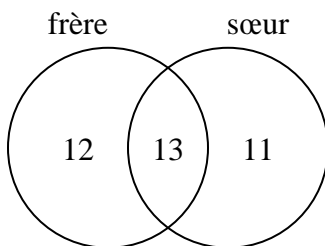
Combien d'étudiants ne possédaient pas à la fois un ordinateur de bureau et un ordinateur portable ?

- 3) Le schéma ci-dessous montre les sportifs regardés.



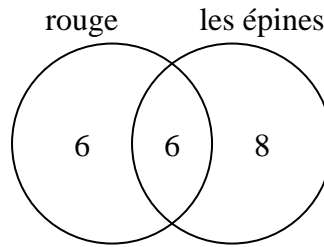
Combien de personnes ont regardé le football ?

- 5) Le schéma ci-dessous montre le sexe des frères et sœurs des élèves.



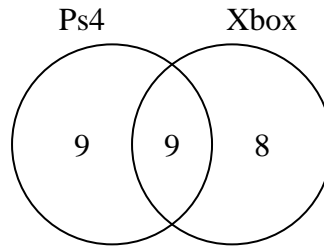
Combien d'élèves n'avaient pas à la fois un frère et une sœur ?

- 2) Le diagramme ci-dessous montre les attributs des fleurs dans un magasin de fleurs.



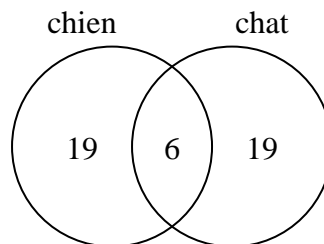
Combien de fleurs étaient rouges d'épines ?

- 4) Le diagramme ci-dessous montre les consoles de jeux que les élèves possèdent.



Combien de personnes possédaient à la fois une PS4 et une Xbox ?

- 6) Le diagramme ci-dessous montre les animaux de compagnie des élèves d'une classe dont ils sont propriétaires.



Combien de personnes avaient un chat ?

Réponses

1. **13**
 2. **6**
 3. **23**
 4. **9**
 5. **23**
 6. **25**